

2015年普通高等学校招生全国统一考试（福建卷）

文科综合

注意事项：

1. 本试卷分第 I 卷（选择题）和第 II 卷（非选择题）两部分。答题前，考生务必在将自己的姓名、考生号填写在答题卡上。
2. 回答第 I 卷时，选出每小题选出答案后，用铅笔把答题卡上对应题目的答案标号涂黑，如需改动，用橡皮擦干净后，再选涂其他答案标号。写在试卷上无效。
3. 回答第 II 卷时，将答案卸载答题卡上，写在试卷上无效。
4. 考试结束，将本试卷和答题卡一并交回。

第 I 卷（非选择题）

本卷共 36 小题，每小题 4 分，共 144 分。在每小题给出的四个选项中，只有一项最符合题目要求的。

图 1 示意我国某地循环农业生产模式。读图完成 1-2 题。

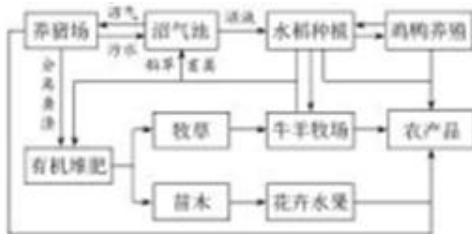


图 1

1. 该地的农业地域类型是
A. 季风水田农业 B. 乳畜业 C. 大牧场放牧业 D. 混合农业
2. 该生产模式的农产品深受消费者青睐是因为
A. 价格低廉 B. 减耗保鲜 C. 绿色优质 D. 品种丰富。

图 2 示意某区域气候要素的逐月变化。读图完成 3-4 题。

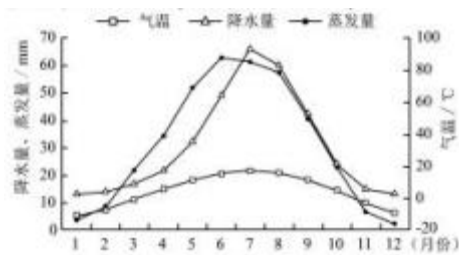


图 2

3. 造成 4-6 月蒸发量逐月上升的主要原因是
①气温上升 ②降水量增多 ③风力增大 ④云量减少
A. ①② B. ②③ C. ①④ D. ③④
4. 该区域当年水分累积亏损最为严重的月份是
A. 3 月 B. 6 月 C. 9 月 D. 12 月

一个国家中某种商品出口的比较优势程度用 R 值表示，R 值越大表示该商品出口的优势越强。表 1 为 2005-2012 年中国、东南亚 Y 国出口商品比较优势前六位的 R 值。读表完成 5-6 题。

| | | | | | | |
|--------------|-------------|-------------|--------------|-------------|-------------|-------------|
| 中国商品 R 值 | 旅游用品 4.0 | 鞋子 3.5 | 服装 3.4 | 办公设备 3.3 | 纺织制品 2.8 | 电信设备 2.7 |
| Y 国商品 R 值 | 鞋子 12.3 | 水产品 10.9 | 天然橡胶 10.0 | 咖啡可可 8.1 | 服装 5.5 | 谷物 4.8 |


5. 中国，Y 国商品出口的共同特点是

- A. 工业品比较优势强 B. 工业品所占比重小 C. 农产品比较优势弱 D. 农产品出口总量大

6. 决定 Y 国鞋子、服装出口优势的生产要素是

- A. 科技 B. 资金 C. 劳动力 D. 原材料

图 2 示意我国不同生育率方案预测的 2050 年人口结构。读图完成 7-8 题。



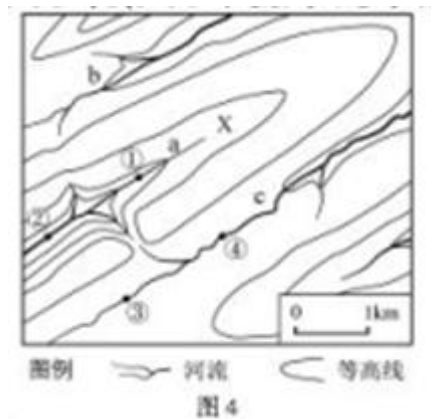
7. c 方案与 a 方案的人口结构比较，差异最大的是

- A. 人口性别比 B. 老年人口比重 C. 青壮年人口比重 D. 少儿人口比重

8. 从我国可持续发展的角度判断，三种生育方案

- A. a 方案较合理 B. b 方案较合理 C. c 方案较合理 D. 均不合理

图 4 示意某地的等高线分布，从 a 河谷到 b、c 河谷的地层均由老到新。读图完成 9-10 题。



9. 图中 X 地的地质构造地貌最可能为

- A. 背斜谷 B. 背斜山 C. 向斜谷 D. 向斜山

10. 若 a、c 两河的支流相连，则流量显著增大的地点是

- A. ① B. ② C. ③ D. ④

图 6 为某摄影爱好者在图 5 中广袤草原上拍摄的“日出”美景。读图完成 11-12 题。

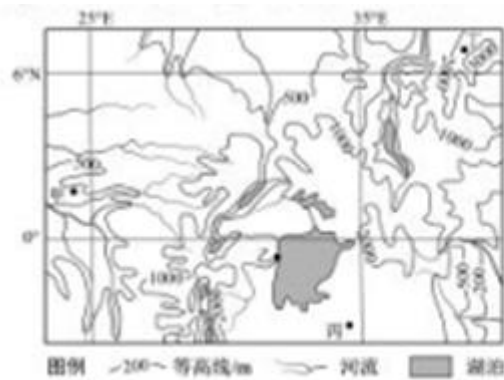


图5



图6

- 11.摄影爱好者拍摄“日出”美景的方向和北京时间分别是
- A. 东南 7月1日06时 B. 东北 7月1日06时
- C. 东北 1月1日12时 D. 东南 1月1日12时

- 12.拍摄“日出”美景的地点是图5中的
- A. 甲 B. 乙 C. 丙 D. 丁

13.图7是《说文解字》列出的“历”“史”二字的篆书。许慎解释道，“历”者，过也，传也。“史”者，记事者也，从又持中；中，正也。据此可知，“历史”的原意是指

- A. 过去发生的一切事件
- B. 过去事实的文字记载
- C. 记录过往事物的书籍
- D. 代代相传的文化形式



图7

14.《景德镇陶录》记：“唐武德中，镇民陶玉者载瓷入关中，称为假玉器，且贡于朝。于世昌南镇瓷名天下”。《江西通志》载：“景德镇……水土宜陶。宋景德中始置镇，因名”。材料反映了

- A. 唐时瓷都景德镇已驰名天下
- B. 陶玉身份为官营手工业者
- C. 该产品工艺精美畅销海内外
- D. 陶玉追求产品的知名度

15.元初，中书省“省规”：三日一奏事，军国事务不拘于此限；定时由首领官排定需议事项，逐项讨论，事关重大且意见不同时将实情禀奏皇帝。这表明中书省

- A. 专为处理军国急事而设
- B. 强调集体议决防止大臣专权
- C. 通过分割权力强化相权
- D. 任何决策之事实时禀报皇帝

16.关汉卿在《关大王独会单刀会》中，描绘关于面对大江的滚滚波涛，仗刀临流。曲中唱到：“大江东去浪千叠……驾着这小舟一叶……可正是千丈虎狼穴……我觑这单刀会似赛村社”。对该作品理解有误的是（ ）

- A 显示关羽壮怀激烈的个性
- B 借历史典故吊古抚今
- C 严厉斥问颠倒黑白的世界
- D 兼采宋词的豪放风格

17. 顾炎武在《日知录》中说：“今将静百姓之心，而改其行，必在制民之产，使之甘其食，美其服，而后教化可行，风俗可善也”。在此，顾炎武强调（ ）

- A 培养人才，经世致用
- B 弘扬道德，规范言行
- C 富足百姓，移风易俗
- D 教化民众，静心明志

18. 图 8 为中国 1952—1960 年工农业总产值变化图，对此分析符合史实的是（ ）

- A “过渡时期”农业总产值始终超过工业总产值
- B “三大改造”期间工业总产值均高于农业总产值
- C “一五”计划完成时工农业总产值都大幅度的提高
- D “大跃进”使工农业总产值增长呈现背离状态

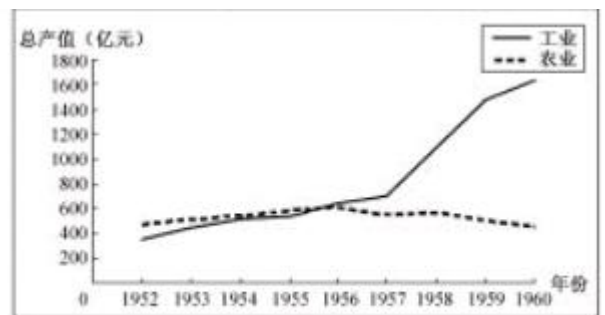


图 8

19. 托马斯·卡伦德写道：“在历史的某个时刻，在欧洲眇窄的一隅，生活着近百万陆地和海岛居民，他们所拥有的自然资源极其匮乏，却创造出了最原创、最绚丽的文化、商业、社会秩序和政治……闻名遐迩”。材料反映的是

- A. 古希腊文明
- B. 古罗马文明
- C. 不列颠文明
- D. 阿拉伯文明

20. 图 9、10、11 是有关美国邦联政府、议会与州关系的一组漫画。该组漫画反映了



图 9



图 10




图 11

- A. 邦联政府拥有征税权与财政权
- B. 邦联议会须扩大法定权力
- C. 邦联政府各项活动须听命于各州
- D. 邦联议会财政支出须各州批准

21. 17 世纪上半叶，欧洲国家纷纷到亚洲进行殖民活动，引发了亚洲海上贸易格局的变化。对此，表述正确的是

- A. 荷兰通过设立据点控制东亚海上商路
- B. 英国打败法国垄断了对印度的贸易
- C. 欧洲殖民扩张迫使中国放弃海禁政策
- D. 世界贸易中心转移到西太平洋沿岸

22.16、17 世纪欧洲学者质疑、改变和放弃了欧洲所继承知识中最神圣化的知识。科学革命的思想巨变使他们重新考察和描述宇宙的性质及其力量。在这里，对宇宙的性质及其力量作出“革命”性描述的理论是

- A.进化论 B.万有引力定律 C.量子论 D.相对论

23.列夫托尔斯泰被列宁誉为“俄国千百万农民在俄国资产阶级革命快到来时候的思想和情绪的表现者”。材料表明，托尔斯泰是

- A.农民运动的引领者 B.资产阶级革命的倡导者
C.批判现实主义作家 D.伟大的无产阶级文学家

24.表 2 为 20 世纪前期中国对外贸易出入超变动表。表中数据变动可以用来佐证

| 年份 | 美国 | 英国 | 法国 | 俄国(苏联) |
|-----------|------|------|-----|--------|
| 1909-1911 | 0 | -90 | +56 | +46 |
| 1919-1921 | -89 | -110 | +32 | +14 |
| 1929-1931 | -205 | -76 | +40 | +53 |

- A.美国逐步加强对华经济侵略 B.英国对华贸易优势逐步加强
C.法国强化对华转嫁经济危机 D.俄国（苏联）对华贸易稳步增加

25.法修正案草案经历全国人大全委会“一审”——公开征求意见——“二审”——再次公开征求意见，最后提交十二届全国人大三次会议，接受“三审”。此过程表明

- ①政府坚持对人民负责原则 ②全国人大常委会具有最高决定权
③社会主义民主具有广泛性和真实性 ④人民代表大会制度实行民主集中制原则
A. ①② B. ①③ C. ②④ D. ③④

26.规范党内生活，到铁面问责严格执纪；从亮短揭丑的民主生活会，到重拳破除各种潜规则。党的十八大以来，守底线、讲原则、重法治成为新常态，这有利于广大党员

- A.牢记党的宗旨，发挥先锋模范作用 B.强化执政意识，履行国家管理职能
C.遵守党纪国法，扩大党的群众基础 D.遵循客观规律，提高依法行政能力

27.2015 年 4 月，中国领导人在万隆亚非峰会上表示，中国将于年内对已建交的最不发达国家 97%税目产品给予零关税的待遇，并继续向发展中国家提供不附加任何政治条件的援助。此举体现了中国坚持

- A.合作共赢理念，推动亚非地区共同发展 B.求同存异思想，维护世界的和平与安全
C.和平共处原则，主导国际政治经济秩序 D.开放包容态度，顺应多极化发展的潮流

28.撰写《大众传媒与现代公民素养》的论文，在图书馆查到了下面四篇文章。从篇名判断，最符合论文主题的是

- A.现代社会互联网传播特点探究 B.网络时代文化传播手段的研究
C.网络背景下高中生形象的塑造 D.2014 年央视收视率的调查分析

29.是汉字“文”的书写变化的过程，从中我们可以解读出

- ①汉字的产生与发展是一种自然现象
- ②汉字在历史变迁中进行传承和发展
- ③文化都是自己时代的精神上的精华
- ④文化的变化与发展有其固有的规律

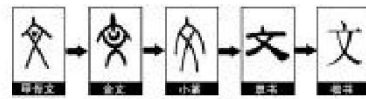


图 12

- A. ①③ B. ①④ C. ②③ D. ②④

30. 慷慨悲歌之士，吴楚多放诞纤丽之文，自古然矣。自唐以前，长城饮马，河梁携手，北人之气概也；江南草长，洞庭始波，南人之情怀也。上述文字

- A. 形象地描述了中华文化源远流长的特征 B. 生动地展现了区域文化独具特色的风采
C. 说明了中华各民族文化多元一体的原因 D. 彰显了中华文化五千年自强不息的品格

31. 胀是指经济运行中出现的物价总水平持续上涨的现象。当一国的通货膨胀率持续以两位数的水平变化时，有可能出现的情况是

- A . 居民的生活质量提升 B . 百姓的储蓄意愿明显降低
C . 生产者投资欲望减弱 D . 工薪阶层处于有利的地位

32 . 立国之道，惟在富民。近年来，某省财政用于教育、社会保障与就业、医疗卫生、住房保障等民生方面的支出占总支出的比重逐年增长，2014 年达到 75 . 6 %。这些支出

- ①能够有效促进财政收支平衡
- ② 强化财政在资源配置中的旅础作用
- ③ 有助于实现宏观调控的目标
- ④能够促进社会公平、改善人民生活

- A . ①② B . ①③ C . ②④ D . ③④

33 . 如果没有政府最低工资的形响，劳动市场通过供求力量将自动达到均衡。如图 13 所示，在 E 点实现均衡的劳动价格和劳动供求数量。现假定政府制定的最低工资 W_1 高于市场均衡价格，由此带来的影响，一般情况下，最合理的是

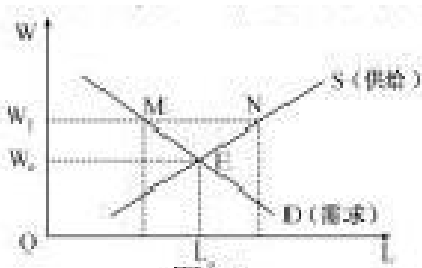


图 13

- A . 推动企业科技创新，采用先进技术 B . 强化政府经济监管，激发劳动热情
C . 增加劳动市场需求，减轻就业压力 D . 优化企业人才结构，增强竞争优势

34 . 意识是物质世界长期发展的产物下列能正确反映意识产生的历史演进顺序的选项是

- ① 滴水穿石
- ② 根系沃土
- ③ 敬德保民
- ④ 犬吠非主

- A. ①→②→④→③ B. ②→①→④→③
C. ③→①→④→② D. ①→④→②→③

35. 研究人员将一密闭透明的实验装置（如图 14）置于晴天的室外，对其进行 24 小时测定，得出某气体含量的变化曲线（如图 15）。该实验体现的哲学道理是



图 14

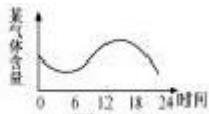


图 15

- ① 事物的发展是前进性和曲折性的统一 ② 对事物的认识是一个循环往复的过程
 ③ 认识世界和改造世界要坚持实事求是 ④ 客观事物的联系因条件的变化而变化
 A. ①② B. ①④ C. ②③ D. ③④

36. 一堵墙挡住了视野，找个东西把脚垫高，问题就解决了。可是找不到垫脚之物，于是，便把墙上的砖拆掉垫在脚下……。漫画（图 16）给我们的警示与下列古诗所蕴含的哲理最为接近的是



图 16

- A. 踏破铁鞋无觅处，得来全不费工夫 B. 人间四月芳菲尽，山寺桃花始盛开
 C. 不畏浮云遮望眼，只缘身在最高层 D. 横看成岭侧成峰，远近高低各不同

第 II 卷（非选择题）

必考部分

37. （37 分）图 17 示意关中地区和楚河地区。阅读图文材料，回答下列问题。

材料一 发源于关中地区的戏剧“秦腔”，历史源远流长。古丝绸之路上的楚河中游地区有一块“秦腔飞地”（乙城附近），当地有数万人是关中地区居民的后裔，至今仍保留着原有的民间文化和风俗习惯。

材料二 吉尔吉斯斯坦多山地，林木等资源丰富；农业以畜牧业和小麦、棉花等种植业为主，在楚河中游地区，中吉两国合资建设的造纸厂规模与产量居中亚地区前茅。

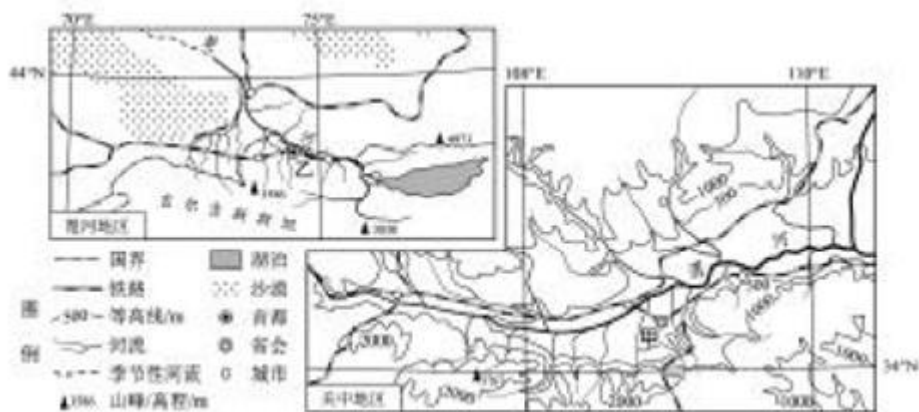


图 17

- (1) 说出渭河平原南北两侧（沿 108° E）的地形特征差异。（8 分）
- (2) 简述甲、乙城市共同的区位优势（12 分）
- (3) 分析楚河中游地区出现“秦腔飞地”的原因。（8 分）
- (4) 楚河中游地区某中学的同学对造纸厂的规模是否扩大展开讨论，形成了两种不同的看法。选择你支持的一种看法，并为其提供论据。（9 分）

A: 可扩大造纸厂规模。 B: 不宜扩大造纸厂规模。

38. (36 分) 阅读下列材料，回答问题。

材料一 1969 年 1 月，共和党人尼克松就任美国总统。当时正值美国面临着自二战结束以来最为严峻的形势。越南战争的沉重负担，国内政治、经济以及社会危机的加深。使美国在苏联争霸中，日益处于不利的地位……1971 年 6 月尼克松又在堪萨斯的一次讲话中提出今天世界上有“五个力量中心”（美国、苏联、西欧、中国和日本）的看法。为了适应这种新的形势，并改善美国同苏联争霸中的不利处境，尼克松决定要在中国“为自己找一个可以依靠的有利地位”。——摘编自方连庆《战后国际关系史》

材料二 1972 年 2 月尼克松访华，跨出了改善中美关系的第一步。2 月 28 日，中美双方在上海发表了《联合公报》，这是中美关系的一个重要转折点。标志着中美两国关系进入了一个新时期，这对世界形势的发展产生了深远的影响。此后，双方的贸易、科技和文化往来逐渐增多。与此同时，为进一步促进两国关系的正常化，中美双方政府官员也在进行不断接触。——摘编自谢益显《中国外交史》

材料三 二战结束后，日本政府长期执行追随美国、歧视中国的政策。50 年代以来，随着中日两国民间贸易和人员往来的增多，日本各界人士要求恢复中日邦交的呼声越来越高……1972 年 2 月，尼克松访华对日本产生极大的震动。日本把美国的这种举动视为“越顶外交”……1972 年 9 月 29 日，中日两国建立外交关系。——摘编自王圣心《当代国际关系》

材料四 田中首相来我国访问，解开了中日关系史上新的一页。在我们两国的历史上，有着两千年来来的油耗往来和文化交流……值得我们珍视。但是，自从 1894 年以来的半个世纪中，由于日本军国主义者侵略中国，使得中国人民遭受重大灾难，日本人民也深受其害。前事不忘，后事之师，这样的经

验教训,我们应该牢牢记住。

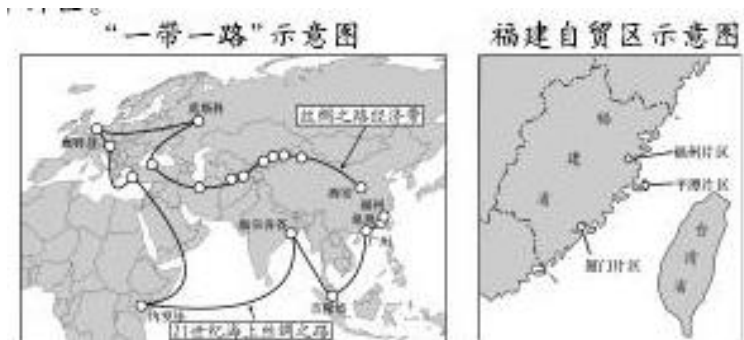
——摘自《周恩来政论选》

- (1) 据材料一,概括尼克松决定要在中国“为自己找一个可以依靠的有利地位”的原因。(8分)
- (2) 据材料二并结合所学知识,指出中美关系走向正常化的关键问题是什么?怎样理解《联合公报》的发表是中美关系发展的一个重要转折点?(8分)
- (3) 就材料三并结合所学知识,日本对美国“越顶外交”的举动作何反应?分析日本对华政策为什么会出现这样的重大改变?(10分)
- (4) 综合材料三、四并结合甲午战争以来中国百年史,试从日、中两方面解释周恩来所指出的“前事不忘,后事之师”的含义。(10分)

39. (42分) 阅读材料,回答问题。

“乘风破浪会有时,直挂云帆济沧海”。同心逐梦的中国,正在以博大宽广的胸怀、心系天下的情怀,奏响“一带一路”交响曲,谱写自贸区战略新华章。

材料一 2013年,中国国家主席习近平提出共建“丝绸之路经济带”和“21世纪海上丝绸之路”(简称“一带一路”)的倡议,得到了沿线国家和地区的热列响应。2015年3月,福建被国家定位为“21世纪海上丝绸之路核心区”。2015年4月,中国(福建)自由贸易试验区(简称福建自贸区)正式成立,实施范围涵盖平潭、厦门和福州三个片区。



材料二 依法治国是实现国家治理体系和治理能力现代化的必然要求。自2013年以来,在党中央领导下,全国人大健全法制,国务院统筹协调,各有关部门协同实施,社会各界群策群力,福建自贸区筹建工作依法有序推进。目前,福建省围绕立足两岸、服务全国、面向世界的战略要求,确立了自贸区重点实验项目186项,涉及体制创新、对台开放、投资管理、法制保障、市场监管等方面,自贸区建设全面铺开。

材料三 一部海上丝绸之路的发展史,既是中华民族走向海洋、走向世界的历史,也是东西方经济文化交流互动、共生共荣的历史。共建21世纪海上丝绸之路,是一条开放合作、和谐包容、互利共赢之路。对此,同学们围绕“经济和文化何者先行”展开讨论。

| 观点 | 论据及论证过程 |
|----------|---|
| 观点一：经济先行 | 经济决定文化，文化是经济的反映，共建海上丝绸之路。离不开文化的交流合作，但更重要的是经济的发展。 |
| 观点二：文化先行 | 文化越来越成为经济社会发展的重要支撑，只有文化上的相互理解尊重、交流合作，才能保证经济上的互利共赢 |

(1) 结合材料一和材料二，运用《经济生活》相关知识，概述“福建自贸区”和“海丝核心区”的建设，对福建加快转变经济发展方式将产生的积极影响(12分)

(2) 联系材料二，运用《政治生活》相关知识，简要分析福建自贸区建设应如何依法推进。(9分)

(3) 材料三中的讨论运用了两点论和重点论相统一的方法，简要说明他们是如何运用这种方法的，以及为什么会产生这种观点上的分歧。(9分)

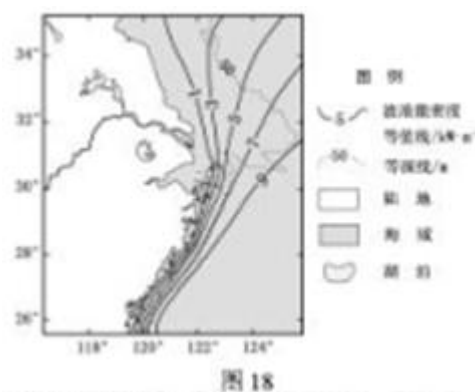
(4) 参考材料一和材料三，从文化发展的角度，展望中华文化与沿线各民族文化交流合作的美好远景(12分)

选考部分(15分)

40. (15分) 在A、B、C三题中任选一题作答。答题时请在答题卡对应的位置上填涂选答的题号。

A. 【选修2—海洋地理】

波浪能是指海洋表面所具有的动能和势能。图18示意我国沿海局部海域波浪能密度的分布。读图回答下列问题。



(1) 指出该海域波浪能密度大小的南北差异，并分析其原因。(9分)

(2) 简述我国波浪能利用的前景。(6分)

B. 【选修 5—自然灾害与防治】

风暴潮是指由于强烈大风扰动，引起近海水面异常升高，海水侵溢上陆的现象。图 19 示意我国东南沿海某省超警戒风暴潮平均发生次数的逐月变化。读图回答下列问题。

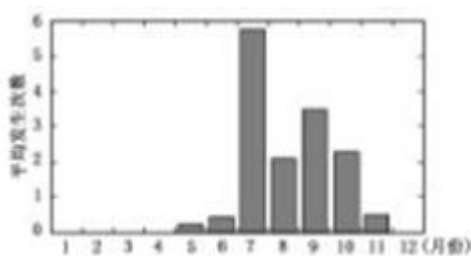


图 19

- (1) 指出该省超警戒风暴潮发生的主要季节，并分析其原因。(9 分)
- (2) 简述该省防御风暴潮灾害应采取的主要措施。(6 分)

C. 【选修 6—环境保护】

图 20 示意我国东北某区域不同时期人口数量和耕地、湿地面积的变化。读图回答下列问题。

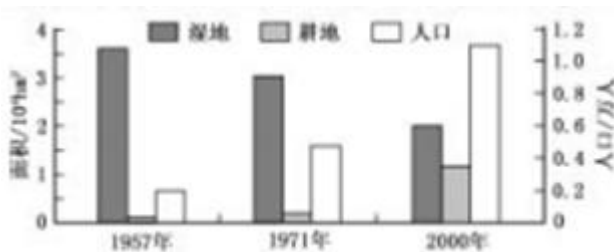


图 20

- (1) 指出该区域湿地面积变化的特点，并分析其原因。(9 分)
- (2) 简述该区域保护湿地应采取的主要措施。(6 分)

41. (16 分 (历史))

请在 A、B、C 三题中任选一题作答。答题时请在答题卡对应位置上填涂选答的题号。

A. 【选修 1——历史上重大改革回眸】

材料一 自祖宗承五代之乱……而又田制不立，田亩转移、丁口隐瞒、兼并伪冒者未尝考按，故赋入之利视古为薄……以东西南北各千步，当四十一顷六十六亩一百六十步，为一方……方量毕，以地及色，参定肥瘠，而分五等，以定税则。

——摘自马端临《文献通考》卷四《田赋考》

材料二 应将王安石变法置入唐宋变革的历史契机中考察。北宋处在中古田制瓦解，契约租佃经济确立的社会转型时期，经济制度、政治制度、思想观念和文化理念等都有所改变……改革的成败得失，绝非改革者的执拗性格使然，也不能单从集团斗争上去寻找原因，必须深入到表面冲突下的时代潜流中去探究。

——摘自李华瑞《王安石变法研究史》

(1) 材料一反映了王安石变法的哪项法令？结合所学知识，说明该法实施的目的。(6分)

(2) 材料二中的“社会转型”在经济上有何表现？结合所学知识，简析王安石改革成败得失必须“深入到表面冲突下的时代潜流中去探究”。(10分)

B. 【选修2——近代社会的民主思想与实践】

阅读下列材料，回答问题。

材料一 1789年，围绕着“人类应该在怎样的基础上缔造自己的社会？”一场前所未有的大辩论正在六边形的国土上展开。在争论的双方中，一方打着维护历史传统的旗号，积极鼓吹神赋权利、等级制度和行业组合；另一方则宣扬人类的创造性，主张天赋权利以及理性和正义。这场涉及哲理的政治辩论的关键所在，一言以蔽之，就是确认占法国人口三分之二的第三等级拥有何种地位。

——摘编自吕一民《法国通史》

材料二 《1791年宪法》是法国从传统的贵族社会跨入近代公民社会的法律标志。它规定，年满25岁的男子为公民，又提出财产资格限制，“至少已经缴纳了相当于三个工作日价值的直接税”者享有选举权，为积极公民；未达到者无选举权，是消极公民。《1793年宪法》取消了积极公民与消极公民的划分。第二共和国时期，法国选民人数猛增至900多万。

——摘编自高九江《启蒙推动下的欧洲文明》

(1) 材料一中大辩论的焦点是什么？为什么会成为焦点？(6分)

(2) 材料二中法国是如何扩大民众选举权的？据上述材料并结合所学知识，分析推动这一进程的因素。(10分)

C. 【选修4——中外历史人物评说】

阅读下列材料，回答问题。

材料一 御史台是唐代的最高中央监察机关。唐太宗注意以御史治吏。他采纳御史大夫李乾祐的奏请，增设殿中侍御史和监察御史各二人。贞观末年，“于台中置东西二狱”，委御史台有“鞠(审问)蒙禁系”之权。

——摘编自邱永明《中国古代监察制度史》

材料二 人欲自照，必须明镜；主欲知过，必藉忠臣。主若自贤，臣不匡正，欲不危败，岂可得乎？故君失其闻，臣亦不能独全其家。至于隋炀帝暴虐，臣下树口，卒令不闻其过，遂至灭亡……朕每闲居静坐，则自内省。恒恐上不称天心，下为百姓所怨。但思正人匡谏，欲令耳目外通，下无怨滞。

——摘自吴兢《贞观政要》卷二《求谏》

(1) 据材料一，概括唐太宗以御史治吏的主要特点。(6分)

(2) 材料二中唐太宗认为隋亡的主要原因是什么？综合上述材料，分析唐太宗是如何做到君明臣廉的。

(10分)

42. (10分) 思想政治

请在A、B两题中任选一题作答，答题时请在答题卡对应位置上填涂选答得题号。

A【选修3—国家和国际组织常识】

我国是一个统一的多民族国家。几千年来中华民族把团结统一看做“天地之长经，古今之通义”近代以来，在抵御外来侵略和长期革命斗争中，各民族人民形成了生死相依、休戚与共的血肉关系。新中国成立后，我国形成了平等团结互助和谐社会主义新型民族关系，实行民族区域自治制度。维护民族团结和国家统一是各民族最高利益，各民族要相互了解、相互包容、相互欣赏、相互学习、相互帮助，像石榴籽那样紧紧抱在一起。

(1) 我国的组织形式是(4分)

A 单一制 B 联邦制 C 总统制

(2) 结合材料，运用所学知识，简述我们应如何维护民族团结和国家统一。(6分)

B[选修4—科学思维常识]

篮球场上，某著名球星行云流水般的摆脱防守队员，优雅地上篮或远投，当人们问他是如何做到的这一切时，他很自然地说，这就是“球感”。一个熟练的司机面对复杂的交通状况，不需要经过完整的推理，就能及时作出准确的判断和处理，这就是所谓的“路感、车感”上述看似不假思索的“感觉”，并不是一种本能的反应，而是在长期的学习和实践中形成的一种特殊的洞察事物的思维活动。

(1) 从科学思维的角度看，这种特殊的思维活动称之为(4分)

A 类比 B 直觉 C 演绎

(2) 结合材料，简要说明这种思维活动所具有的特征(6分)