

2015 年普通高等学校招生全国统一考试 (福建卷)

数 学 (文史类)

一、选择题: 本题共 12 小题, 每小题 5 分, 共 60 分, 在每小题给出的四个选项中, 只有一项是符合题目要求的.

1. 若  $(1+i)+(2-3i)=a+bi$  ( $a, b \in R, i$  是虚数单位), 则  $a, b$  的值分别等于 ( )

- A. 3, -2    B. 3, 2    C. 3, -3    D. -1, 4

2. 若集合  $M = \{x | -2 \leq x < 2\}$ ,  $N = \{0, 1, 2\}$ , 则  $M \cap N$  等于 ( )

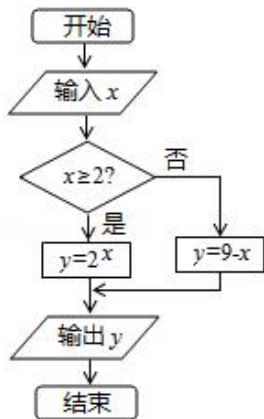
- A.  $\{0\}$     B.  $\{1\}$     C.  $\{0, 1, 2\}$     D.  $\{0, 1\}$

3. 下列函数为奇函数的是 ( )

- A.  $y = \sqrt{x}$     B.  $y = e^x$     C.  $y = \cos x$     D.  $y = e^x - e^{-x}$

4. 阅读如图所示的程序框图, 阅读相应的程序. 若输入  $x$  的值为 1, 则输出  $y$  的值为 ( )

- A. 2    B. 7    C. 8    D. 128



5. 若直线  $\frac{x}{a} + \frac{y}{b} = 1$  ( $a > 0, b > 0$ ) 过点  $(1, 1)$ , 则  $a + b$  的最小值等于 ( )

- A. 2    B. 3    C. 4    D. 5

6. 若  $\sin \alpha = -\frac{5}{13}$ , 且  $\alpha$  为第四象限角, 则  $\tan \alpha$  的值等于 ( )

- A.  $\frac{12}{5}$     B.  $-\frac{12}{5}$     C.  $\frac{5}{12}$     D.  $-\frac{5}{12}$

7. 设  $\vec{a} = (1, 2)$ ,  $\vec{b} = (1, 1)$ ,  $\vec{c} = \vec{a} + k\vec{b}$ . 若  $\vec{b} \perp \vec{c}$ , 则实数  $k$  的值等于 ( )

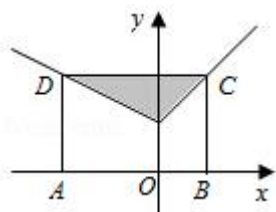
- A.  $-\frac{3}{2}$     B.  $-\frac{5}{3}$     C.  $\frac{5}{3}$     D.  $\frac{3}{2}$

8. 如图, 矩形  $ABCD$  中, 点  $A$  在  $x$  轴上, 点  $B$  的坐标为  $(1, 0)$ . 且点  $C$  与点  $D$  在函数

$f(x) = \begin{cases} x+1, & x \geq 0 \\ -\frac{1}{2}x+1, & x < 0 \end{cases}$  的图像上. 若在矩形  $ABCD$  内随机取一点, 则该点取自阴影部分的概率等于

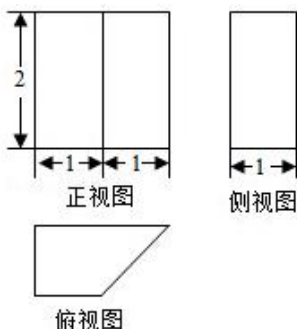
( )

- A.  $\frac{1}{6}$     B.  $\frac{1}{4}$     C.  $\frac{3}{8}$     D.  $\frac{1}{2}$



9. 某几何体的三视图如图所示, 则该几何体的表面积等于 ( )

- A.  $8+2\sqrt{2}$     B.  $11+2\sqrt{2}$     C.  $14+2\sqrt{2}$     D. 15



10. 变量  $x, y$  满足约束条件  $\begin{cases} x+y \geq 0 \\ x-2y+2 \geq 0 \\ mx-y \leq 0 \end{cases}$ , 若  $z=2x-y$  的最大值为 2, 则实数  $m$  等于 ( )

- A. -2    B. -1    C. 1    D. 2

11. 已知椭圆  $E: \frac{x^2}{a^2} + \frac{y^2}{b^2} = 1 (a > b > 0)$  的右焦点为  $F$ . 短轴的一个端点为  $M$ , 直线  $l: 3x-4y=0$  交椭圆  $E$  于  $A, B$  两点. 若  $|AF|+|BF|=4$ , 点  $M$  到直线  $l$  的距离不小于  $\frac{4}{5}$ , 则椭圆  $E$  的离心率的取值范围是 ( )

- A.  $(0, \frac{\sqrt{3}}{2}]$     B.  $(0, \frac{3}{4}]$     C.  $[\frac{\sqrt{3}}{2}, 1)$     D.  $[\frac{3}{4}, 1)$

12. “对任意  $x \in (0, \frac{\pi}{2})$ ,  $k \sin x \cos x < x$ ” 是 “ $k < 1$ ” 的 ( )

- A. 充分而不必要条件    B. 必要而不充分条件    C. 充分必要条件    D. 既不充分也不必要条件

## 第 II 卷 (非选择题共 90 分)

二、填空题: 本大题共 4 小题, 每小题 4 分, 共 16 分. 把答案填在答题卡的相应位置.

13. 某校高一年级有 900 名学生, 其中女生 400 名, 按男女比例用分层抽样的方法, 从该年级学生中抽取一个容量为 45 的样本, 则应抽取的男生人数为\_\_\_\_\_.

14. 若  $\triangle ABC$  中,  $AC = \sqrt{3}$ ,  $A = 45^\circ$ ,  $C = 75^\circ$ , 则  $BC =$ \_\_\_\_\_.

15. 若函数  $f(x) = 2^{|x-a|} (a \in R)$  满足  $f(1+x) = f(1-x)$ , 且  $f(x)$  在  $[m, +\infty)$  上单调递增, 则实数  $m$  的最小值等于\_\_\_\_\_.

16. 若  $a, b$  是函数  $f(x) = x^2 - px + q (p > 0, q > 0)$  的两个不同的零点, 且  $a, b, -2$  这三个数可适当排序后成等差数列, 也可适当排序后成等比数列, 则  $p+q$  的值等于\_\_\_\_\_.

三、解答题: 本大题共 6 小题, 共 74 分. 解答应写出文字说明, 证明过程或演算步骤.

17. (本小题满分 12 分)

等差数列  $\{a_n\}$  中,  $a_2 = 4$ ,  $a_4 + a_7 = 15$ .

(I) 求数列  $\{a_n\}$  的通项公式;

(II) 设  $b_n = 2^{a_n - 2} + n$ , 求  $b_1 + b_2 + b_3 + \cdots + b_{10}$  的值.

18. (本小题满分 12 分)

全网传播的融合指数是衡量电视媒体在中国网民中影响力的综合指标. 根据相关报道提供的全网传播 2015 年某全国性大型活动的“省级卫视新闻台”融合指数的数据, 对名列前 20 名的“省级卫视新闻台”的融合指数进行分组统计, 结果如表所示.

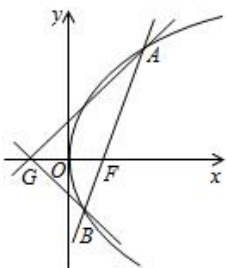
组号	分组	频数
1	[4, 5)	2
2	[5, 6)	8
3	[6, 7)	7
4	[7, 8]	3

(I) 现从融合指数在  $[4, 5)$  和  $[7, 8]$  内的“省级卫视新闻台”中随机抽取 2 家进行调研, 求至少有 1 家的融合指数在  $[7, 8]$  内的概率;

(II) 根据分组统计表求这 20 家“省级卫视新闻台”的融合指数的平均数.

19. (本小题满分 12 分)

已知点 F 为抛物线  $E: y^2 = 2px$  ( $p > 0$ ) 的焦点, 点  $A(2, m)$  在抛物线 E 上, 且  $|AF| = 3$ .

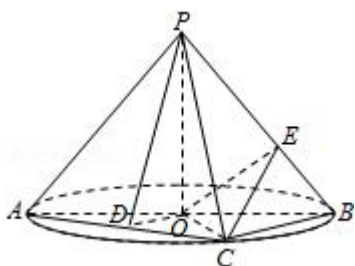


(I) 求抛物线 E 的方程;

(II) 已知点  $G(-1,0)$ , 延长 AF 交抛物线 E 于点 B, 证明: 以点 F 为圆心且与直线 GA 相切的圆, 必与直线 GB 相切.

20. (本小题满分 12 分)

如图, AB 是圆 O 的直径, 点 C 是圆 O 上异于 A, B 的点, PO 垂直于圆 O 所在的平面, 且  $PO = OB = 1$ .



(I) 若 D 为线段 AC 的中点, 求证:  $AC \perp$  平面 PDO;

(II) 求三棱锥 P-ABC 体积的最大值;

(III) 若  $BC = \sqrt{2}$ , 点 E 在线段 PB 上, 求 CE + OE 的最小值.

21. (本小题满分 12 分)

已知函数  $f(x) = 10\sqrt{3} \sin \frac{x}{2} \cos \frac{x}{2} + 10 \cos^2 \frac{x}{2}$ .

(I) 求函数  $f(x)$  的最小正周期;

(II) 将函数  $f(x)$  的图象向右平移  $\frac{\pi}{6}$  个单位长度, 再向下平移  $a$  ( $a > 0$ ) 个单位长度后得到函数  $g(x)$  的图象, 且函数  $g(x)$  的最大值为 2.

(i) 求函数  $g(x)$  的解析式;

(ii) 证明: 存在无穷多个互不相同的正整数  $x_0$ , 使得  $g(x_0) > 0$ .

22. (本小题满分 14 分)

已知函数  $f(x) = \ln x - \frac{(x-1)^2}{2}$ .

(I) 求函数  $f(x)$  的单调递增区间;

(II) 证明: 当  $x > 1$  时,  $f(x) < x - 1$ ;

(III) 确定实数  $k$  的所有可能取值, 使得存在  $x_0 > 1$ , 当  $x \in (1, x_0)$  时, 恒有  $f(x) > k(x-1)$ .