

# 2015年普通高等学校招生全国统一考试（全国新课标卷1）文科综合能力测试

使用地区：陕西、山西、河南、河北、湖南、湖北、江西

本试卷分第I卷（选择题）和第II卷（非选择题）两部分。满分300分，考试时间150分钟。

考生注意：

1. 答题前，考生务必将自己的准考证号、姓名填写在答题卡上。考生要认真核对答题卡上粘贴的条形码的“准考证号、姓名、考试科目”与考生本人准考证号、姓名是否一致。
2. 第I卷每小题选出答案后，用2B铅笔把答题卡上对应题目的答案标号涂黑，如需改动，用橡皮擦干净后，再选涂其他答案标号。第II卷用黑色墨水签字笔在答题卡上书写作答，在试题卷上作答，答案无效。
3. 考试结束，监考员将试题卷、答题卡一并收回。

## 第I卷

本卷共35个小题，每小题4分，共140分。在每小题给出的四个选项中，只有一项是符合题目要求的。

雨水花园是一种模仿自然界雨水汇集、渗漏而建设的浅凹绿地，主要用于汇聚并吸收来自屋顶或地面的雨水，并通过植物及各填充层的综合作用使渗漏的雨水得到净化。净化后的雨水不仅可以补给地下水，也可以作为城市景观用水、厕所用水等。图1示意雨水花园结构。据此完成1~3题。

1. 铺设树皮覆盖层的主要目的是 ( )  
A. 为植物提供养分  
B. 控制雨水渗漏速度  
C. 吸附雨水污染物  
D. 保持土壤水分
2. 对下渗雨水净化起主要作用的填充层是 ( )  
A. 树皮覆盖层和种植土层  
B. 种植土层和砂层  
C. 砂层和砾石层  
D. 树皮覆盖层和砾石层
3. 雨水花园的核心功能是 ( )  
A. 提供园林观赏景观  
B. 保护生物多样性  
C. 控制雨洪和利用雨水  
D. 调节局地小气候

甘德国际机场（图2）曾是世界上最繁忙的航空枢纽之一，当时几乎所有横跨北大西洋的航班都要经停该机场补充燃料。如今，横跨北大西洋的航班不再需要经停此地。据此完成4~6题。



图 2

4. 导致甘德国际机场成为世界上最繁忙机场的主要因素是 ( )
- A. 位置    B. 经济  
C. 地形    D. 人口
5. 甘德国际机场失去国际航空枢纽地位的主要原因是 ( )
- A. 地区经济发展缓慢    B. 横跨北大西洋航班减少  
C. 飞机飞行成本降低    D. 飞机制造技术进步
6. 一架从甘德机场起飞的飞机以 650 千米/小时的速度飞行，1 小时候后该飞机的纬度位置可能为 ( )
- A. 66.5°N    B. 60°N  
C. 53°N    D. 40°N

海冰含盐量接近淡水，适当处理后可作为淡水资源。图 3 示意渤海及附近区域年平均气温 ≤ -4℃ 日数的分布。据此完成 7~9 题。

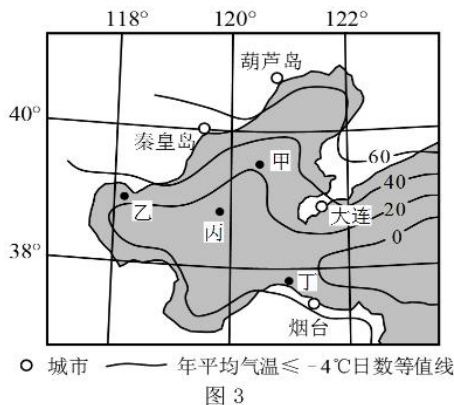


图 3

7. 图示甲、乙、丙、丁四海域中，海冰厚度最大的是 ( )
- A. 甲    B. 乙  
C. 丙    D. 丁
8. 下列城市附近海域，单位面积海冰资源最丰富的是 ( )
- A. 葫芦岛    B. 秦皇岛  
C. 大连    D. 烟台
9. 推测目前没有大规模开采渤海海冰的原因是 ( )
- A. 资源量不足    B. 破坏环境  
C. 成本过高    D. 市场需求不足

图 4 示意在黄河三角洲近岸海域的某监测剖面上, 不同年份水深 2 米的位置与监测起始点的距离。起始点是位于海岸一侧的固定点。读图 4, 完成 10, 11 题。

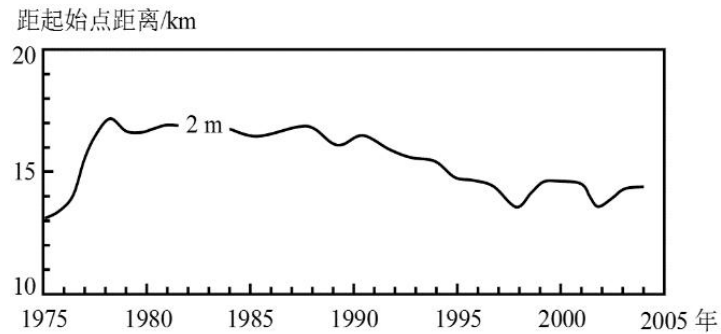


图 4

10. 1975—2004 年, 该剖面近岸海域海底侵蚀、淤积的变化趋势是 ( )
- A. 持续淤积                                      B. 先侵蚀、后淤积  
C. 持续侵蚀                                      D. 先淤积、后侵蚀
11. 推测 1992—1997 年期间 ( )
- A. 黄河流域年均降水量增加                B. 黄河入海年径流量减少  
C. 黄河流域植被覆盖率降低                D. 黄河沿岸农业灌溉面积减少
12. 某公司准备在甲乙两种复印机中选购一台, 甲复印机的购置成本为 22 000 元, 乙为 18 000 元; 甲的专用耗材每年消耗量不及乙的 50%。该公司最终购买了甲复印机。如果不考虑其他因素, 这一选择的理由是 ( )
- A. 甲乙是替代品, 甲的耗材消耗量低于乙  
B. 甲与其耗材是互补品, 甲的耗材成本低于乙的购置成本  
C. 甲与乙的耗材是互补品, 甲的购置成本低于乙的耗材成本  
D. 甲乙是替代品, 甲多耗费的购置成本低于甲节约的耗材成本
13. 2014 年 11 月, 国务院召开常务会议, 部署加快推进价格改革, 缩小政府定价范围, 实行公开透明的市场化定价。加快推进价格改革旨在 ( )
- ①破除垄断, 促进市场竞争                ②扩大生产规模, 增加产量  
③降低商品价格, 增加商品销售量        ④以市场价格为信号, 引导社会资本投资
- A. ①②                                      B. ①④                                      C. ②③                                      D. ③④
14. 据统计, 到 2014 年底, 我国互联网金融规模突破 10 万亿元, 其用户数量达 7.6 亿。互联网金融行业迅猛发展的同时, 接连出现互联网金融企业违规经营、对用户信息保护不力等问题。为防范这些问题发生, 政府应采取的措施是 ( )
- ①改进互联网安全技术                      ②完善金融监管政策法规体系  
③限制高风险的金融产品                ④引导和规范行业自律组织的发展
- A. ①②                                      B. ①③                                      C. ②④                                      D. ③④
15. 2015 年 3 月 6 日, 美元指数收盘较前一交易日上涨 1.416 4 点; 3 月 9 日, 人民币对美元汇率较前一交易日又贬值 30 个基点。美元持续升值将对中国经济产生多方面的影响, 其中积极的方面在于 ( )
- ①扩大中国出口商品的价格优势, 增加出口    ②提升中国外汇储备的国际购买力

③抑制中国居民的出境旅游，从而增加国内储蓄 ④优化中国对外投资结构，加快“走出去”步伐

- A. ①②      B. ①③      C. ②④      D. ③④

党的十八届四中全会通过的《中共中央关于全面推进依法治国若干重大问题的决定》指出：“全面建成小康社会、实现中华民族伟大复兴的中国梦，全面深化改革、完善和发展中国特色社会主义制度，提高党的执政能力和执政水平，必须全面推进依法治国。”回答 16，17 题。

16. 从唯物史观看，全面推进依法治国是 ( )

①我国经济社会发展对上层建筑改革的必然要求 ②不断解决社会基本矛盾、构建和谐社会的重大举措  
③对社会基本矛盾运动规律的认识由自发到自觉转变的标志 ④我国上层建筑对于经济基础由不适应走向适应的标志

- A. ①②      B. ①③      C. ②④      D. ③④

17. 《决定》提出立法机关要“拓宽公民有序参与立法途径，健全法律法规规章草案公开征求意见和公众意见采纳情况反馈机制，广泛凝聚社会共识”。健全立法机关和社会公众沟通机制的作用在于

( )

①明确立法权力边界，防止部门利益法律化 ②完善立法机制，保障公民政治权利的实现 ③使法律更好地体现民意，提高法律权威 ④促进公民提高法律意识，自觉遵法守法

- A. ①②      B. ①④      C. ②③      D. ③④

18. 2014 年，我国废除实施多年的企业年检验照制度，公开《企业信息公示暂行条例》。条例确立了包括企业年度报告和即时信息公示、政府部门的企业信息公示及信用约束机制在内的企业信息公示制度。实施该条例意在 ( )

①强化社会监督，维护市场竞争秩序 ②转变政府行为方式，降低行政管理费用  
③促进政府职能转变，提高市场监管效能 ④规范企业市场行为，提高企业竞争力

- A. ①③      B. ①④      C. ②③      D. ②④

19. 我国在坚持不结盟原则的前提下广交朋友。截至 2014 年底，我国同 67 个国家、5 个地区或区域组织建立了不同形式、不同程度的伙伴关系，基本覆盖了世界上主要国家和重要地区。“结伴但不结盟”的外交实践表明我国 ( )

①尊重各国人民选择的发展道路与价值观念 ②通过伙伴关系应对全球性挑战和第三方威胁 ③处理国际问题时主要根据伙伴国的利益制定政策 ④在和平共处五项原则基础上全面发展同各国的友好合作

- A. ①②      B. ①④      C. ②③      D. ③④

20. “自强不息，厚德载物”“实事求是”……大学校训引导莘莘学子成长成才。2014 年 4 月，某报推出《校训的故事》专栏，挖掘和阐述大学校训的文化内涵、历史传承与当代价值，传播社会主义核心价值观，引起了社会强烈反响。《校训的故事》引起社会强烈反响的原因是

( )

①校训的实质内涵与社会主义核心价值观相契合 ②校训是传播社会主义核心价值观的生动载体 ③校训全面反映了社会主义核心价值观的时代内涵 ④校训宣传是培育社会主义核心价值观的基本途径

- A. ①②      B. ①④      C. ②③      D. ③④

21. 安全生产是生产发展的底线。缺乏安全意识是最大的安全隐患，麻痹大意往往导致生产事故频发。从哲学上看，安全意识之所以成为安全生产的关键，是因为（ ）
- ①人的意识决定了实践发展的方向和进程 ②人的意识影响实践发展的趋势和结果  
③人的意识是促成实践中的矛盾转化的重要条件 ④人的意识不同，实践结果的性质就会不同
- A. ①③            B. ①④            C. ②③            D. ②④
22. 2014年，日本方面认为美国某出版公司出版的教科书《传统与遭遇：环球视角看过去》中有关“南京大屠杀”“慰安妇”等内容与其立场“有出入”，要求修改。鉴于教科书中的内容和历史事实相符，该书作者明确拒绝了日方的“请求”。由此可见（ ）
- ①尊重历史事实是形成正确价值判断的前提 ②价值判断因具有主体性而没有客观的评价标准 ③历史事实随价值判断的改变而发生变化 ④价值判断和价值选择深受历史观的影响
- A. ①②            B. ①④            C. ②③            D. ③④
23. 卤水豆腐是历史悠久的中国传统食品。卤水是制作卤水豆腐必需的稳定剂和凝固剂，其主要成分氯化镁是有毒的，但用卤水点制的豆腐不仅无毒，而且味道鲜美、营养丰富。这表明
- （ ）
- ①事物的特性是不变的，其功能是不断变化的 ②事物的不同特性是由人的不同需要确定的 ③事物的特性是人们建立新联系的依据 ④事物在不同的联系中会有不同的特性
- A. ①②            B. ①③            C. ②④            D. ③④
24. 《吕氏春秋·上农》在描述农耕之利时不无夸张地说：一个农夫耕种肥沃的土地可以养活九口人，耕种一般的土地也能养活五口人。战国时期农业收益的增加（ ）
- A. 促进了个体小农经济的形成            B. 抑制了手工业和商业的发展  
C. 导致畜力与铁制农具的使用            D. 阻碍了大土地所有制的成长
25. 两汉时期，皇帝的舅舅、外祖父按例封侯；若皇帝幼小，执政大臣也主要从他们之中选择。这被当时人视为“安宗庙，重社稷”的“汉家之制”。汉代出现外戚干政的背景是
- （ ）
- A. 皇帝依靠外戚抑制相权            B. “家天下”观念根深蒂固  
C. 母族亲属关系受到重视            D. 刘氏同姓诸侯王势力强大
26. 宋代东南沿海地区出现了一些民间崇拜，如后来被视为海上保护神的妈祖、被视为妇幼保护神的临水夫人等，这些崇拜得到朝廷认可，后世影响不断扩大。这反映出（ ）
- A. 朝廷不断鼓励海洋开发            B. 女性地位逐渐得到提高  
C. 东南沿海经济社会影响力上升            D. 统治思想与民众观念趋向一致
27. 表1呈现的变化反映了（ ）

表 1 河南、江苏两地科举考试状元人数表

	唐	宋	明	清
河南	15	16	2	1
江苏	7	8	17	49

- A. 理学的影响力不断扩大                      B. 经济发展促进文化兴盛  
 C. 中原地区经济急剧衰退                    D. 政治重心南移趋势明显
28. 1852 年，一位在华英国人在报告中称，英国商人运往伦敦的中国生丝是以“无用的”曼彻斯特上等棉布包装的。而在此之前，用于包装的主要是中国产的土布。包装布的这种变化反映了当时  
 (     )
- A. 中国的土布质量粗糙                      B. 英国棉布价格更具优势  
 C. 中国生丝在英国畅销                      D. 英国棉布在中国滞销
29. 《申报》“时评”栏目曾评述说：“今之时局，略似春秋战国时之分裂。中央政府之对于各省，犹东周之对于诸侯也。南北相攻，皖直交斗，滇蜀不靖，犹诸侯相侵伐也。”这一时局出现在  
 (     )
- A. 太平天国运动时期                      B. 义和团运动时期  
 C. 辛亥革命时期                              D. 北洋军阀统治时期
30. 1933 年到 1937 年上半年，国民政府军事委员会先后统筹完成了江宁、镇江、虎门、马尾、连云港等要塞区的建设，又大规模构筑了京沪、沪杭、豫北、晋北、绥东等侧重于城市和交通线防御的工事。它反映了国民政府  
 (     )
- A. 力图防范各地兴起的反蒋运动        B. 对日持久防御作战的战略意图  
 C. 全力“围剿”红军的企图              D. 试图削弱各地军阀的实力
31. 图 5 为新中国第一个五年计划期间中国、美国、英国主要工业指标年均增长速度的比较。据此可以推知  
 (     )

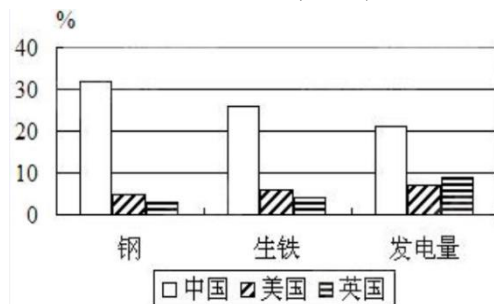


图 5

- A. 中国原有工业基础很薄弱                      B. 冷战制约美英工业发展

- C. 中国重工业发展急躁冒进                      D. 美英传统工业产业衰落

32. 图6为古罗马正义女神像。它体现了罗马法的诸多原则，如高擎的秤体现的是裁量公平，手握利剑体现的是法律的强制力。据此，双眼蒙布所体现的原则是，法官审案应 ( )



图6

- A. 主要依据道德良知  
B. 侧重听取证人证言  
C. 不受表象迷惑洞察事实真相  
D. 排除一切干扰遵从民众意愿

33. 18世纪中叶，一位英国内阁成员在议会发言中说：“诸位都知道，媾和与开战的权力是由国王掌握的……我们的宪法始终表明，国王在决定和平与战争时有权力让议会参与，也有权力不让议会参与。没有哪位明智的国王真的会冒险不让议会参与。”这表明在当时的英国

- ( )  
A. 光荣革命成果受到侵蚀                      B. 立宪政体未能阻止国王专权  
C. 内阁依旧为国王所控制                      D. 国王仍旧保留某些名义权力

34. 1935年8月，美国国会通过法案，其中规定凡年满65岁的退休人员，根据原工资水平每月可获得一定数额的养老金。与该规定属于同一法案的是 ( )

- A. 制定公平经营章程                      B. 建立失业保险制度  
C. 提供农副产品补贴                      D. 规定最低工资水平

35. 世界银行在1968年的贷款项目为62个，贷款总额为9.5亿美元；1981年贷款项目为266个，贷款总额为124亿美元。出现这一变化是因为 ( )

- A. 新兴独立国家大量增加                      B. 各国关税税率明显降低  
C. 美国西欧经济实力下降                      D. 世界贸易组织大力推动

## 第 II 卷

本卷包括必考题和选考题两部分。第36~41题为必考题，每个试题考生都必须作答。第42~48题为选考题，考生根据要求作答。

36. (22分) 阅读图文材料，完成下列要求。

卤虫生存于高盐水域，以藻类为食，是水产养殖的优质活体饵料，也是候鸟的食物来源。美国大盐湖(图7)属内陆盐湖，卤虫资源丰富。20世纪50—70年代，大盐湖卤虫产业规模小，产品需低温运输，主要用于喂养观赏鱼类。80年代以来，随着水产养殖业快速发展，大盐湖卤虫产业规模不断扩大。

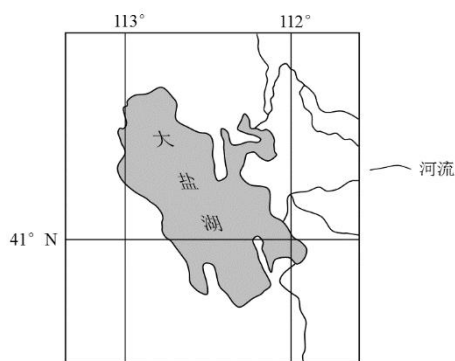


图7

- (1) 分析大盐湖盛产卤虫的原因。(6分)
- (2) 说明早年卤虫产业规模较小的原因。(4分)
- (3) 推测 20 世纪 80 年代以来, 水产养殖业快速发展的原因及其对大盐湖卤虫产业发展的影响。(8分)
- (4) 你是否赞同继续在大盐湖发展卤虫捕捞业? 请表明态度并说明理由。(4分)

37. (24分) 阅读图文材料, 完成下列要求。

多年冻土分为上下两层, 上层为夏季融化、冬季冻结的活动层, 下层为多年冻结层。我国的多年冻土主要分布于东北高纬地区和青藏高原高海拔地区。东北高纬地区多年冻土南界的年平均气温在  $-1\sim 1^{\circ}\text{C}$ , 青藏高原多年冻土下界的年平均气温约  $-3.5\sim -2^{\circ}\text{C}$ 。

由我国自行设计、建设的青藏铁路格(尔木)拉(萨)段成功穿越了约 550 千米的连续多年冻土区, 是全球目前穿越高原、高寒及多年冻土地区的最长铁路。多年冻土的活动层反复冻融及冬季不完全冻结, 会危及铁路路基。青藏铁路建设者创造性地提出了“主动降温、冷却路基、保护冻土”的新思路, 采用了热棒新技术等措施。图 8a 示意青藏铁路格拉段及沿线年平均气温的分布, 其中西大滩至安多为连续多年冻土分布区。图 8b 为青藏铁路路基两侧的热棒照片及其散热工作原理示意图。热棒地上部分为冷凝段, 地下部分为蒸发段, 当冷凝段温度低于蒸发段温度时, 蒸发段液态物质汽化上升, 在冷凝段冷却成液态, 回到蒸发段, 循环反复。

- (1) 分析青藏高原形成多年冻土的年平均气温比东北高纬地区低的原因。(8分)

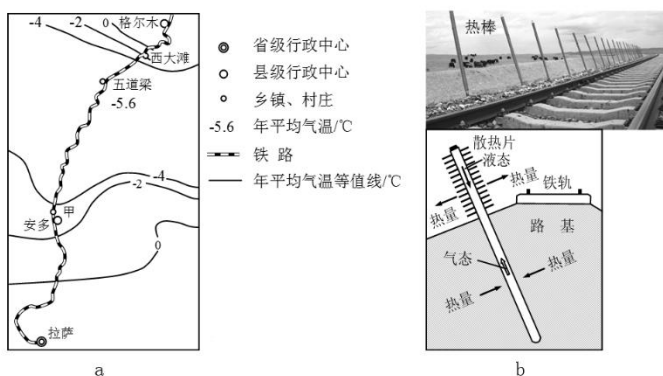


图 8

- (2) 图 8a 所示甲地比五道梁路基更不稳定, 请说明原因。(8分)
- (3) 根据热棒的工作原理, 判断热棒散热的工作季节(冬季或夏季), 简述判断依据; 分析热棒倾斜设置(图 8b)的原因。(8分)

38. (26分) 阅读材料, 完成下列要求。



财政对社会经济发展具有巨大作用，财政预算的编制和管理受到社会各界的关注。

#### 材料一

2014年重新修订的《中华人民共和国预算法》规定，“经人民代表大会批准的预算，非经法定程序，不得调整。各级政府、各部门、各单位的支出必须以经批准的预算为依据，未列入预算的不得支出”。

为贯彻落实依法治国精神，按照新修订的预算法，国务院出台了《关于深化预算管理制度改革的决定》，财政部发布了《关于进一步加强财政支出预算执行管理的通知》，地方各级政府为预算法的落实进行了积极探索。

#### 材料二

2013年我国GDP增速为7.7%，2014年为7.4%。2015年我国GDP增长目标调低为7%。面对经济下行的压力，2015年政府工作报告对积极的财政政策做了加力增效的部署，其中，2015年财政预算拟安排财政赤字1.62万亿元，比去年增加2700亿元，赤字率从去年的2.1%提高到2.3%。（财政赤字率指财政赤字与GDP之比。国际上财政赤字率安全警戒线为3%）

(1) 结合材料一和所学政治知识，说明政府应该如何强化预算管理。（12分）

(2) 结合材料二和所学经济知识，分析现阶段我国增加财政赤字的合理性，并说明应该如何用好财政赤字资金。（14分）

39. (26分) 阅读材料，完成下列要求。

培育和弘扬社会主义核心价值观必须立足中华优秀传统文化。我们要保护和传承优秀传统文化，让居民望得见山，看得见水，记得住乡愁。

纪录片《记住乡愁》于2015年元旦在央视首播。该片选取100多个传统村落，围绕中华美德的千年传承，一集一村落、一村一传奇，采取纪实手法讲述一个个生动感人的故事：有坚守精忠报国、宁死不屈民族气节的，有传承诚信为本、诚实待人村风的，有秉持积善成德、助人为乐精神的，有倡导邻里和睦、守望相助的，有崇高尊重生命、敬畏自然的……

《记住乡愁》的播出引发社会强烈反响。古建筑学者将其誉为中国传统文化的“立体的教科书，现成的博物馆”，历史学者认为《记住乡愁》呈现了一幅生动的乡村历史画卷，民俗学者从节目中看到了一个个非物质文化遗产的“活化石”，社会学者强调汲取传统乡村社会治理的智慧和经验……

(1) 培育和践行社会主义核心价值观需要记住乡愁、传承中华传统美德。运用文化生活知识对此加以说明。（12分）

(2) 运用认识论的相关知识并结合材料，分析不同学者从《记住乡愁》中获得不同感受的原因。（10分）

(3) 在城镇化快速发展的今天，请就如何记住乡愁提出两条建议。（4分）

40. (25分) 阅读材料，完成下列要求。

### 材料一

在历史中，儒学一直在发展与创新。唐代韩愈以周公、孔子的继承者自居，排斥佛、道，鄙薄汉代以来的儒学，认为周公、孔子之道在孟子之后已经断绝。他在《原道》中说：“吾所谓道也，非向（先前）所谓老与佛之道也。尧以是传之舜，舜以是传之禹，禹以是传之汤，汤以是传之文、武、周公，文、武、周公传之孔子，孔子传之孟轲。轲之死，不得其传焉。”他的这一主张被宋代儒者接受并发扬。当代学者认为韩愈开了宋代“新儒学”的先河。

——摘编自卞孝萱等《韩愈评传》

### 材料二

19世纪末，康有为撰写《新学伪经考》《孔子改制考》二书，认为汉代以来儒者奉为经典的《周礼》《左传》等书，是汉代学者为王莽篡汉而伪造的，影响恶劣，导致“中国之民，遂二千年被（遭受）暴主夷狄之酷政”。他主张回归孔子所编定的《诗经》《礼记》等原典，理解真正的儒学精神。在他看来，孔子是一位伟大的改革家，《春秋》便是孔子为“改制”而创作的。他甚至用西学来解释《春秋》，认为《春秋公羊传》中的“三世”说为：“始于据乱（世），立君主；中于升平（世），为立宪，君民共主，终至太平（世），为民主”。

——摘编自张海鹏等编《中国近代史》

(1) 结合材料一及所学知识，指出汉代儒学与孔孟儒学的不同之处，并概括宋代理学在哪些方面对儒学有所发展。（10分）

(2) 根据材料一、二并结合所学知识，指出韩愈、康有为关于儒学认识的共通之处。（8分）

(3) 我们应当以什么样的态度对待孔子与儒学？（7分）

41. (12分) 阅读材料，完成下列要求。

### 材料

有历史学者为说明近代以来科学技术在生产力发展中的作用，引用了如下公式：

生产力=科学技术×(劳动力+劳动工具+劳动对象+生产管理)

这一公式表明，科学技术有乘法效应，它能放大生产力诸要素。

——摘编自齐世荣总主编《世界史》

运用世界近现代史的史实，对上述公式进行探讨。（说明：可就科学技术与公式中一个或多个要素之间的关系进行论证；也可以对公式进行修改、补充、否定或提出新公式，并加以论述。要求观点明确、史论结合、史实准确）

请考生在第42，43，44三道地理题中任选一题作答，如果多做，则按所做的第一题计分。

42. (10分) 【地理——选修3：旅游地理】

近年来，滑雪、登山、徒步等户外活动渐成一种休闲和时尚的生活方式。几位户外运动爱好者拟于

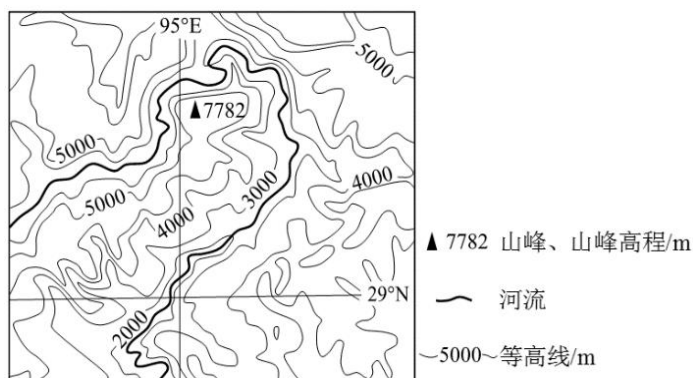


图9

8月前往图9所示区域进行峡谷徒步旅游。  
分析该时段在该地区峡谷徒步旅游可能遭遇的风险。

43. (10分) 【地理——选修5：自然灾害与防治】

图10a示意某地区地形及M城位置。图10b示意M城年内各月气温与降水量。2011年，该地区9、10两月降水量远超常年，M城被水淹80多天，造成严重的经济损失。  
分析M城水患严重的自然原因。

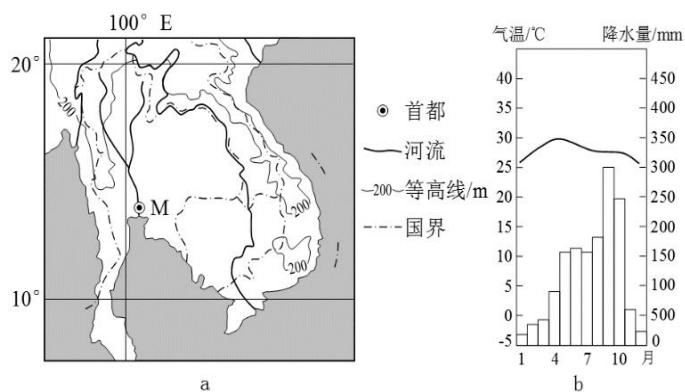


图 10

44. (10分) 【地理——选修6：环境保护】

近年来，我国道路施工愈加注重保护环境。喀斯特地区土层薄，保护土壤尤为重要。在南方喀斯特地区修建公路，开挖石料和堆放弃料前后需采取必要的措施，以在工程结束后，仍在原地维持土壤的生产功能。

指出为达到保护土壤的目的，在南方喀斯特地区开挖石料和堆放弃料前后应采取的措施，并简述理由。

请考生在第 45, 46, 47, 48 四道历史题中任选一题作答，如果多做，则按所做的第一题计分。

45. (15分) 【历史——选修1：历史上重大改革回眸】

材料

从秦朝铸造“半两”钱开始，铜币主要以重量为名。汉代的“五铢”钱，“重如其文”，直到隋代，都被视为标准性的钱币。由于盗铸、剪凿良币以取铜等原因，钱币实际重量与钱币上铭文不符的现象时常发生。隋末，劣币盛行，“千钱初重二斤，其后愈轻，不及一斤”。币值混乱，影响流通。针对这种情况，武德四年（621）唐高祖下诏铸“开元通宝”钱，即在钱币上铸“开元通宝”字样（或识读成“开通元宝”），大小仿汉“五铢”，称作一文，亦称一钱，每十钱重一两。“新钱轻重大小

最为折衷，远近甚便之”。这成为衡法由十六进位制变为十进位制的关键，“钱”取代“铢”成为“两”以下的重量单位。此后历代钱币均称“通宝”或“元宝”，钱币上不再标识重量。宋代以后，使用皇帝的年号作为钱名逐渐成为常制，如“熙宁通宝”“光绪元宝”等。

——摘编自彭信威《中国货币史》等

(1) 根据材料，指出唐代币制改革的主要内容。(6分)

(2) 根据材料并结合所学知识，说明唐代币制改革的意义。(9分)

46. (15分) 【历史——选修2：近代社会的民主思想与实践】

材料一

此次中国共产党发表之宣言(指《中共中央为公布国共合作宣言》)，即为民族意识胜过一切之例证。宣言中所举诸项，如放弃暴动政策与赤化运动，取消苏区与红军，皆为集中力量，救亡御侮之必要条件……对于国内任何派别，只要诚意救国，愿在国民革命抗敌御侮之旗帜下共同奋斗者，政府自无不开诚接纳，咸使集中于本党领导之下，而一致努力。

——引自《蒋介石对中国共产党宣言的谈话》(1937年9月23日)

材料二

中国国民政府蒋主席于抗战胜利后，邀请中国共产党中央委员会主席毛泽东先生，商讨国家大计……兹特发表会谈纪要如下：

一、关于和平建国的基本方针，一致认为：中国抗日战争业已结束，和平建国的新阶段，即将开始，必须共同努力，以和平、民主、团结、统一为基础……长期合作，坚决避免内战，建设独立、自由和富强的新中国，彻底实行三民主义。

……

五、关于党派合法问题，中共方面提出：政府应承认国民党、共产党及一切党派的平等合法地位。政府方面表示：各党派在法律之前平等，本为宪政常轨，今可即行承认。

——引自《政府与中共代表会谈纪要》(1945年10月10日)

(1) 根据材料一、二概括指出抗战胜利前后各党派地位发生的变化。(6分)

(2) 根据材料一、二并结合所学知识，分析各党派地位变化的原因及影响。(9分)

47. (15分) 【历史——选修3：20世纪的战争与和平】

材料

1940年6月，当法国政府战败投降之际，戴高乐将军发起了“自由法国”运动，向法国人民发出了坚持抵抗的号召。他通过英国电台多次向法国人民发表演讲，指出法国输掉了一场战役，但没有输掉这场战争；法国并不是孤立的，在它的后面还有一个广大的法兰西帝国；法国可以和英国结成同盟，

它还可以利用美国取之不尽的资源。

在英国政府帮助下，戴高乐重新组建了法国军队，并且很快投入到盟国在非洲和欧洲战场的战斗中。1941年9月，法兰西民族委员会成立，1943年改组为法兰西民族解放委员会，并与各盟国建立了外交联系。1944年6月，法兰西民族解放委员会改组为法国临时政府。诺曼底登陆后，法军与盟军一起参加了解放法国的战斗，并在盟军协助下解放了巴黎。1944年10月，英、苏、美等国先后承认了法国临时政府。联合国成立后，法国和英、美、苏、中一起成为联合国安理会常任理事国。

——摘编自戴高乐《战争回忆录》等

(1) 根据材料并结合所学知识，概括戴高乐将军号召法国人民坚持抵抗所持的理由。(7分)

(2) 根据材料并结合所学知识，总结法国复兴的历史经验。(8分)

#### 48. (15分) 【历史——选修4：中外历史人物评说】

##### 材料

丘处机(1148—1227年)，登州(今属山东)人，19岁时投入道教全真派。全真派是当时新出现的一个道教派别，主张兼修儒、释。丘处机潜心研习，成为一方道教领袖。其时黄河南北陷于战乱，全真派徒众剧增，成为蒙古、金、宋竞相争取的对象。

1220年，应成吉思汗之召，丘处机偕弟子西行，历时四年，行程万余里，到达成吉思汗驻蹕的雪山(在今中亚地区)。成吉思汗常与他交谈，丘处机“每言欲一天下者，必在乎不嗜杀人。及问为治之方，则对以敬天爱民为本”。成吉思汗深为认同，“命左右书之，且以训诸子”。史载：某日暴雷异常，成吉思汗询问是何预兆，丘处机借此回答说：“人罪莫大于不孝，不孝则不顺乎天，故天威震动以警之。似闻境内不孝者多，陛下宜明天威，以导有众。”成吉思汗采纳了他的建议。

丘处机的弟子李志常撰写了《长春真人西游记》一书，记录了丘处机西行谒见成吉思汗的经历与见闻，流传至今。

——据《元史》等

(1) 根据材料并结合所学知识，简析丘处机的意见被成吉思汗接受的原因。(6分)

(2) 根据材料并结合所学知识，指出丘处机西行的意义。(9分)