

# 2016年普通高等学校招生全国统一考试（天津卷）

## 文综历史试题

文科综合共 300 分，考试用时 150 分钟。

历史试卷分为第 I 卷（选择题）和第 II 卷（非选择题）两部分，第 I 卷 1 至 3 页，第 II 卷 4 至 6 页，共 100 分。

答卷前，考生务必将自己的姓名、准考证号填写在答题卡上，并在规定位置粘贴考试用条形码。答卷时，考生务必将答案涂写在答题卡上，答在试卷上的无效。考试结束后，将本试卷和答题卡一并交回。

祝各位考生考试顺利！

### 第 I 卷

#### 注意事项：

1. 每题选出答案后，用铅笔将答题卡上对应题目的答案标号涂黑。如需改动，用橡皮擦干净后，再选涂其他答案标号。
2. 本卷共 11 题，每题 4 分，共 44 分。在每题给出的四个选项中，只有一项是最符合题目要求的。

1. 司马迁说：“居今之世，志古之道，所以自镜也，未必尽同。”下列选项中，与司马迁观点相符的是  
A. 历史可以重演，应当以史为鉴  
B. 历史不会重演，不能以史为鉴

- C. 一切历史都是当代史，无须学习古人
- D. 历史事实情同而势异，不能照搬历史经验

2. 右图是北宋纸币铜版拓片，其上文字为：“除四川外，许于诸路州县公私从便……流转行使。”这一铜版



- ①证实了宋代纸币的发行
- ②反映了宋代的印刷技术
- ③是纸币交子的文物材料
- ④是商品经济发展的见证

- A. ①②③                      B. ①②④                      C. ①③④                      D. ②③④

3. 孟德斯鸠曾说：“意大利各民族成为罗马的公民以后，每一个城市便表现了自己的特色……既然人们不过是由于一种特殊的法律上的规定才成为罗马公民的……因此人们就不再用和先前相同的眼光看待罗马……对罗马的依恋之情也不复存在了。”在孟德斯鸠看来，更多意大利人成为罗马公民

- A. 加剧了罗马社会矛盾
- B. 扩大了罗马统治基础
- C. 有利于罗马帝国统一
- D. 导致罗马失去凝聚力

4. 除四大发明外，从中国传到欧洲的东西还有很多，如船尾舵、马镫等器物，菊花、柠檬、柑橘等水果和植物。柑橘至今在荷兰和德国还被称为“中国苹果”。这些东西传到欧洲主要通过
- A. 中国商人  
B. 阿拉伯人  
C. 马可·波罗等欧洲人  
D. 奥斯曼土耳其人
5. 1899年初，中国进口了几部马可尼无线电报机，安装在两广总督督署、威远等要塞以及南洋舰队舰艇上，用于军事指挥。要知道，在同一年，马可尼才刚刚说服英国邮政部建立了一个无线电报站，英国无线电通讯业务方才起步。这反映了
- ①中国应用无线电报基本与西方同步      ②中国在科技上处于领先地位  
③中国仍处于学习器物阶段      ④世界市场的发展
- A. ①②      B. ①③      C. ①④      D. ③④
6. 日本军部在1907年上奏天皇的奏折中，把美国列为第二号假想敌；1923年又将其改为头号假想敌。美国军方1913年正式提出了以日本为敌人的“橙色作战计划”；巴黎和会后，美国对该计划给以更多的注意，并进一步考虑加强在夏威夷、关岛和菲律宾群岛的设防。这些行为说明
- A. 一战前后美日加强各自防御      B. 日美加紧争夺亚太地区  
C. 日本实施“大东亚共荣圈”计划      D. 美国推行“门户开放”政策
7. 直到1917年初，《新青年》在答读者问时还这样写道：“社会主义，理想甚高，学派亦甚复杂。惟是说之兴，中国似可缓于欧洲，因产业未兴、兼并未盛行也。”《新青年》之所以这样回答，主要是因为
- A. 尚未看到社会主义实践成果      B. 中国经济落后于欧洲

C. 社会主义理论学派复杂                      D. 对社会主义持怀疑态度

8. 美国总统威尔逊曾这样说道：“金融领导地位将属于我们，工业首要地位将属于我们，贸易优势将属于我们，世界上其他国家期待着我们给以领导和指引。”美国实现这一意图是在

A. 威尔逊时期      B. 罗斯福时期      C. 杜鲁门时期      D. 肯尼迪时期

9. 国民政府与美国签订《中美友好通商航海条约》后，中共中央于 1947 年 2 月 1 日发表声明：“对于 1946 年 1 月 10 日以后，由国民党政府单独成立的一切对外借款，一切丧权辱国条约及一切其他上述的协定谅解……本党在现在和将来均不承认，并决不担负任何义务。”这一声明

A. 说明中共“另起炉灶”方针开始实行      B. 是新中国独立自主外交政策的体现

C. 结束了旧中国屈辱外交的历史                      D. 认为国民党政府是在出卖国家利益

10. 1979 年 7 月，中国通过了《中外合资经营企业法》，80 年代相继颁布《涉外经济合同法》《外资企业法》和《中外合作经营企业法》等。这些文件的发布

- A. 表明中国已经融入世界经济体系
- B. 主要是为了发展市场经济
- C. 增强了政府对外开放政策的可信度
- D. 巩固了社会主义公有制经济

11. 1990 年 11 月，联合国安理会通过第 678 号决议，“授权同科威特政府合作的会员国，除非伊拉克在 1991 年 1 月 15 日或之前……完全执行上述各决议（指

无条件撤军)，否则可以使用一切必要手段……恢复该地区的国际和平与安全”。依此决议，多国部队对伊拉克采取了军事行动。中国政府对该决议投了弃权票。对此分析正确的是

- A. 中国政府反对军事干预解决争端
- B. 中国政府反对联合国安理会决议
- C. 联合国的军事行动违背了大国一致原则
- D. 联合国大会职责是维护世界和平与安全

## 第Ⅱ卷

### 注意事项：

1. 用黑色墨水的钢笔或签字笔将答案写在答题卡上。
2. 本卷共 3 题，共 56 分。

### 12. (16 分) 阅读材料，回答问题。

**材料一** 宋代是印刷术普遍应用时期，也是中国学术史上的重要时期。《十三经》和《十七史》的印行，地方史志的编纂，许多数学、工艺、医药和科技著作的问世，大型类书和丛书的编印，都在这一时期。而学术的复兴又促进了学校和书院的兴盛，加之为准备各级考试，使得教本、史籍、韵书、字典等大量印行。

据方志记载，宋代进士姓名可考者有 29000 人，其中两浙、福建等五路约占 82%；宋代印书有地可考者 1500 种，该五路即占 80%。反之，夔州路仅有进士 103 人，而所印之书只有 2 种。

——摘编自钱存训《印刷术在中国传统文化中的作用》

(1) 依据材料一，归纳印刷术普遍应用所产生的作用，指出宋代各地印书种数与进士人数所呈现的关系。(6 分)

**材料二** 明代以前，医学对于传染病学的认识都未超出“伤寒论”的范围。明清两代医药学家，深入研究传染病等热性病发病原因和医疗方法，创立了温病学说，疗效显著。如《震泽县志续》载，乾隆二十一年，“瘟疫遍行，家无不病，病无不危”，名医孙日珪施诊施药，“赖以全活者计千有余人”。又如

《相城小志》载，光绪十七年，“疫症盛行，呕泻螺疮起”，龚霞伯以四味中药“遍施之，病立愈，活人甚众”。

——摘编自余新忠《清代江南的瘟疫与社会》等

(2) 依据材料二和所学知识，指出明代以前中医治疗传染病的理论来源，明清时期有何新发展？实践效果怎样？（6分）

(3) 综上，谈谈科技与社会的相互作用。（4分）

13.（18分）阅读材料，回答问题。

**材料一** 农民在乡里造反，搅动了绅士们的酣梦……我初到长沙时，会到各方面的人，听到许多的街谈巷议。从中层以上社会至国民党右派，无一言以蔽之曰：“糟得很。”……“糟得很”，明明是站在地主利益方面打击农民起来的理论，明明是地主阶级企图保存封建旧秩序，阻碍建设民主新秩序的理论……一切革命同志须知：国民革命需要一个大的农村变动。辛亥革命没有这个变动……现在有了这个变动，乃是革命完成的重要因素。

——《毛泽东选集》第一卷

(1) 材料一出自毛泽东哪篇文章？毛泽东批判了哪种错误态度？他对农民运动是如何认识的？（4分）

**材料二** 中国共产党不是以空话，而是以领导农民进行土地改革的事实，使他们迅速看清是谁代表着他们的利益，应该跟着谁走。……中国革命的军事斗争同土地制度的改革是不能分开的……没有土地制度的改革，没有广大农民的全力支持，军事斗争也会失去力量源泉而不可能战胜强大的敌人。

——金冲及《二十世纪中国史纲》

(2) 依据材料二，指出解放战争时期中国共产党是怎样代表农民利益的？农民又是怎样“全力支持”解放战争的？（4分）

**材料三** 解放后农民对于个体经济的积极性是不可避免的。党充分地了解了农民这种小私有者的特点，并提出不能忽视和粗暴地挫折农民这种个体经济的积极性。

但是，党中央从来认为要克服很多农民在分散经营中所发生的困难，要使广大贫困的农民能够迅速地增加生产而走上丰衣足食的道路……就必须提倡“组织起来”，按照自愿和互利的原则，发展农民劳动互助的积极性。这种劳动互助……发展前途就是农业集体化或社会主义化。

——《中共中央关于农业生产互助合作的决议（草案）》（1951年12月）

(3) 材料三中，农民的生产积极性表现在哪些方面？中共中央对此有何基本方针？（6分）

(4) 综上，概括中国共产党与农民的密切关系。（4分）

14. (22分) 阅读材料，回答问题。

**材料一** 18世纪中期至19世纪中期，随着纺织工业和采煤冶铁等工业的发展，英格兰西北部的许多村镇发展为大城市，如曼彻斯特、伯明翰和利兹等，村镇及周围农村地区的大量农民转化成了工业劳动力。

——《新华文摘》2015年第18期



(1) 依据材料一，指出英格兰西北部大城市兴起的动力，并结合时代背景，分析这一现象对农村的影响。(6分)

**材料二** 近代中国大城市主要兴起于沿海和条约口岸。这些地方外资集中，进出口贸易繁忙，政府又开展了自强运动，使得更多的中国商人移居那里，同时，失去生计的农民也来到城市寻找工作。这样，越来越多的沿海和条约口岸成为中国金融、工商业和人口集中之地，如上海、南京、广州、汉口、天津都发展成为相当规模和拥有一定财富的中心城市。

——摘编自徐中约《中国近代史》

(2) 依据材料二，概括近代中国大城市发展的原因，并指出其时代背景。(6分)

**材料三** 下图是农村城镇化的两种成功模式。



天津华明镇



瑞士小村镇

(3) 结合图中场景，分别指出农村城镇化两种建设模式的特点及制度因素。(6分)

(4) 综上，谈谈你对城市化的认识。(4分)

绝密★启封前

2016 普通高等学校招生全国统一考试（天津卷）  
文科综合（地理部分）

文科综合共 300 分，考试用时 150 分钟。

历史试卷分为第 I 卷（选择题）和第 II 卷（非选择题）两部分，第 I 卷 1 至 3 页，第 II 卷 4 至 6 页，共 100 分。

答卷前，考生务必将自己的姓名、准考证号填写在答题卡上，并在规定位置粘贴考试用条形码。答卷时，考生务必将答案涂写在答题卡上，答在试卷上的无效。考试结束后，将本试卷和答题卡一并交回。

祝各位考生考试顺利！

## 第 I 卷

### 注意事项：

1. 每题选出答案后，用铅笔将答题卡上对应题目的答案标号涂黑。如需改动，用橡皮擦干净后，再选涂其他答案标号。
2. 本卷共 11 题，每题 4 分，共 44 分。在每题给出的四个选项中，只有一项是最符合题目要求的。

读图文材料，回答 1-4 题。

在天津市南部地区发现的贝壳堤，是贝壳及碎屑物受潮水搬运，在海边经较长时期堆积而形成的垄岗，可以作为当时海岸线的标志。

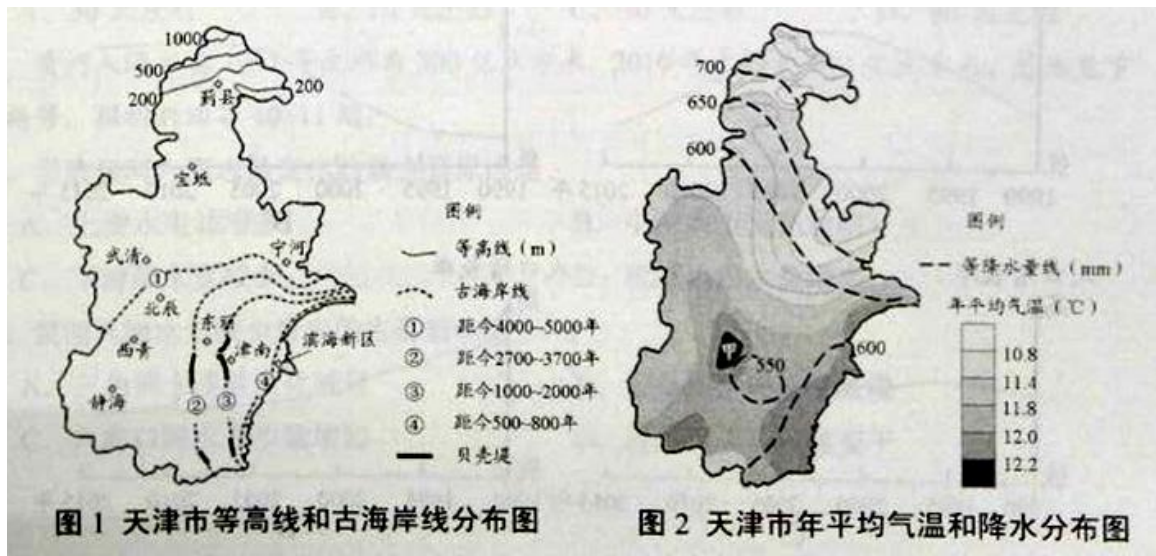


图1 天津市等高线和古海岸线分布图

图2 天津市年平均气温和降水分布图

- 图1所示古海岸线分布地区地势的总体变化趋势是
    - 由东北向西南倾斜
    - 由西向东倾斜
    - 由西北向东南倾斜
    - 由北向南倾斜
  - 该地区5000年来海岸线位置的变化，反映了
    - 海平面间歇性下降
    - 气候持续性变暖
    - 海滨泥沙不断淤积
    - 地壳阶段性下沉
  - 与天津市其他地区相比，北部地区降水较多的原因主要是
    - 锋面过境频繁
    - 地处迎风坡
    - 空气对流旺盛
    - 多气旋活动
  - 图2所示甲地比周边地区气温高的最主要原因是
    - 海拔高度低
    - 降水少
    - 人口密度大
    - 距海远
- 读图3，回答第5题。

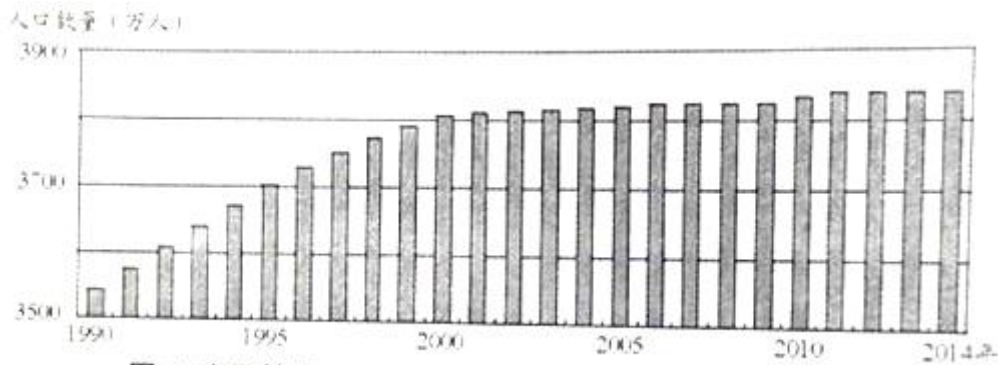
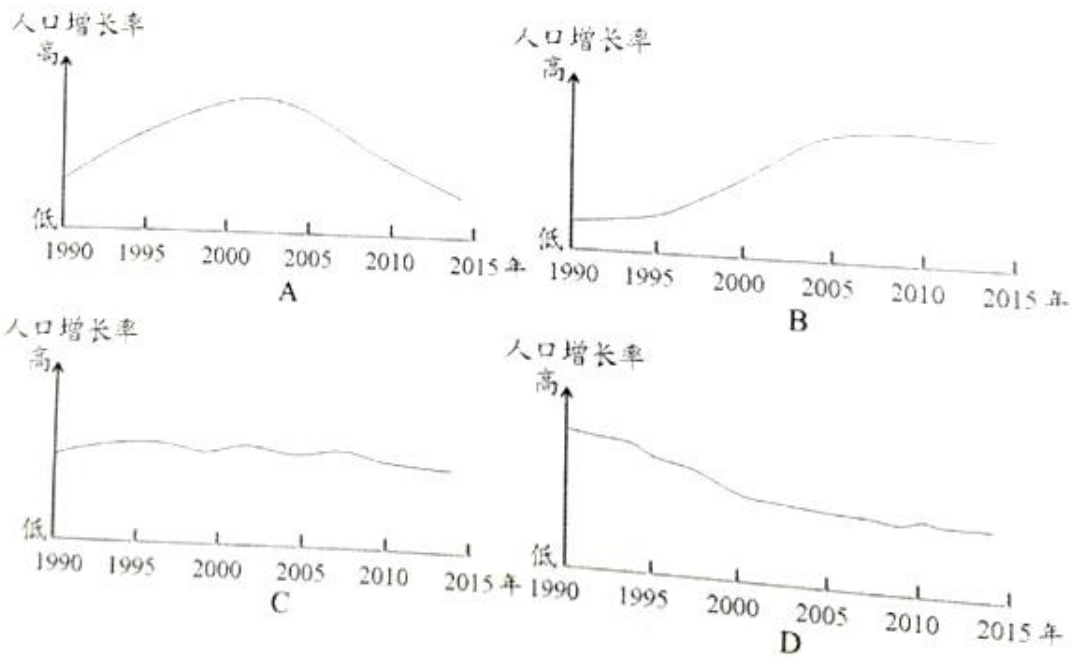


图3 我国某省1990~2014年间常住人口数量变动示意图

5. 以下四图中，与该省人口增长率变化过程基本符合的是



读图文材料，回答 6-7 题。

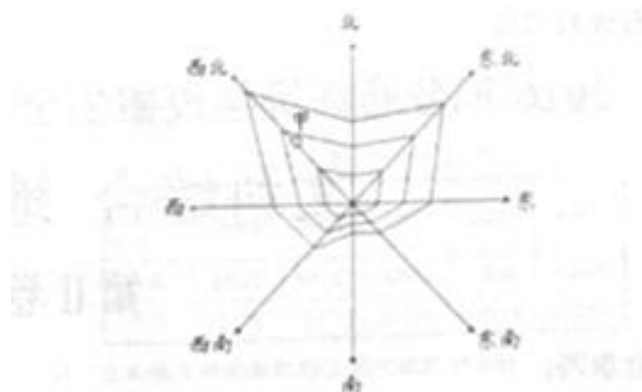


图4 某市中心城区地租等值线分布示意图

地租是城市各种环境因素在经济上的综合表现，图4显示了某市中心城区地租从中心向边缘递减的变化趋势，由于环境质量、基础设施等因素的不同，城市

不同方向的地租变化程度存在差异。

6.符合图中该城区实际情况的表述是

- A. 北部地区的地租梯度，总体大于南部地区
- B. 地租相同的区位，西南方向距市中心最近
- C. 西北方向地租等值线稀疏，表示该方向交通设施较好，
- D. 东南方向地租等值线密集，表示该方向空气质量较好

7. 该市规划子在甲地建设产业园区，最适宜的是

- A. 电子信息产业园区
- B. 钢铁工业产业园区
- C. 航空航天产业园区
- D. 汽车工业产业园区

2011年7月17日，我国南极中山站（69° 22' S，76° 22' E）越冬科考队的队员们迎来了极夜后的第一次日出。据材料回答 8-9 题。

8. 当中山站“第一次日出”时，若在天津观测太阳，太阳位于观察者的

- A. 西南方向
- B. 东南方向
- C. 西北方向
- D. 西南方向

9. 中山站极夜持续的时间是

- A. 30 天左右
- B. 50 天左右
- C. 70 天左右
- D. 90 天左右

黄河入海水量 1951 年大约为 500 亿立方米，2010 年大约为 140 亿立方米，总体呈下降趋势。据材料回答 10-11 题。

10. 导致黄河入海水量变化的最主要原因是：

- A. 上游水电站增多
- B. 中游水土流失加剧
- C. 下游降水量减少
- D. 流域内用水量增多

11. 黄河入海水量减少带来的主要影响是

- A. 三角洲土壤盐渍化减轻
- B. 三角洲扩展速度减慢

- C.入海口河水含沙量增加      D.河口地区的气候变干

## 第II卷

12. (18分) 读图文材料, 回答问题。

汉唐时期的北方“丝绸之路”主要经过水草丰美的欧亚草原, 沿线有许多古文明中心, 是东、西方物资和文化交流的主要通道, 后来逐渐衰落。

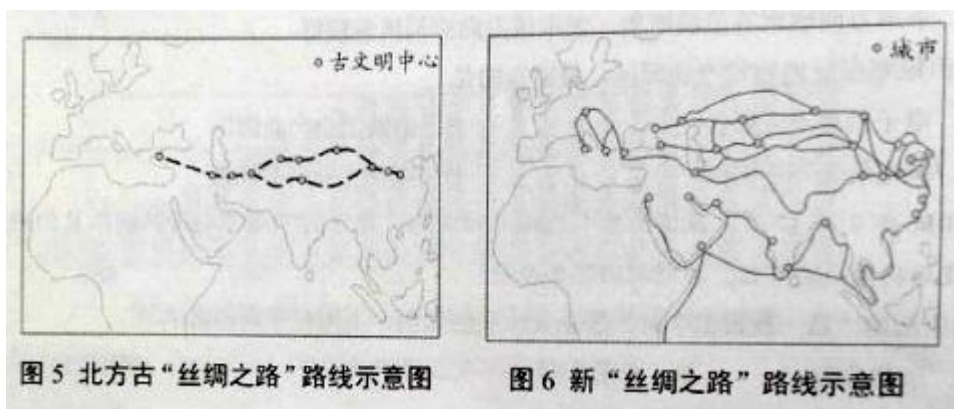


图5 北方古“丝绸之路”路线示意图

图6 新“丝绸之路”路线示意图

- (1) 从地理环境变化的角度, 说明北方古“丝绸之路”衰落的原因。(6分)
- (2) 由高速铁路和公路运输、管道运输、海上运输、航空运输、光缆信息传输等组成的新“丝绸之路”, 体现出地域联系方式的哪些发展趋势?(6分)
- (3) 随着陆上“丝绸之路”经济带的建设, 我国西部一些城市作为新“丝绸之路”上的重要节点, 将成为对外开放的前沿。这些城市应如何适应这种变化?(6分)

13. (18分) 读图文材料, 回答问题。

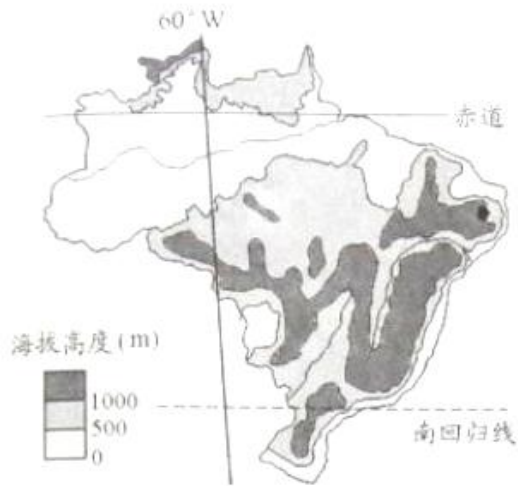


图 7 巴西地形示意图

表 1 巴西和中国农业状况对比表

		耕地面积 (万公顷)				
年份	国家	2006	2008	2010	2012	2014
	巴西	6100	6500	8000	7800	9400
	中国	12178	12172	13539	13516	13859

注: 巴西粮食种植面积约占耕地面积的60%, 中国约占70%

		粮食产量 (万吨)				
年份	国家	2006	2008	2010	2012	2014
	巴西	11660	13800	14000	16300	19300
	中国	49800	52870	54640	58950	60710

某中学地理小组查阅了巴西和中国农业发展状况相关资料, 结合对巴西地理环境条件的分析, 认为巴西粮食增产潜力巨大。

(1) 结合材料从农业生产条件角度, 分析巴西粮食增产潜力巨大的原因。(6分)

(2) 据图 8、图 9 说明巴西 1、7 月降水量的差异并分析原因。(6分)

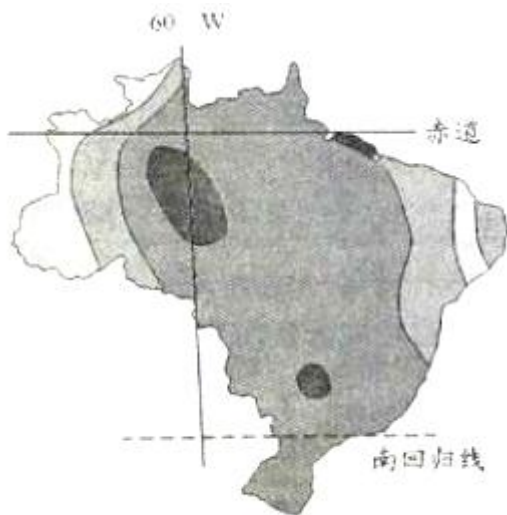


图 8 巴西 1 月降水量分布图

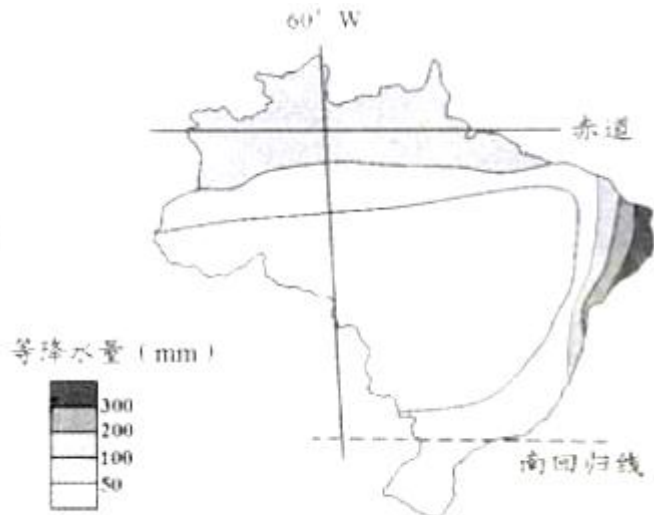


图 9 巴西 7 月降水量分布图

(3) 巴西将于 2016 年 8 月举办第 31 届夏季奥运会, 届时将有大量游客来到巴西, 这将会给巴西的社会和文化带来哪些有利和不利影响? (6分)

14. (20分) 读图文材料, 回答问题。

台湾省与福建省隔海相望，省内 80%人口的祖籍是福建。两岸“三通”的启动和《海峡两岸经济合作框架协议》的实施，加深了两岸的经贸往来。目前福州、厦门等地已建成多个台商投资区。



图 10 我国东南沿海部分地区示意图

(1) 说明台商投资区集中在福建省福州、厦门等城市的原因。(6分)

福建省湄洲岛是“妈祖文化”的发祥地，妈祖被尊为“海上保护神”。世界上有 30 多个临海国家和地区受“妈祖文化”影响，建有上万座妈祖庙。

(2) 当地政府应如何利用“妈祖文化”在海内外的影响发展旅游业？(6分)

浙江省沿海的洞头岛受台风及其次生灾害的影响较大。当地政府为保护人民生命和财产安全，规划确定了“防灾避险地”。

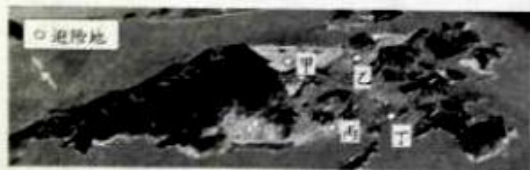


图 11 洞头岛景观图



图 12 洞头岛避险地分布示意图



(3) 对照下表中“防灾避险地”的选址条件及其主要原因，填写空项目。(8分)

选址条件	主要原因
地处山坳	利于避风
相对空旷的公共用地	①
②	躲避滑坡、泥石流等灾害
③	方便居民就近避灾
有通道与外界相连	④

绝密★启封前

2016 普通高等学校招生全国统一考试（天津卷）

文科综合（政治部分）

注意事项：

1. 本试卷分第 I 卷（选择题）和第 II 卷（非选择题）两部分。答题前，考生务必在将自己的姓名、考生号填写在答题卡上。
2. 回答第 I 卷时，选出每小题选出答案后，用铅笔把答题卡上对应题目的答案标号涂黑，如需改动，用橡皮擦干净后，再选涂其他答案标号。写在试卷上无效。
3. 回答第 II 卷时，将答案卸载答题卡上，写在试卷上无效。
4. 考试结束，将本试卷和答题卡一并交回。

第 I 卷

本卷共 35 小题。每小题 4 分，共 140 分。在每个小题给出的四个选项中，只有一项是符合题目要求的。

1. 党的十八届五中全会通过了《中共中央关于制定国民经济和社会发展第十三个五年规划的建议》，该文件广泛听取了各民主党派中央、全国工商联和无党派人士的意见和建议。今年两会上，代表和委员拿到的“十三五”规划纲要草案，就是在该文件的指导下制定的。这说明

- ①中国共产党是中国特色社会主义事业的领导核心
  - ②我国实行共产党领导的多党合作和政治协商制度
  - ③人大代表是国家权力机关的组成人员，代表人民行使决定权
  - ④人民政协是协商民主的重要渠道，履行参政议政的国家职能
- A. ①② B. ①④ C. ②③ D. ③④

2. 网络空间是亿万民众共同的精神家园，维护互联网的良好秩序是广大民众的共

同心声。第十二届全国人大常委会第十五次会议初次审议了《中华人民共和国网络安全法（草案）》，而后该草案在中国人大网公布，向社会公众征求意见。这表明

- A. 依法治国与依法执政是统一的
- B. 政府决策能够反映民意、集中民智
- C. 社会主义民主具有广泛性和真实性
- D. 公民通过社会公示制度参与民主监督

3. 2015 年，中国外交交出了一份令人欣喜的成绩单。从夯实构建中美新型大国关系共识，到巩固深化中非全面战略合作伙伴关系；从参与解决伊核问题，到推动巴黎气候大会协议达成；从中韩、中澳自贸协定生效，进口商品降价，到多国调整对华签证政策，出入境更加方便，中国与世界进入了深度互动。从中可以看出

- ①中国已成为维护世界秩序的主导力量
- ②中国是维护世界和平与发展的重要力量
- ③国际关系是由国家间的共同利益决定的
- ④我国的外交政策是为人民的利益服务的

- A. ①②
- B. ①③
- C. ②④
- D. ③④

4. 2016 年 1 月 1 日，M 先生收到 L 先生偿还的为期一年的借款本金 10 万元与利息 5000 元，同期二人所在的国家通货膨胀为 7%，这意味着

- A. 该国的社会总需求小于社会总供给
- B. 民间借贷是造成通货膨胀的原因之一
- C. 在此借贷关系中，通货膨胀使双方利益同时受损
- D. 在此借贷关系中，通货膨胀损害了 M 先生的利益

5. 大多市场风险是可以通过保险手段化解的。以食品安全责任险为例，企业投保后一旦出现问题，保险公司可以按约及时补偿受害人，同时保险公司“连餐馆用啥洗碗都管”，有利于督促企业安全管理。食品安全责任险

- ①是社会保险的重要组成部分
- ②发挥了商业保险的经济补偿功能
- ③是政府规范市场经济秩序的重要方式
- ④促进食品企业提高产品质量，诚信经营

A. ①②    B. ③④    C. ②④    D. ①③

6. 《中共中央、国务院关于深化体制机制改革、加快实施创新驱动发展战略的若干意见》强调，要鼓励各类企业通过股权、期权、分红等激励方式，调动科研人员创新积极性。实施股权激励方式

- A. 是我国分配制度的重大变革
- B. 是生产要素按贡献参与分配的体现
- C. 是我国按劳分配制度的完善与发展
- D. 保障了科研人员在企业发展中的主体地位

7. 供给侧结构性改革是引领中国经济适应新常态的重大举措。在此过程中，绝不能将供给侧改革与扩大需求分离开来。没有需求，供给就无从实现，新的需求可以催生新的供给；没有供给，需求就无法满足，新的供给可以创造新的需求。这表明

- ①供给与需求是相互依赖的
- ②供给与需求是相互排斥的
- ③供给与需求是相互贯通的

④供给与需求是相互独立的

A. ①② B. ①③ C. ③④ D. ②④

8. 下列说法与漫画《过沟》蕴含的哲理一致的是

- A. 不积跬步无以至千里
- B. 世上无难事只要勤思考
- C. 不经历风雨怎能见彩虹
- D. 坐而论道不如起而行之




图1 《过沟》 韦荣景

9. 2016 年新学期开始，浙江多所大学的学生社团共同发起了“蚂蚁助学计划”，发动大学生每月捐出 2 元钱，50 个大学生组成一个“蚁窝”，资助一个蚂蚁宝宝（贫困地区小学生）。三月份，他们已经用 875 位大学生的捐款，资助了安徽省 17 名“蚂蚁宝宝”。这些大学生的行为启示我们

- A. 价值观对人的成长有促进作用
- B. 要在砥砺自我中走向成功
- C. 满足他人需要是实现人生价值的前提
- D. 人的价值在于对社会的责任和贡献

10. 中国古代园林建筑的独特之处，在于把哲学观念与历史文脉融入砖石草木之中，使建筑成为中华文化遗产的视觉象征。例如为世人所称道的苏州园林，“虽为人作，宛自天成”，体现了“天人合一”的精神追求。这印证了

- ①中华文化的博大精深
- ②园林建筑是文化的物质载体
- ③文化的传承依赖于传统建筑的保护

④文化是维系民族生存和发展的精神纽带

- A. ①②      B. ②④      C. ①③      D. ③④

11. 在中国文学博物馆，4D 电影《甲骨文》向观众展示着甲骨文的产生、发展和演变历程。还原古代生活场景时，影院画面、音响和座椅巧妙配合，带观众穿越数千年，讲述甲骨文字形时，立体图形灵活转换，让观众感受古人造字的智慧。

从中看出

- A. 科技是推动文化发展的决定因素  
B. 现代信息技术的运用促进了文化传播  
C. 甲骨文的出现，标志着人类进入文明时代  
D. 文化与经济相互交融，科技的作用越来越重要

## 第 II 卷

**注意事项：**

1. 用黑色墨水的钢笔或签字笔将答案写在答题卡上。
2. 本卷共 3 题，共 56 分。

12. 阅读材料，回答问题。（33 分）

实施“走出去”战略是我国对外开放新阶段的重大举措，海外并购已成为中国企业“走出去”的重要方式。

材料一




图2 2014-2015年中资企业海外并购项目数量与交易金额

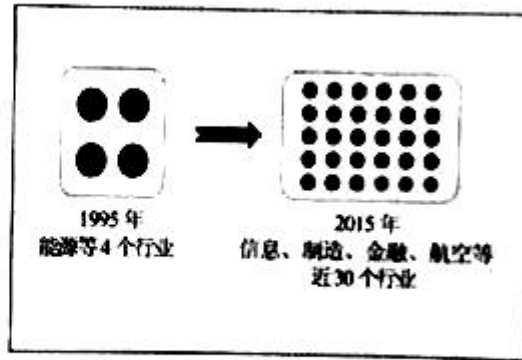


图3 1995年与2015年中资企业海外并购覆盖行业对比

(1) 解读材料一中的经济信息。(4分)

材料二 当今世界各国经济联系日益紧密,2016年伊始,中资企业的几笔海外并购令人瞩目,并购的领域侧重于电子信息等战略性新兴产业,并购的对象是拥有先进技术和品牌影响力的企业。并购既可以使中资企业迅速切入高端市场,也可以使被并购企业借助中国企业的关联渠道,特别是依托“一带一路”,进一步扩展销售渠道和全球影响力。

(2) 依据材料二,运用《经济生活》知识阐明中国企业海外并购的意义。(9分)

材料三 浙江吉利集团对沃尔沃的成功并购具有典型意义,2002年该集团根据世界汽车工业格局和自身条件,萌发了海外并购的念头,为实现从低端到高端的跨越式发展,吉利集团选择并购沃尔沃,为此制定了完备的方案,遵循国际商业规则,运用市场运作方式,吉利集团于2010年8月成功完成对沃尔沃的并购,几年来,该集团业绩稳定,快速实现了转型升级。

(3) 运用马克思主义唯物论的知识,分析吉利集团案例对国内企业海外并购的启示。(12分)

(4) 有人认为,中资企业大规模海外并购能够解决西方国家的经济危机,运用马克思的经济危机理论对此作出判断并说明理由。(8分)

13. 阅读材料,回答问题。(10分)

“美丽天津·一号工程”已经持续推进了三年。如今置身天津的人们会欣喜

地发现，蓝天白云的数量在渐渐增多，而这背后是社会上下坚持不懈努力的结果。三年来，天津市人大相继出台了《天津市大气污染防治条例》《天津市水污染防治条例》等地方性法规；2015年市环保局派出20个区县工程组，配备了八百多名负责环保监督的“网格员”，设置了二百多个空气质量自动监测站，布下了治理大气污染的“天罗地网”；为营造绿色生活环境，广大居民以“社区是我家、维护靠大家”为主题，纷纷开展了“慎放烟花、远离雾霾”等形式多样的环保活动。

结合材料，说明天津市为实现“蓝天白云”所做的努力蕴含的政治生活道理。

#### 14. 阅读材料，回答问题。（13分）

守望相助，邻里相恤，在我国有着几千年的传统。但近几年随着城镇化进程加快，邻里往来减少，关系趋于淡漠。12年前，因为一位小学生的倡议，青岛市海伦路街道试办了第一届“邻居节”，之后再市北区全面推广，今年扩至全市。12年来，这个百姓自己的节日从小到大，活动形式从大众化的自娱自乐扩展到邻里友爱互助和各类志愿服务，密切了居民间的情感联系，促进了“亲人善邻、和睦融洽”的新型邻里关系的建构。

（1）依据材料，运用《文化生活》知识，说明“邻居节”由小变大的原因。（8分）

（2）“家庭是社会的基本细胞，是人生的第一所学校。不论时代发生多大变化，不论生活格局发生多大变化，我们都要重视家庭建设，注重家庭、注重家教、注重家风”。请列举一项优良家风，并运用所学知识说明传承该家风的两点意义。（5分）



