

2015年普通高等学校招生全国统一考试（天津卷）

文科综合

文科综合共 300 分，考试用时 150 分钟。

地理试卷分为第 1 卷（选择题）和第 II 卷（非选择题）两部分。第 1 卷 1 至 4 页，第 II 卷 5 至 7 页，共 100 分。

答卷前，考生务必将自己的姓名、准考证号填写在答题卡上，并在规定位置粘贴考试用条形码。答卷时，考生务必将答案涂写在答题卡上，答在试卷上的无效。考试结束后，将本试卷和答题卡一并交回。

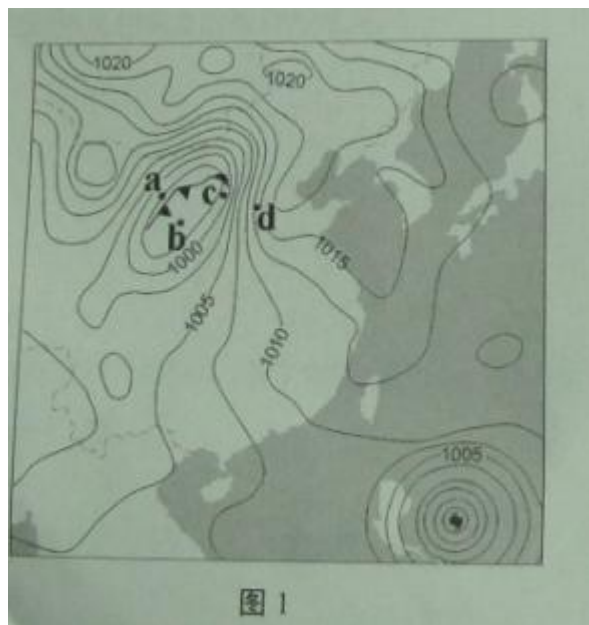
祝各位考生考试顺利！

第 1 卷

注意事项：

1. 每题选出答案后，用铅笔将答题卡上对应题目的答案标号涂黑。如需改动，用橡皮擦干净后，再选涂其他答案标号。
2. 本卷共 11 题，每题 4 分，共 44 分。在每题给出的四个选项中，只有一项是最符合题目要求的。

读 2015 年 5 月某日 12 时海平面等压线分布图（图 1，单位：百帕），回答 1-2 题。



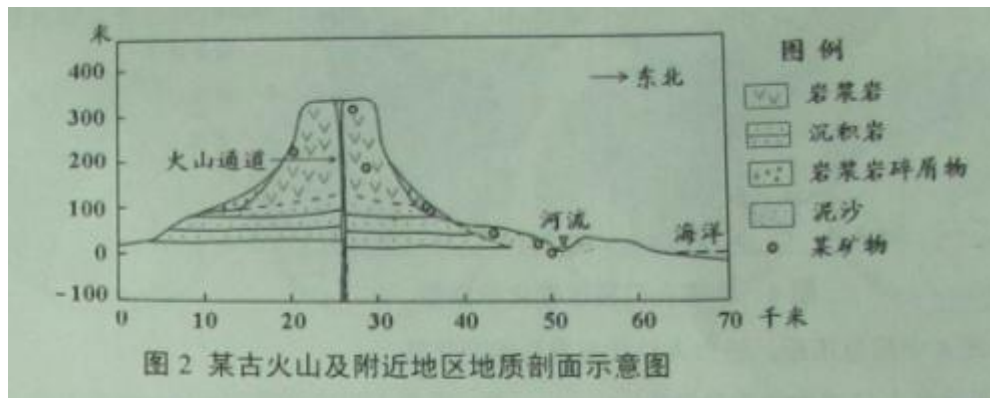
1. 此时出现大风、降温、雨雪天气的地点是

- A. a B. b C. c D. d

2. 此时最可能出现灾害性海浪的是

- A. 黄海沿岸 B. 台湾海峡 C. 海南岛周围海域 D. 菲律宾附近海域

某矿物形成于上地幔软流层，后随岩浆活动到达地表。人们在图 2 所示古火山的岩浆岩及河滩泥沙中均发现了该矿物。读图文材料，回答 3 -4 题。



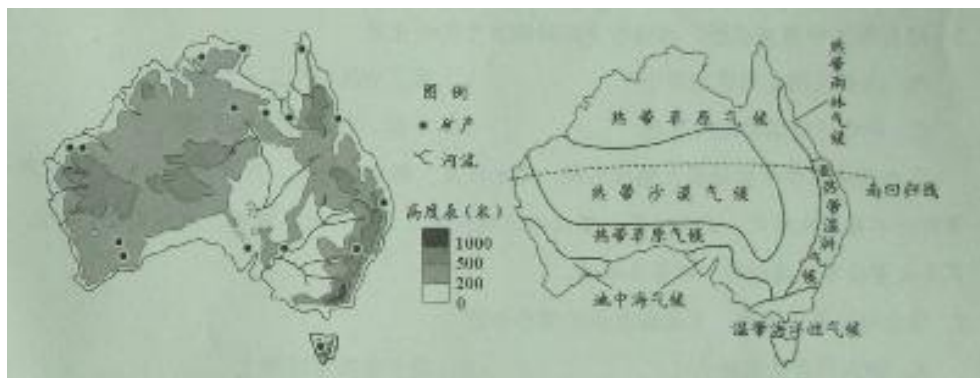
3. 使该矿物从上地幔软流层到达河滩泥沙中的地质作用，依次应为

- A. 岩浆喷发 岩层断裂 风化、侵蚀 搬运、沉积
- B. 岩浆喷发 岩层断裂 搬运、沉积 风化、侵蚀
- C. 岩层断裂 岩浆喷发 风化、侵蚀 搬运、沉积
- D. 岩层断裂 岩浆喷发 搬运、沉积 风化、侵蚀

4. 剖面图中绘制的火山坡度，与实际的火山坡度相比

- A. 变陡了
- B. 变缓了
- C. 无变化
- D. 无法判断

读图 3，回答第 5 题。



5. 结合图 3 判断，在澳大利亚，基本符合地带性分布规律的地理现象是

- A. 水系的分布特征
- B. 地形的东西差异
- C. 热带荒漠的分布
- D. 矿产的分布特点

图 4、图 5 表示城市人口密度和城区在 15 年间的变化。读图回答 6-7 题。

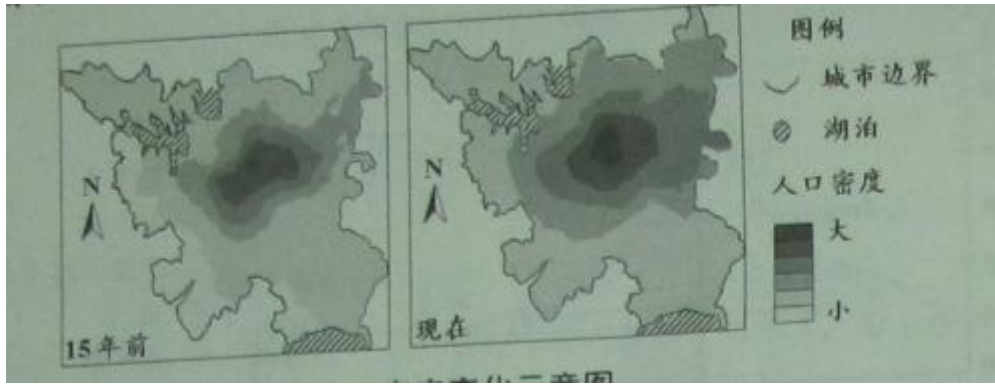


图4 H市人口密度变化示意图

6. 结合图4中的信息推断, 该市人口状况发生的变化是

- A. 其北部人口增加的数量最多
- B. 全市人口密度增加
- C. 市中心的人口密度有所降低
- D. 东部人口增长较慢



图5 H市城区变化示意图

7. 结合图5中信息推断, 该城市空间结构发生的变化是

- A. 商业区的分布更加集中
- B. 新工业区向老工业区集聚
- C. 住宅区向滨湖地区聚集
- D. 中部、南部路网密度增大

艾比湖是准噶尔盆地最大的咸水湖, 湖水较浅。湖中有鱼类、芦苇等动植物资源, 芦苇对海水有净化作用。近几十年, 艾比湖流域新增了大量耕地、灌渠, 湖面缩小了1/2, 芦苇大量枯萎, 读材料回答8-9题。

8. 结合材料信息推测, 艾比湖面积的缩小会使

- A. 湖水的含盐量减小
- B. 湖中鱼类密度增大
- C. 湖泊自净能力减弱
- D. 湖水蒸发总量增大

9. 为防止艾比湖继续萎缩, 在该湖流域应采取的措施是

- A. 修建水库, 调节径流
- B. 退耕还林, 保护水源
- C. 退耕还湖, 水产养殖
- D. 种植芦苇, 改善水质

2015年某日出现了日食现象。在四幅日照图中, 深色阴影为夜半球, 浅色阴影为当时可观测到日食的地区范围。读图6, 回答10~11题。

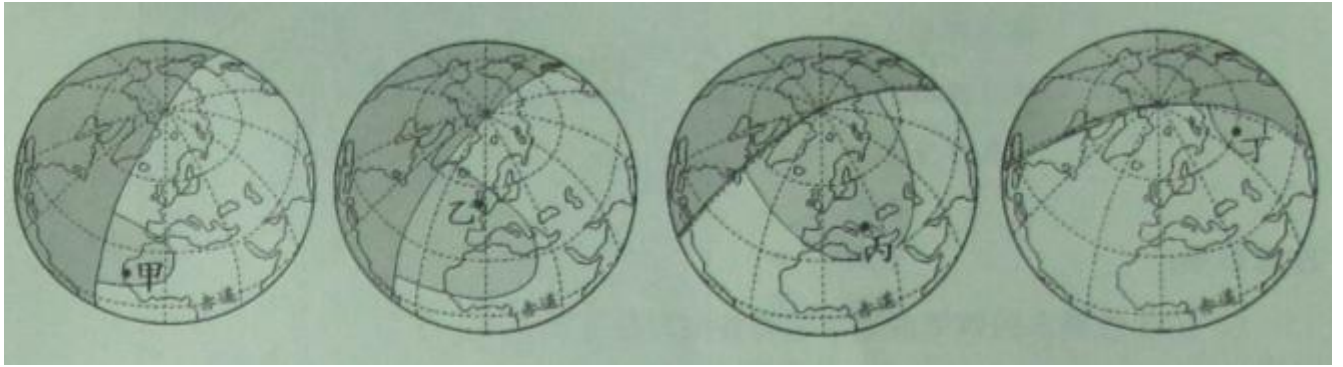


图6

10. 发生日食的这天，在图6所示四地中，正午太阳高度角最大的是

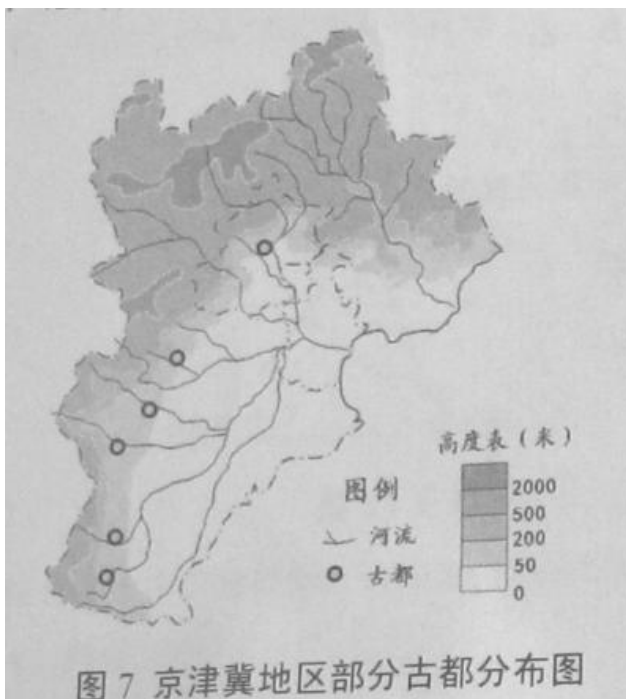
- A. 甲 B. 乙 C. 丙 D. 丁

11. 在图6所示四地中，观测者正朝西南方向观测日食的是

- A. 甲 B. 乙 C. 丙 D. 丁

第 II 卷

12. (12分) 结合图文材料，回答问题。





京津冀地区古都较多，这些古都大多是在农业文明基础上形成的，分布有共同特征。

(1) 据图 7 分析，古都分布与山脉、河流的位置关系是_____、_____。这种区位为当地农业生产提供了哪些有利的自然条件？请答出两条。（10 分）

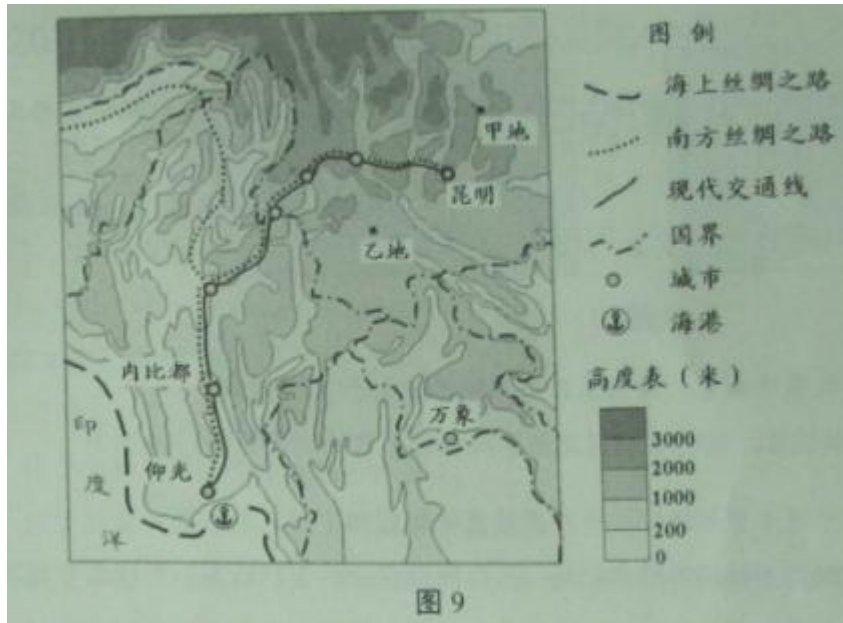
为实现京津冀区域协同发展，河北省作为我国钢铁产量最多的省份，规划将部分钢铁企业向沿海临港地区转移，并实施企业合并和技术改造。

(2) 结合图 8 和文字材料分析，这种调整为什么能促进河北省钢铁工业发展，改善京津冀地区的大气环境？请各答一条。（6 分）

天津中心城区拥有周恩来邓颖超纪念馆、古文化街、五大道、水上公园等旅游资源，近十年来，京、冀等地来津的游客众多，仅周邓纪念馆就接待游客达 1000 多万人次。

(3) 从旅游资源本身的角度，说明参观周邓纪念馆人数众多的原因，请答出三条。（9 分）

13、读图，回答问题。（20 分）



自古以来，“南方丝绸之路”就是我国西南地区与东南亚、南亚国家的贸易通道。

(1)说明古代“南方丝绸之路”基本沿山间谷地分布的自然和人文原因。请各答一条。(4分)

目前我国正在沿此路建设高标准公路、铁路，与缅甸境内的公路、铁路相接，以实现与海上丝绸之路的连通。

(2)高标准公路、铁路的建成，将给我国西南地区对外联系带来哪些好处？请列举两条。(6分)

图9所示甲、乙两地2014年先后发生了地震，相关情况见下表。

| 地点 | 地震时间 | 震级 | 震源深度 | 地形状况 | 植被状况 | 人员财产损失 |
|----|--------------|------|------|------|------|--------|
| 甲 | 8月6日 16:30 | 6.5级 | 12km | 高山峡谷 | 稀疏 | 大 |
| 乙 | 10月17日 21:49 | 6.6级 | 5 km | 丘陵为主 | 茂密 | 小 |

图9

(3)甲地损失比乙地大，主要是由于甲地的地震引发了_____灾害，此灾害是如何形成的？请利用表中两条信息加以说明。(8分)

14、(24分)结合图文材料，回答问题。

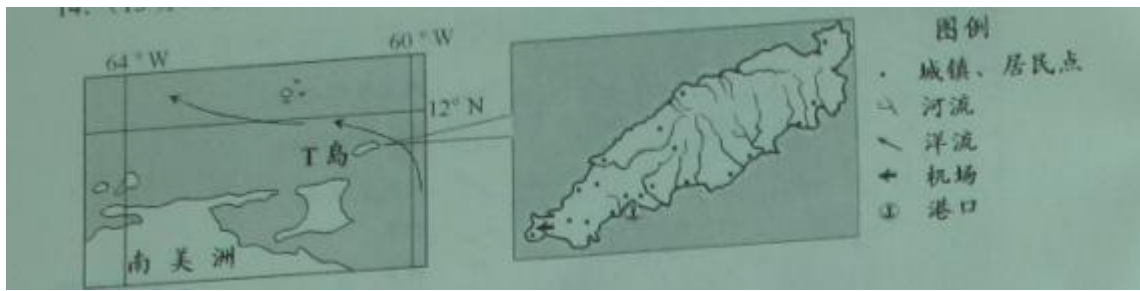


图 10

T 岛所在国家为发展中国家，该岛东北部年降水量大于 2000 毫米。

(1) 结合图 10 所示信息，说明 T 岛东北部年降水量丰富的三条原因。(9 分)


T 岛盛产甘蔗，并建立了制糖厂，所产蔗糖多远销国外。

(2) 制糖厂建在本岛而不是国外消费市场，可以降低企业的生产成本，为什么？请答出两条。(4 分)

2015 年天津高考文综试卷历史学科

第 I 卷 选择题 (44 分)

1. “其制两柄上弯，高可三尺-----其所盛种粒，各下通足窍，仍旁加两猿，可容一牛，用一人牵，旁一人执耒，，且行且摇，，种乃自下。”这段话描述的农具是：



A



B



C



D

2. 秦汉时期设置朝议制度，凡遇军国大事，皇帝往往“下其议”于群臣，议定的结果，通常由宰相领衔上奏，最后必须经皇帝裁决，方能施行。这一制度：

A 表明军国大事最终由朝臣决议

B 反映了皇权与相权的矛盾

C 起到了限制、监督皇权的作用

D 有利于皇帝决策时集思广益

3. 维多里诺是 14--15 世纪意大利的教育家，他奉行“身心发展并重”的教育思想，注重发展学生个性，重视骑马、剑术、舞蹈、游泳等方面的能力培养，，他还要求学生研读古罗马作品和基督教作品，视之为道德教育的重要内容。这反映出

A 人文主义的教育理念

B 宗教制约着教育发展

C 教育摆脱了宗教束缚

D 文艺复兴尚未影响教育领域

4. 茶叶于 1650 年前后引进英国时，是一种贵族享用的奢侈品，每磅售价 6 至 10 英镑，相当于一个男仆年工资 2 倍左右，然而一个世纪后，饮茶逐渐在英国城乡各阶层中普及，茶叶成为英国人不可缺少的普通消费品。引起这一变化的主要原因是：

- A 中国茶叶产量大增
B 英国颁布《航海条例》
C 世界贸易较大发展
D 英国工业革命开始

5. 天津开埠后，直隶顺德府（今河北邢台）农民开始在农闲时结伙赴陕甘蒙等地贩运皮毛，东去春回，到 20 世纪初，收购的皮毛除大量的转运到天津供出口外，部分生皮在顺德加工成皮袄、皮褥等向国内销售。在皮毛运销和加工业带动下，从事非农业生产的人越来越多，这一现象主要说明

- A 中国内地农村经济市场化程度提高
B 近代天津是北方重要港口城市
C 外国资本主义全面冲击中国传统经济
D 中国农村的自然经济开始解体

6. 历史学家金冲及论述说，孙中山曾提出“耕者有其田”的口号，但国民党当政后并没有实行这一政策。20 世纪 30 年代时，中国广大农村仍然是半数以上土地掌握在不足人口总数 10% 的地主富农手中，中国共产党发动土地革命，使数百万无地少地农民获得土地，其本质是

- A 调动农民参加革命的积极性
B 消灭封建土地私有制
C 巩固根据地红色政权
D 推动根据地农业发展

7. 右图为美国特种部队游奇兵 75 团的徽章，徽章下方有国民革命军“青天白日”图案和“缅甸之星”标志，这一设计最能体现的史实是



- A 美国支持国民党军队打内战
B 美国多次发动侵略战争
C 二战期间中美合作抗日
D 美国远征军入缅作战

8. 天津经济技术开发区（泰达）是 20 世纪 80 年代国务院批准设立的首批国家级开发区之一，在全国国家级开发区、工业园区投资环境评价中，天津开发区已经连续多年位居首列。当初设立的主要目的是

- A 服务于天津自由贸易区的建设
B 推动经济体制的改革不断深化
C 引进外资，生产高新技术产品或出口产品
D 加强天津对内地的辐射作用

9. 美国有一位企业家哈默博士，年轻时曾与列宁领导的苏俄交往，进行贸易活动，年老时应邓小平邀请，来中国投资公司，哈默之所以能这样做，在于

- A 苏俄、中国都实行开放政策
B 苏俄、中国都与美国保持友好关系
C 苏俄、中国都愿意发展资本主义
D 哈默敢于冲破美国政府的阻挠

10. 对比下列两幅图片，可以看出近三十年：



1987年中国大陆第一家肯德基餐厅在北京开业



2013年西班牙马德里街头兵马俑巡展广告灯箱

- ①市场经济体制影响加深
- ③中国国际影响力增强

- ②东西方文化融为一体
- ④国际性交流范围扩大

A ①②

B ①④

C ②③

D ③④

11. 一战后，远离欧洲的日本对德宣战，在对德通牒和战后诏书中，日本声称是为了“永保东亚和平”及“维护日英同盟的利益”日本首相发表演说，强调日本参战是对德国鼓动干涉还辽的复仇战，这些行为：

- A 反映了德日矛盾的激化
- C 维护了英日同盟的利益

- B 意在掩盖参战意图
- D 力图保护东亚和平

第 II 卷（56 分）

12、（22 分）古代中国和古代罗马相距遥远，然而两者的历史发展可做一些比较。阅读材料，回答下列问题：

| 历史时期 | 古代中国 | 古代罗马 |
|---------------------|------------------|----------------------|
| ①公元前 5 世纪----前 4 世纪 | 秦国商鞅变法（前 356 年） | 罗马制定《十二铜表法》（前 451 年） |
| ②公元前 3 世纪 | 秦始皇统一中国（前 221 年） | 罗马统一意大利（前 270 年） |

| | | |
|---------------------|--|---|
| ③公元前 2 世纪---公元 2 世纪 | 西汉、东汉王朝强盛时期 (前 202 年---公元 184 年) | 罗马强盛时期 (公元前 201 年---公元 192 年) |
| ④公元 3 世纪 | 汉末混乱, 三国鼎立 (184--280) 西晋统一王朝 (280--316) | 罗马“三世纪危机”(192--284) 罗马帝国中兴 (284---336 年) |
| ⑤公元 4 世纪 | 北方少数民族南下中原 东晋南迁 (317--420 年) 北方十六国时期 (308---439) | 罗马帝国首都东迁 (330 年) 日耳曼人入侵 (375 年起) 罗马帝国东西分裂 (395 年) |
| ⑥公元 5--6 世纪 | 南北朝对峙 (420---589 年) 隋朝再次统一中国 (589 年) | 西罗马帝国灭亡 欧洲日耳曼人小国林立 |

-----吴于廑、齐世荣主编《世界史》，白寿彝主编《中国通史》

(1) 依据材料，概括①至⑤各个时期古代中国和古代罗马的历史特征 (7 分)

(2) 比较①至⑤时期两国历史发展的特征，你发现什么现象？再比较其历史轨迹及变化节奏，你又有什么发现？在此基础上，你有何进一步的理论认识?(8 分)

(3) 第⑥时期中国和欧洲的历史走向有何不同？试从制度层面分析中国出现这一走向的主要原因 (7 分)

13. (18 分) 阅读材料，回答问题：

材料一：

1834 年清廷官员至英国使臣律劳卑广州住处商谈贸易问题，双方在各自应处的座位、方向、次序等问题上发生了严重分歧，中方要求将自己的座位安排在会见大厅的北面(上席)，英方则坚持将自己的座位置于大厅北面主席的突出位置，两者争执不下，商谈未能进行。

-----摘编自王开玺《隔膜、冲突与趋同-----清代外交礼仪之争透析》

(1) 材料一中，中英双方争执的内容是什么？反映了清代官员怎样的心态？结合所学知识，分析英国使臣所持态度的国内背景。(6 分)

材料二：

1901 年，虽经李鸿章讨价还价，清王朝仍被迫接受西方外交使团的礼仪要求，将外国使团觐见清帝的礼仪说帖，作为《辛丑条约》的附件十九，其中规定：外国使臣递交国书时，清帝须派高于王公规格的轿子往来使馆迎送，同时派军队保护；清帝款宴各国使臣应自皇宫大殿内举行，并躬亲入座。

-----摘编王开玺《隔膜、冲突与趋同-----清代外交礼仪之争透析》

(2) 材料二反映了中国怎样的外交地位? 试从国际背景分析其原因。(6分)

材料三:

二战结束后, 接受日本投降签字国家的顺序是美、中、英、苏、澳、加、法、荷等。1946年5月, 在审判日本战犯的远东国际法庭上, 最初法官次序排位是以美、英、苏、中、法为序, 经过中国法官(梅汝璈)的积极斗争, 最终法官席次依照日本投降书上受降签字顺序排列, 必须认识到, 在国际场合争席位, 争排场, 实际上关系到国家的地位与尊严。

-----摘自梅汝璈《远东国际军事法庭》

(3) 材料三中, 梅汝璈在远东国际军事法庭斗争的依据是什么? 结合所学知识加以分析。(4分)

(4) 综上, 你认为哪些因素可影响国家外交地位的变化(2分)

14. (16分)阅读材料, 回答问题:

材料一:

孔子极力倡导仁人君子之道, 从理想人格的意义讲, 孔子所谓的仁人君子不仅应关切个人道德品格修养, 具备忠信、孝悌、克己、好学、知勇、仁恕等诸美德, 而且更应怀抱经世济民的情怀, “老老安之, 朋友信之, 少者怀之”“修己以安人”“修己以安百姓”。

-----林存光《孔子新论》

(1) 材料一中, 孔子心目中的“仁人君子”应具备怎样的品德? 结合所学知识, 简述孔子的政治抱负。(6分)

材料二:

君子之为学也, 非利己而已也, 有明道淑人之心, 有拨乱反正之事; 知天下之势之何以流极而至于此, 则思起而有以救之。

“近世号为通经者, 大都皆口耳之学, 无得于心, 既无心得, 尚安望其致用哉?”

-----顾炎武《顾亭林诗文集》

(2) 材料二中, 顾炎武提倡的治学目的是什么? 他的学术实践在当时有何意义?(4分)

(3) 上述两位思想家的主张有何共同点? 结合当今时代, 谈谈你的认识。(6分)

2015年普通高等学校招生全国统一考试

文科综合能力测试政治（天津卷）

一、选择题：本题共 12 小题，每小题 4 分，共 48 分。在每小题给出的四个选项中，只有一项是符合题目要求的。

1、党的十八大以来，中央以作风建设为切入点和突破口，直击腐败积弊、扶正祛邪，保持惩治腐败的高压态势，彰显我党以“零容忍”立场将反腐败进行到底的决心和信心。这充分表明：中国共产党坚持

- A. 从严治党，保持先进性和纯洁性
- B. 以人为本，发展成果由人民共享
- C. 民主执政，加强执政能力建设
- D. 群众路线，全心全意为人民服务

2、《中共中央关于全面推进依法治国若干重大问题的决定》强调，“法律的权威源自人民的内心拥护和真诚信仰。人民权益要靠法律保障，法律权威要靠人民维护。”这意味着

- ①法律要代表公民的意志
- ②法律要造福人民和依靠人民
- ③政府要坚持依法治国与以德治国相结合
- ④公民要树立权利与义务相统一的法治意识

- A. ①② B. ①③ C. ③④ D. ②④

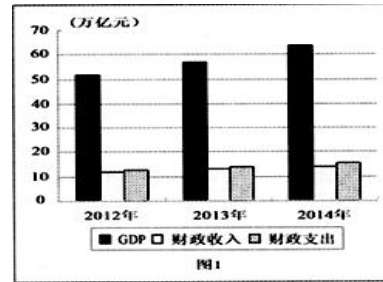
3、790 多年前，成吉思汗带领蒙古大军挥舞弯刀驰骋征战，如今他的后代用马头琴向世界传递和平之声。为纪念世界反法西斯战争胜利 70 周年，内蒙古野马乐团准备了《初升的太阳》等曲日，寓意“和平就是我们的太阳”。这反映了

- A. 世界和平面临诸多难题和挑战
- B. 和平与发展是当今时代的主题
- C. 中国人民爱好和平的真诚愿望
- D. 我国奉行独立自主的和平外交政策

4、随着手机的广泛使用，近期一种方便手机自拍的“神器”——自拍杆的市场需求大量增加。深圳的一家生产企业最多时一天就能卖出三四万个，其中 70% 销往巴西。在巴西市场上，中国产的自拍杆因便宜好用，一度占至市场份额的 99%。这段材料表明

- A. 供求与商品价格相互影响
- B. 经济全球化为企业发展提供了机遇
- C. 独特的技术是占有市场份额的决定性因素
- D. 一种商品的价格与其互补品的需求量呈反向变动

5、根据《经济生活》知识，结合图 1 能够得出的正确结论是



- A、财政收支与经济总量正相关
- B、财政赤字是经济发展中的必然现象
- C、紧缩性财政政谈足政府抑制经济过热的手段
- D 经济总量提高是财政收入增加的基础

6. 湖南省长沙县是工业强县，也是排碳大县。针对经济发展中的环境问题，该县提出创建全国“零碳县”的目标，引进推广了中南林业大学新研发的“绿心速生草”。这种草吸收和固化二氧化碳是相等面积森林的14倍左右，它不仅生长快，而且种植户可以多次收割并加工成碳产品出售。该材料说明

- ①环境保护问题应该主要由政府解决
- ②保护环境应该发挥市场决定性作用
- ③经济发展可以与环境保护相协调
- ④科技创新有助于经济发展和环境保护

- A. ①②
- B. ③④
- C. ①③
- D. ②④

7、中国经济发展正在步入新常态。新常态，就是中国经济将在速度上从高速增长转为中高速增长，在结构上体现为经济结构优化升级，在动力上从要素驱动、投资驱动转向创新驱动。从哲学上看，新常态体现了

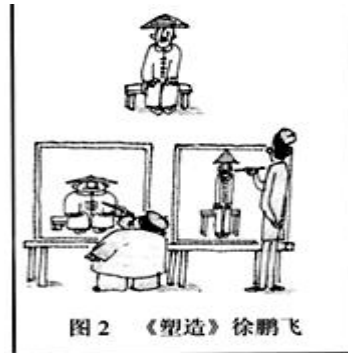
- ①事物绝对运动与相对静止的统一
- ②事物发展是由量变到质变的过程
- ③事物发展的状态是前进性和曲折性的统一
- ④新事物对旧事物的根本否定

- A、①②
- B. ①④
- C. ②③
- D. ③④

8. “炮制虽繁必不敢省人工，品味虽贵必不敢减物力”是同仁堂人的承诺：“修合无人见，存心有天知”是同仁堂人的良心。在这份坚守中，同仁堂从346年前的一间小药铺发展为今天享誉中外的著名企业。同仁堂的成功得益于

- A. 爱岗敬业，在无私奉献中创造价值
- B. 遵纪守法，在追求和谐中成就自我
- C. 艰苦奋斗，在自主创新中谋求发展
- D. 诚实守信，在服务社会中实现价值

9、漫画《塑造》所蕴含的哲理是



- A. 认识的对象具有多重属性
- B. 认识受主体自身状况的影响
- C. 意识是移入人脑的客观存在
- D. 意识是对客观存在的正确反映

10. “稻花香里说丰年，听取蛙声一片。”在太湖边上的杨湾村，夜里曾“聒噪”的蛙声，如今成了农民增收的资源。有人根据当地青蛙多的特点，想到在银色月光里听着蛙唱，喝着碧螺春，可能是城里人向往的惬意生活，于是用这个文化创意建起“青蛙村”，搞起休闲游，取得了良好的经济效益。这体现了

- A. 文化对经济发展有促进的一面
- B. 文化发展是经济发展的基础
- C. 文化创意增强了人的精神力量
- D. 古典文化提升了人的需求层次

11. 互联网催生了网络语言，从某种角度上折射了时代的进步、社会的繁荣。“点赞”，“蛮拼”、“任性”等生动形象的网络语言进入了人们的日常生活，并登堂入室被主流媒体采用。这种现象反映了

- ①网络语言丰富了汉语言文化
- ②网络语言提升了我国文化软实力
- ③网络语言的出现是社会进步的重要标志
- ④大众传媒在文化传播中发挥了重要作用

A ①② B ③④ C ①④ D ②③

12. 阅读材料，回答问题。(31分)

经济下行与新增劳动力就业压力是当前宏观经济面临的突出问题。2010年至2014年我国经济增长率分别是：10.3%，9.2%，7.8%，7.7%和7.4%；《中国劳动保障发展报告(2014)》显示，2013年我国劳动年龄人口9.2亿，之后几年每年新增劳动力数量将维持在1600万人左右的水平。

李克强总理在今年的政府工作报告中指出，“我国是世界上最大的发展中国家，仍处于并将长期处于社会主义初级阶段，发展是硬道理，“要稳住速度，确保经济平稳运行，确保居民就业”

- (1) 结合材料，根据《经济生活》知识，说明为什么要“稳增长、保就业”。(12分)
- (2) 从社会主义市场经济体制基本框架三个最重要环节的角度，谈谈如何促进就业(9分)

(3) 运用《生活与哲学》中关于社会历史的知识, 说明“稳增长、保就业”政策的理论依据。(10分)

13、阅读材料, 则回答问题(10分)

我国 1994 年正式接入互联网, 目前在用户规模, 网上信息资源利用等方面已经位居世界前列。迅猛发展的网络信息传播渠道和网络新媒体平台, 以及将世界各国联系在一起的国际互联网体系, 对社会各领域产生着日益深远的重大影响。今年 3 月, “互联网+”一词被政府工作报告使用后, 国内正在不断衍生出“互联网+医疗”, “互联网+安全”等热点话题。

如果“互联网+政治生活”, 将对我国政府的仁作产生哪些积极影响?

14 中国是世界文化遗产大国, 五千年绵延不断的中华文明史留下了数量众多、异彩纷呈的物质和非物质文化遗产。阅读材料, 回答问题(15分)

材料一 农历新年——春节, 是中国人古老而隆重的传统节日。经过几千年的发展变化。它在今天仍然是国人心中辞旧迎新的期盼, 迎禧接福的祝愿, 家人团聚的温馨。而这样一个重要的节日, 在上世纪二三十年代, 却被当作落后民俗险遭废止。民国政府为了“与国际接轨”, 先是采用西历, 后又强令废除农历新年, 但最终拗不过民情。没能“革”掉春节的“命”。

(1) 依据材料, 运用《文化生活》知识, 谈对中国传统文化的认识。(9分)

材料二 近日, 江西省婺源县一座面积达 1800 平方米的大型清代古民居被某古玩商千里大挪移到广西复原重建。对这种古建筑千里“搬家”现象, 有人认为, 在地方财政无法支撑巨额维护费用的情况下, 异地搬迁不失为一种保护方式; 有人认为, 古建筑离开了原先的地理环境和文化土壤, 会消解它本身蕴含的文化, 是一种破坏。

(2) 对这种古建筑“搬家”, 请用所学知识给出支持或反对的两点理由。(要求两点理由不能出自“思想政治”的同一必修课程)(6分)