

2015年普通高等学校招生全国统一考试（广东卷）

文科综合

第I卷

本卷共35小题。每小题4分，共140分。在每个小题给出的四个选项中，只有一项是符合题目要求的。

一、选择题：本大题共35小题，每小题4分，共140分。在每小题列出的四个选项中，只有一项是符合题目要求的。

1. 数字高程模型是对地貌形态的虚拟表示，可描述地面高程信息。图1为某旅游区的数字高程模型图，图中甲、乙、丙、丁四处观景平台视野最广的可能是（ ）



图1

- A、甲 B、乙 C、丙 D、丁

【答案】C

【解析】

试题分析：根据图例信息可知，颜色越亮，高程越高，即可丙地海拔最高，是图示区域的最高点，在此处设立观景平台视野最广，甲乙丁三处海拔低，位于山谷或山坡处，受两侧山顶的阻挡，视野差一些。

考点：地形图。

2. 大规模的火山爆发可能造成地表温度下降。其合理的解释是火山爆发导致（ ）

- A、大气二氧化碳浓度增加 B、高纬度地区极光现象减少
C、地球表面长波辐射增强 D、到达地面的短波辐射减弱

【答案】D

【解析】

试题分析：大气二氧化碳浓度增加，大气中逆辐射增强，会使地表温度上升；极光现象与地表温度无关；地表长波辐射增强表明地表温度升高；而火山爆发，所产生的火山灰会对太阳的短波辐射削弱，使到达地面的短波辐射减弱，地面吸收太阳辐射减少，因而地表温度下降。故选D。

考点：大气的热力作用

3. 有文献表述：“地带性就是地球形状和地球的运动特征引起地球上太阳辐射分布不均而产生有规律的分异”。按此理解。下列景观变化属于地带性的是（ ）

- A、非洲西部从赤道向南北出现的森林——草原——荒漠景观
- B、阿尔卑斯山从山麓向上出现的森林——草甸——寒漠景观
- C、内蒙古自治区从东向西出现的森林——草原——荒漠景观
- D、新疆维吾尔自治区塔里木盆地出现的荒漠——绿洲景观

【答案】A

【解析】

试题分析：文献表述的地带性属于从赤道向两极的地域分异规律，而非洲西部从赤道向南北出现的森林——草原——荒漠景观，属于此规律；而阿尔卑斯山从山麓向上出现的森林——草甸——寒漠景观，属于垂直地域分异规律；内蒙古自治区从东向西出现的森林——草原——荒漠景观，属于由沿海到内陆的地域分异规律；新疆维吾尔自治区塔里木盆地出现的荒漠——绿洲景观，属于非地带性规律。故选A。

考点：自然环境的地域差异。

4、表1为2009年四个国家的人口数及百万人以上大城市人口占本国人口比重统计表。由此可判断该年（ ）

表1

国家	中国	印度	德国	美国
人口数（百万人）	1338	1155	82	307

比重 (%)	17	13	8	4.5
--------	----	----	---	-----

*未含台湾省统计数据。

- A、中国的城市化水平已经明显超过了德国
- B、中国百万人以上大城市数量比德国少
- C、中国百万人以上大城市人口比美国少
- D、中国百万人以上大城市人口比印度多

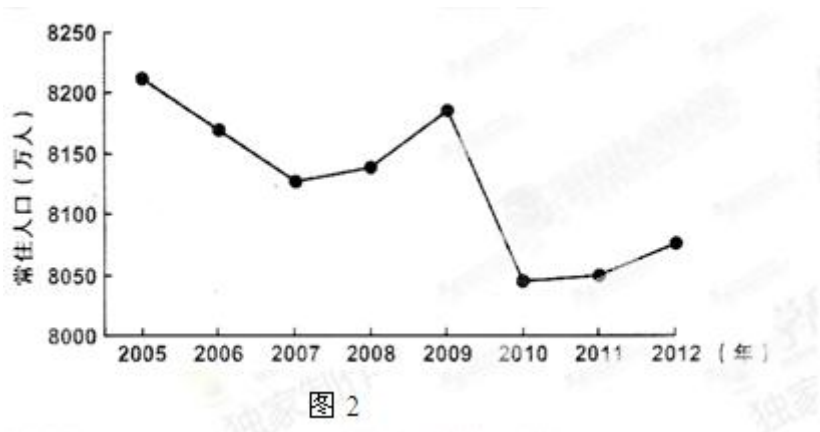
【答案】D

【解析】

试题分析：表中数据不能判断城市化水平，也不能判断百万人以上大城市数量多少；但由百万人以上大城市人口占本国人口比重，以及各国的人口总数，可以推断百万人以上大城市人口的数量，所以经计算可知，中国百万人以上大城市人口比美国和印度多，故选D。

考点：城市人口。

5、图2为2005年-2012年我国某省常住人口数量变化图。由图可推断该省是（ ）



- A、海南
- B、四川
- C、广东
- D、浙江

【答案】B

【解析】

试题分析：图示表明该省人口总数变化趋势为减少，但人口总数大，8000多万人，海南和浙江人口总数明显不够，广东由于经济发达，流动人口多，常住人口是增加的，所以只有四川符合条件，四川省经济发展水平相对较低，人口向外迁移较多，导致常住人口总体呈下降趋势。故选B。

考点：人口数量变化。

6、河流的河床形态，受流域内多种因素的影响，下列因素中，对河床形态影响不大的是（ ）

- A、岩石性质 B、通航里程 C、地质构造 D、降水多少

【答案】B

【解析】

试题分析：岩石性质、地质构造和降水多少等对河床的侵蚀程度有很大影响，进而影响河床的形态；而通航里程不会影响河水对河床的侵蚀作用的强弱，进而对河床的形态影响不大。故选B。

考点：流水的侵蚀作用。

雾是悬浮于近地面空气中的大量水滴或冰晶，使水平能见度小于1Km的物理现象，读我国某省多年平均年雾日数分布图（图3），结合所学知识。完成下列问题。

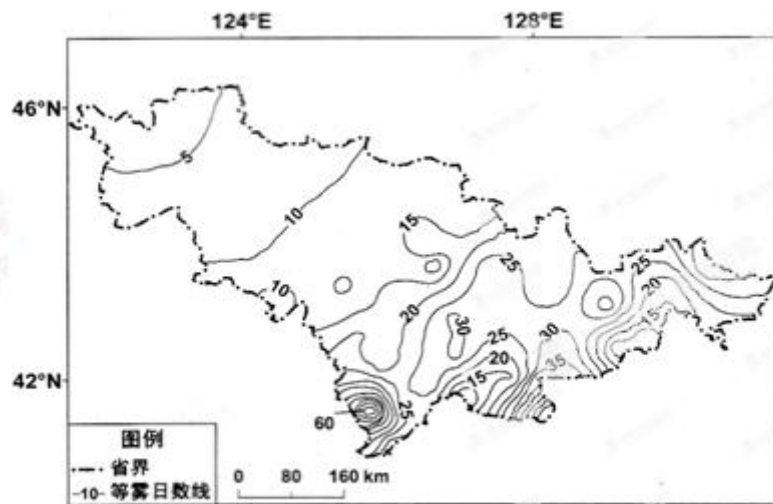


图 3

7. 该省位于我国的（ ）

- A. 西北地区 B. 华北地区 C. 东北地区 D. 西南地区

8. 下列因素中，对该省多年平均年雾日数空间分布影响最大的是（ ）

- A、河流泥沙含量 B、地形起伏
C、西南季风强弱 D、土壤厚度

【答案】7、C 8、B

【解析】

试题分析：

7、从图中经纬度值判断，该省位于我国东北地区，故选 c，此题难度不大，关键是空间定位，可以从大家熟悉的北京经纬度（40° N，116° E），则可以很快推出该地区位于北京的东北方。学科网

8、由上题得到该省位于东北地区，进而可以推出该省为吉林省，该省东南部地区多年平均年雾日数多，是因为东南部地区处于长白山的东南季风的迎风坡，降水多，大气中水汽含量多，而向西北方向，受山地阻挡，降水少；而河流的泥沙含量和土壤厚度对雾的形成影响不大；该省不受西南季风的影响。故选 B。

考点：中国政区、中国气候。

9、夏季，我国部分城市城区常因暴雨而出现积水成灾的内涝现象。下列措施中，对减轻此类灾害基本无效的是（ ）

- A、优化城区雨污管网
- B、扩大城区湖泊面积
- C、加高城区防洪大堤
- D、疏浚城区河流水道

【答案】C

【解析】

试题分析：优化城区雨污管网可以针对性及时对城区积水排放；扩大湖区面积可以增加蓄水量，进而减少城区积水现象；疏浚城区河流水道可以及时把城区积水排放；而加高城区防洪大堤，对城区积水形成的内涝没有影响，不能加快城市积水的排泄，故选 C。

考点：城市化对地理环境的影响。

10. 图 4 为地震灾后城市重建选址地质因素分析示意图，从地质安全角度考虑，图示甲、乙、丙、丁四个区域中，最适宜城市重建的是（ ）

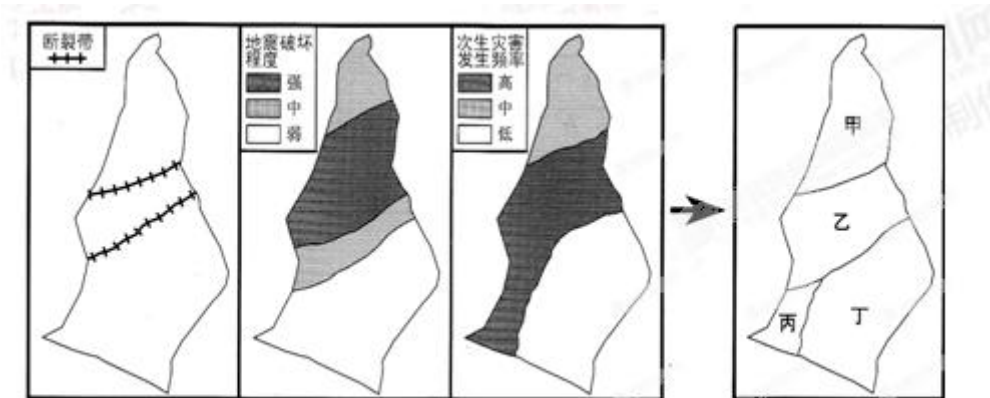


图 4

- A. 甲 B. 乙 C. 丙 D. 丁

【答案】D

【解析】

试题分析：根据图中断裂带、地震破坏程度和次生灾害发生频率，可知，丁区不位于断裂带上，且地震破坏程度和次生灾害发生频率最低，所以是最适宜城市重建的地方。

考点：自然灾害和城市区位条件。

11. 调查研究发现，内蒙古东部某农牧交错区（ $43^{\circ} 32' N-44^{\circ} 32' N$ ）居民点的密度，阴坡大于阳坡。

其合理的解释是阴坡冬半年（ ）

- A. 冻融作用影响小，房屋地基较稳定 B. 正好地处背风坡，利于抵御强寒潮
C. 积雪较厚，便于牲畜和冬小麦越冬 D. 采光更为充分，利于居民照明取暖

【答案】A

【解析】

试题分析：冻融作用，在寒冷气候条件下，土壤或岩层中冻结的冰在白天融化，晚上冻结，或者夏季融化，冬季冻结，这种融化、冻结的过程称为冻融作用。 $(43^{\circ} 32' N-44^{\circ} 32' N)$ 地区，冬季漫长，受到冻融作用的强烈影响，对建筑物的地基破坏大，而阳坡上，冬季白天受太阳辐射比阴坡多，日夜温差大，导致冻融作用在阳坡上比阴坡上大，所以居民点多分布在阴坡上，而阴坡为北坡，为西北风的迎风坡，气候寒冷，阴坡减少较少，且积雪较厚不利于牲畜越冬；阴坡采光条件差。故选 A。

考点：中国气候和聚落分布。

12. 有古代学者论述某字体的形成时说：“（官员）奏事繁多，篆字难成，即令隶人（即胥吏）佐书。”据此推

断，该字体是（ ）

- A. 小篆 B. 隶书 C. 行书 D. 草书

【答案】B

【解析】

试题分析：本题主要考查学生正确解读材料和运用所学知识解决问题的能力。由材料描述可知因为篆体难写故让胥吏修改，结合所学知识隶书是由小篆演化而来的，故本题选 B 项。A 是该字体形成的背景，C 和 D 都与材料无关，故不选。

13. 针对皇帝频频越过中书省直接向六部官员下达诏令的现象，有朝臣说：“事不出中书，是为乱政。”由此可知，该朝臣（ ）

- A.反对中央集权 B.主张建立内阁 C.主张加强相权 D.反对三省六部制

【答案】C

【解析】

试题分析：本题主要考查学生正确解读材料和运用所学知识解决问题的能力。材料中该朝臣认为皇帝频频越过中书省直接向六部官员下达诏令是乱政，由此可知他是希望用中书省来牵制皇帝的，故该朝臣主张加强相权，所以本题选C项。材料体现的是君相矛盾，不是中央和地方矛盾，故A不符合题意；B项材料中没有体现；D项与材料“事不出中书，是为乱政。”不符。学科网

14. 史载：明代江南昆山县的农家，“麻缕机之事，则男子素习焉，妇人或不如也”，但乡村妇女“凡耕耘、收获、桔棉之事，与男子共其劳”。这则材料反映了当时（ ）

- A.小农经济的生产方式 B.资本主义的萌芽
C.男尊女卑的社会秩序 D.官营手工业的主导地位

【答案】A

【解析】

试题分析：本题主要考查学生正确解读材料和运用所学知识解决问题的能力。材料描述的是家庭中农业和手工业相结合的生产现象，结合所学这是中国小农经济的典型生产方式，故本题选A。B项资本主义萌芽的主要表现是雇佣关系，材料没有体现；C项与材料无关；D项官营手工业材料没有提及。

15. 毛泽东主张用事实反击敌人的毁谤：“敌人说：‘广东共产’，我们说：‘请看事实’……敌人说：‘广州政府勾联俄国丧权辱国’，我们说：‘请看事实’。敌人说：‘广州政府治下水深火热民不聊生’。我们说：‘请看事实’。”这些“事实”都发生于（ ）

- A. 辛亥革命时期 B. 国民革命时期
C. 抗日战争时期 D. 解放战争时期

【答案】B

【解析】

试题分析：本题主要考查学生正确解读材料和运用所学知识解决问题的能力。由题干材料我们可知此时的广州政府是体现了“联俄、联共、扶助农工”的三大政策，结合所学这是中国国民革命时期的，故本题选B项。ACD都不符合材料所述的事实。

16. 1961年，中共中央农村工作部的一份报告指出：现在部分干部和农民对集体生产信心不足，以致发展到变相恢复单干，有的地方出现了“父子队”“兄弟队”式家庭作业。这则材料作为例证，可用于说明（ ）

- A. 当时土地所有制发生改革 B. 农业合作化运动的历史背景
C. 当时国民经济调整成效显著 D. 家庭联产承包责任的起源

【答案】D

【解析】

试题分析：本题主要考查学生正确解读材料和运用所学知识解决问题的能力。题干时间是1961年，当时土地所有制没有发生变化，A错误；农业合作化是1953年开展的，与题干时间不符，B错误；材料中没有体现调整的成效，故C项错误；由“有的地方出现了“父子队”“兄弟队”式家庭作业”可以分析出这中家庭式的生产是家庭联产承包责任制度的起源，故本题选D项。

17. 表2反映了中国某时期与各国贸易的情况，据此推出符合史实的结论是（ ）

表2 中国对外贸易总额的国家构成（%）

年份	苏联	美国	其他国家
第一年	30	21	49
第二年	41.3	0.4	58.3
第三年	51.759	0.003	48.238

- A. 抗日战争胜利，中苏贸易激增
- B. 实行“一边倒”政策，中美贸易剧减
- C. 改革开放初见成效，中国对外贸易蓬勃发展
- D. 不结盟运动兴起，中国与发展中国家贸易往来密切

【答案】B

【解析】

试题分析：本题主要考查学生正确解读材料和运用所学知识解决问题的能力。由表格中数字信息我们可以看出中苏之间的贸易不断增加，而此时中美贸易急剧减少，结合所学这应该是新中国成立初期，美国敌视孤立中国，我国选择“一边倒”，倒向苏联为首的社会主义阵营造成的。故本题选 B。A 项错误，因为抗日战争胜利后的 1946 年中美签订了《中美友好通商航海条例》，美国商品大量地充斥中国的市场；C 项错误，因为改革开放我们应该是向一切国家开放的，不可能只是向苏联开放；D 项错误，苏联不是发展中国家。

18. 《十二铜表法》中说，“以后凡人民会议的所有决定都应具有法律效力”。对此理解正确的是（ ）

- A 奴隶参与了立法
- B 习惯法的内容被摒弃
- C 贵族对法律的垄断被打破
- D 成文法的规定不能改变

【答案】C

【解析】

试题分析：本题主要考查学生正确解读材料和运用所学知识解决问题的能力。由“以后凡人民会议的所有决定都应具有法律效力”结合所学可知这种做法打破了贵族对法律的垄断，故本题选 C。A 项错误，因为罗马法是奴隶主阶级的法律；B 项不符合史实；D 项材料没有体现。

19. 一位哥伦比亚学者在“纪念美洲发现——两个世界汇合 500 周年国际学术讨论会上”说，“黄金和白银的作用只是使两个大陆之间的距离更加遥远了”。由此可知（ ）

- A 该学者关注殖民掠夺的后果
- B 两个大陆指的是美洲和非洲
- C 黄金和白银阻碍了世界市场的形成
- D 该会议讨论的是英国人登陆美洲的意义

【答案】A

【解析】

试题分析：本题主要考查学生正确解读材料和运用所学知识解决问题的能力。结合所学知识可知发现美洲新大陆后在此进行了疯狂地掠夺，给殖民地带来深重的灾难，也加剧了美洲殖民地和欧洲的差距，故“黄金和白银的作用只是使两个大陆之间的距离更加遥远了”。故本题选A项。B项错误，应该是美洲和欧洲；C项不符合史实；D项错误，哥伦布不是英国人。

20. “这份文献在当时是极其进步的，对西方君主制和共和制都适用。下一文献中符合这一评价的是（ ）

- A 《大抗议书》 B 《权利法案》
C 1787年美国宪法 D 《人权宣言》

【答案】D

【解析】

试题分析：本题主要考查学生正确解读材料和运用所学知识解决问题的能力。结合所学知识可知《大抗议书》是英国资产阶级和新贵族反对封建专制的政治纲领，《权利法案》只适应于君主制，1787年宪法只适应于共和制，《人权宣言》强调法律面前人人平等及公民的权利，这种原则既适应于君主制也适应于共和制，故本题选D。

21. 有文学家宣传：“我赋予古老文字以赤色，不再有元老！不再有平民！我在墨水瓶里掀起风暴。”他的文学理念属于（ ）

- A. 浪漫主义 B. 现代主义 C. 现实主义 D. 古典主义

【答案】A

【解析】

试题分析：本题主要考查学生正确解读材料和运用所学知识解决问题的能力。由“我赋予古老文字以赤色，不再有元老！不再有平民！我在墨水瓶里掀起风暴”可以分析出这种文学风格是超越现实，革命的理想主

义，属于浪漫主义。故本题选 A。BCD 与材料所述风格不同。

22. 发生在 1920 年苏俄的现象有（ ）

- A. 私营企业纷纷涌现
- B. 国营企业经营自主权扩大
- C. 政府禁止买卖粮食
- D. 农民积极参加农业集体化运动

【答案】C

【解析】

试题分析：本题主要考查学生正确解读材料和运用所学知识解决问题的能力。结合所学 1920 年苏俄正在实行战时共产主义政策，实行余粮收集制，禁止商品贸易，故本题选 C。A 是新经济政策时期的，B 是勃列日涅夫改革时期的，D 是斯大林农业集体化时期的。学科网

23. 一位学者说：“在自家的院子里有印钞机是一件愉快的事情，而黄金兑换标准给了我们这个特权。”

赋予“我们这个特权”的是（ ）

- A. 《北美自由贸易协定》
- B. 马歇尔计划
- C. 《关税和贸易总协定》
- D. 《布雷顿森林协定》

【答案】D

【解析】

试题分析：本题主要考查学生正确解读材料和运用所学知识解决问题的能力。由“黄金兑换标准给了我们这个特权”结合所学知识可知这个特权是《布雷顿森林协定》：会员国货币与美元挂钩，美元与黄金挂钩，确立了美元等同于黄金的特殊地位。故本题选 D。ABC 材料中没有体现。

24. 2014 年 5 月，团省委与某股权交易中心共同发起设立国内首个“青年大学生创业板”股权众筹平台。

投资机构出资入股，与创业公司共享收益、共担风险。截止当年年底，该平台累计上板项目 112 项，其中 55 项与投资公司达成投资意向，融资近 5000 万元。该股权众筹平台（ ）

- A. 创新了公司基本组织形式
- B. 扶持了大学生创业，改善了产业结构
- C. 实现了项目与资源的有效对接
- D. 使投资公司定期获得稳定的经营收益

【答案】A

【解析】

试题分析：本题主要考查学生正确解读材料和运用所学知识解决问题的能力。由题干材料可知“青年大学生创业板”股权众筹平台，投资机构出资入股，与创业公司共享收益、共担风险。这是对传统公司体制的创新，故选A。B项中的产业结构材料没有体现；C项中的资源材料中没有体现；D项不是材料的主旨。

24. 2014年5月，团省委与某股权交易中心共同发起设立国内首个“青年大学生创业板”股权众筹平台。投资机构出资入股，与创业公司共享收益、共担风险。截止当年年底，该平台累计上板项目112项，其中55项与投资公司达成投资意向，融资近5000万元。该股权众筹平台（ ）

- A. 创新了公司基本组织形式
- B. 扶持了大学生创业，改善了产业结构
- C. 实现了项目与资源的有效对接
- D. 使投资公司定期获得稳定的经营收益

【答案】C

【解析】

试题分析：A选项观点与题意不符，题中股权众筹平台并没有创新公司基本组织形式，公司基本组织形式仍然是有限责任公司和股份有限公司，故排除。B选项观点与题意不符，题中股权众筹平台扶持了大学生创业，但并没有改善产业结构，故排除。C选项观点正确且符合题意，通过题中股权众筹平台，大学生创业项目与投资公司的资源实现了有效对接，故入选。D选项观点与题意不符，股票投资是高风险投资，投资公司并不会获得稳定的经营效益，故排除。

【考点定位】市场配置资源

25、基尼系数是判断居民内部收入分配差异程度的指标，该系数介于0~1之间，值越小表明收入分配越平均，反之，表明收入差距越大。国际上通常把0.40作为贫富差距的警戒线。2010-2014年，中国收入再分配后的基尼系数分别是0.481、0.477、0.474、0.473和0.469。对比图5，不考虑各国发展阶段和发展水平的差异，可以推断出

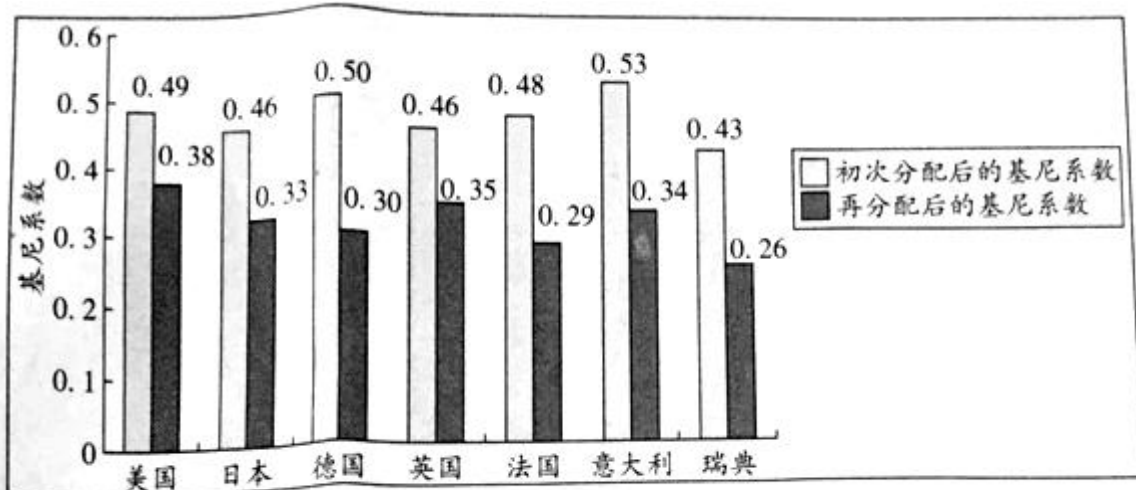


图5 2010年部分发达国家的基尼系数

- ①近年来，中国的贫富差距越来越大，而且高于图中发达国家
- ②法国收入再分配政策对贫富差距的调整效果比英国更明显
- ③中国应运用税收、社会保障转移支付等手段强化再分配功能
- ④发达国家依赖以市场为主导的收入分配机制实现社会公平

- A. ①② B. ②③ C. ②④ D. ③④

【答案】B

【解析】

试题分析：②③选项观点正确且符合题意，图示表明法国在收入再分配政策后的基尼系数数值明显低于英国，说明其对贫富差距的调整效果比英国更明显，同时中国与发达国家之间的差距表明，中国应运用税收、社会保障转移支付等手段强化再分配功能，故入选。①④选项观点与题意不符，根据题干提供的数值，中国的基尼系数逐年降低，说明近年来中国的贫富差距越来越小，但仍高于发达国家，题中图示表明发达国家通过市场的分配差距仍然很大，在经过国家的再分配之后，差距明显缩小，说明发达国家也并不是以市场为主导的收入分配机制实现社会公平，故排除。

【考点定位】 社会公平的实现

26、某农业园区采用“公司+合作社+农户”的模式，成立土地经营权流转合作社，整合散户。吸纳资金、土地、技术入股，形成规模化、集约化、现代化的经营方式。吸引500多名外出务工农民返乡创业。解决200多名贫困人口的就业问题，这种模式

- A. 完善了就业机制，扩大了就业规模 B. 用公司股份制代替了家庭土地承包制
C. 是农业先进生产力的体现和标志 D. 整合了农业生产要素，降低了经营成本

【答案】 D

【解析】

试题分析：A 选项观点与题意不符，题中模式扩大了就业规模，但题中模式仅仅是部分地区农村的就业，并没有完善就业机制，故排除。B 选项观点错误，题中模式仅仅是经营方式的改变，并没有用公司股份制替代家庭土地承包制，我国农村仍然坚持家庭土地承包制，故排除。C 选项观点错误，题中模式是农业先进生产力的体现，但并不是农业先进生产力的标志，故排除。D 选项观点正确且符合题意，题中模式整合散户，形成规模化、集约化、现代化的经营模式，整合了农业生产要素，降低了经营成本，故入选。

【考点定位】 转变经济发展方式

27、王某正在美国留学，拟购买一台手提电脑，用美元现金或国内银行发行的信用卡结算。如王某使用信用卡，国内银行按消费时的汇率自动将美元折算为人民币结算。现预期人民币持续升值。假设价格和其他因素不变。王某的理性决策是

- A. 延期购买，用信用卡结算 B. 即期购买，用美元现金结算
C. 即期购买，用信用卡结算 D. 延期购买，用美元现金结算

【答案】 A

【解析】

试题分析：A 选项观点正确且符合题意，题中王某持有的是美元现金，即使使用国内银行的信用卡也是自动将美元折算为人民币结算，而人民币预期持续升值，也就是美元持续贬值，在这种情况下，马上购买电脑显然是不划算的，故应该延期购买，节省部分资金，而且应该用信用卡结算，进一步节省资金，故入选。BC 选项观点显然与题意不符，即期购买花费的资金显然要多于延期购买，故排除。D 选项观点与题意不符，虽然也是延期购买，但在人民币升值的情况下，如果用美元现金结算，显然没有用信用卡结算，进而转化为人民币结算划算，故排除。

【考点定位】 汇率

28. 2015 年 4 月 2 日，中国海军临沂舰帮助 10 个国家的 225 名侨民撤离处于战争状态的也门。这是中国政

府首次为撤离处于危险地区的外国公民采取专门行动，也是中国海军首次实施撤离外国公民的国际救助行动。这体现了

- A.中国外交政策和军事战略的转变
- B.中国的大国担当和负责的形象
- C.中国参与中东地区和平进程的决心
- D.中国的国际权利和国际义务

【答案】B

【解析】

试题分析：A 选项观点错误，我国的外交政策并没有转变，仍然实行独立自主的和平外交政策，故排除。B 选项观点正确且符合题意，中国海军帮助外国公民的国际救助行动，体现中国的大国担当和负责的形象，故入选。C 选项观点与题意不符，题中中国的行为，只是保护我国公民和其他国家公民的生命安全，并不是要参与中东地区和平进程，故排除。D 选项观点与题意不符，题中中国海军帮助撤离外国公民的国际救助行动，是在履行主权国家的国际义务，并不是行使国际权利，故排除。

【考点定位】独立自主的和平外交政策

29.自 1965 年以来，西藏自治区人大及其常委会依据宪法和民族区域自治法的规定，先后制定了 290 多部地方性法规和具有法规性质的决议、决定，对多项全国性法律制定了适合西藏特点的实施办法。西藏自治区自治机关的立法

- A.覆盖了民族区域自治权的全部内涵
- B.规定了少数民族当家作主的权利
- C.保障了少数民族在国家政治生活中的特殊地位
- D.协调了少数民族的特殊利益与国家整体利益

【答案】D

【解析】

试题分析：A选项观点错误，西藏自治区自治机关的立法，并没有覆盖民族区域自治权的全部内涵，仅仅是部分内容，故排除。B选项观点错误，少数民族当家做主的权利并不是由西藏自治区自治机关的立法规定的，而是由我国人民民主专政的社会主义国家这一国家性质决定的，故排除。C选项观点错误，在我国政治生活中，各民族一律平等，少数民族并没有特殊地位，故排除。D选项观点正确且符合题意，西藏自治区自治机关的立法依据宪法规定，对多项全国性法律制定了适合西藏特点的实施办法，协调了少数民族的特殊利益与国家整体利益，故入选。

【考点定位】自治机关的自治权

30.某市区为推进社会治理新格局的构建，特聘一些社会组织专业人士和社会能人担任区、街镇、社区三级的综合治理委员，建立“三级联动”机制，以保障特聘委员为群众排忧解难，为政府出谋划策，特聘委员模式

- ①代行了政府职能，推进社区基层民主 ②有助于政府从管理角色向服务角色转型。
③创新了社会组织和公民政治参与的方式 ④拓宽了公民参与民主决策和管理的渠道

- A. ①② B. ①③ C. ②④ D. ③④

【答案】C

【解析】

试题分析：②④选项观点正确且符合题意，题中特聘委员模式，推进社会治理新格局，政府职能实现转变，从管理角色向服务角色转型，同时拓宽了公民参与民主决策和管理的渠道，故入选。①③选项观点错误，特聘委员为群众排忧解难，为政府出谋划策，但并不是代行政府职能，特聘委员模式创新了公民政治参与的方式，但并没有创新社会组织政治参与方式，故排除。学科网

【考点定位】政府职能转变、民主决策、民主管理

31.岭南一年四季多湿热，气温较高，人们用凉水冲淋以消暑爽身，粤语一般称之为“冲凉”，冲凉房在民宅中不可或缺；北方天气多寒冷干燥，人们喜用热水浸泡以去垢爽身，北方话多称之为“洗澡”，盆浴、池浴盛行，澡堂子随处可见，这说明

- A.自然环境决定文化特性 B.中华文化内部存在差异和冲突
C.方言折射出地域文化的差异 D.洗浴文化随时间的发展而发展

【答案】C

【解析】

试题分析：A选项观点错误，经济政治决定文化，自然环境对文化产生重要影响，但并不决定文化，故排除。B选项观点错误，中华文化内部存在差异，但并不存在冲突，故排除。C选项观点正确且符合题意，题中同一事物方言的不同，折射出地域文化的差异，故入选。D选项观点与题意不符，题中事例强调南北文化的差异，并没有涉及洗澡文化随着时间的发展而发展，故排除。

【考点定位】中华文化的区域性

32.有学者认为，传统戏曲在写意的、程式化的表演变迁中体现出一脉相承的美学气质；古典诗词在格律、句式的变化中坚持了押韵、平仄和诗情意象；书法在不同流派的发展中投射出基本笔法和气韵。因此，文化的精神传承比技艺传承更重要。这一结论的合理之处在于看到了

- ①发展中的传统文化有一定的共性和规律
②传统文化形式的创新具有不同时代的共同要求
③传统文化所蕴涵的精神具有内在稳定性
④对待传统文化应坚持批判继承，古为今用
- A. ①③ B. ①④ C. ②③ D. ②④

【答案】A

【解析】

试题分析：①③选项观点正确且符合题意，题中通过比较传统戏曲、古典诗词、书法，得出共性的结论，说明发展中的传统文化有一定的共性和规律，题中强调体现一脉相承的气质，说明传统文化具有相对稳定性，故入选。②④选项观点与题意不符，题中观点是通过比较传统戏曲、古典诗词、书法，得出共性的结论，并没有涉及纵向上不同时代的共同要求，同时本题通过比较，找出传统文化的共性，而不是强调如何

正确对待传统文化，故排除。

【考点定位】 传统文化的相对稳定性

33.哲人说：“给我宁静吧，让我接受不能改变的，给我勇气吧，让我去改变我能改变的，给我智慧吧，让我分辨出什么是我能改变的，什么是我不能改变的。”这句话给我们的哲学启示是

- ①社会意识具有直接现实性 ②尊重客观规律，发挥主观能动性
③哲学可为生活提供指导 ④世界是人的主观意识的产物

A. ①③ B. ①④ C. ②③ D. ②④

【答案】 C

【解析】

试题分析：②③选项观点正确且符合题意，接受不能改变的，尊重客观规律，改变我能改变的，发挥主观能动性，给我智慧，让我分辨什么是能改变的，什么是不能改变的，哲学可以为生活提供指导，故入选。

①④选项观点错误，实践具有直接现实性，社会意识并不具有直接现实性，世界是物质的世界，世界的本原是物质，而不是意识的产物，故排除。

【考点定位】 尊重客观规律与发挥主观能动性、哲学的作用

34.水在常见的三种状态下的结构和动力学行为已被人们了解，但在受限空间内部不完全为人所知，近日，有研究团队在这方面取得重大发现，在常温下，在石墨碎片毛细通道中的受限水会整齐排列成规则的二维方形冰结构。这是常温下水的一种全新存在方式，该研究成果对于解释降低空维空间内水的快速输运具有重要意义，这一新发现再次印证了

- ①物质的具体形态是多样的，认识是无限的
②质变是由事物的内部结构变化引起的
③人为事物的联系是通过实践活动形成的
④以新形式出现的事物，有远大发展前景

A. ①② B. ①③ C. ②④ D. ③④

【答案】B

【解析】

试题分析：①③选项观点正确且符合题意，题中水的形态改变的事例，说明物质的具体形态是多样的，认识是无限的，同时说明人为事物的联系是通过实践活动形成的，故入选。②④选项观点错误，质变并不是由事物的内部结构变化引起，其他方面变化也可能引起质变，新事物并不等于以新形式出现的事物，新事物有远大发展前景，以新形式出现的事物，并不一定有远大发展前景，故排除。

【考点定位】认识的无限性、联系的客观性

35.图6漫画（作者：彭长征）蕴涵的哲学道理是，在认识事物时，




图6

- A. 否认事物的客观性，就不能全面看问题
- B. 立场不同，价值判断和价值选择就不同
- C. 着眼于全局的认识就是真理性认识
- D. 认识结果的差异受主体认识方法的影响

【答案】D

【解析】

试题分析：A选项观点与题意不符，题中漫画揭示的主旨并不是否认事物的客观性，而是强调不同的主体站在不同的角度，得出的认识不同，故排除。B选项观点与题意不符，题中漫画仅仅是立场不同，价值判断不同，并没有做出价值选择，故排除。C选项观点错误，着眼于全局，有助于帮助我们获得真理性的认识，但着眼于全局的认识并不等价于真理性认识，故排除。D选项观点正确且符合题意，题中漫画就是强调主体认识方法的不同导致认识的结果产生差异，故入选。

【考点定位】认识的反复性

第II卷

二、非选择题：本大题共6小题，满分160分。

36、（24分）阅读下列材料，结合所学知识回答问题。

材料一 企业生命周期理论认为，企业的发展一般包括四个阶段：孕育期、成长期、成熟期和衰退期（如图7），在一定的外部环境下，当企业处于前两个阶段时，通常会根据自身情况选择专业化经营战略（见A点），进入第三阶段，则趋向于选择多元化经营战略（见B点）

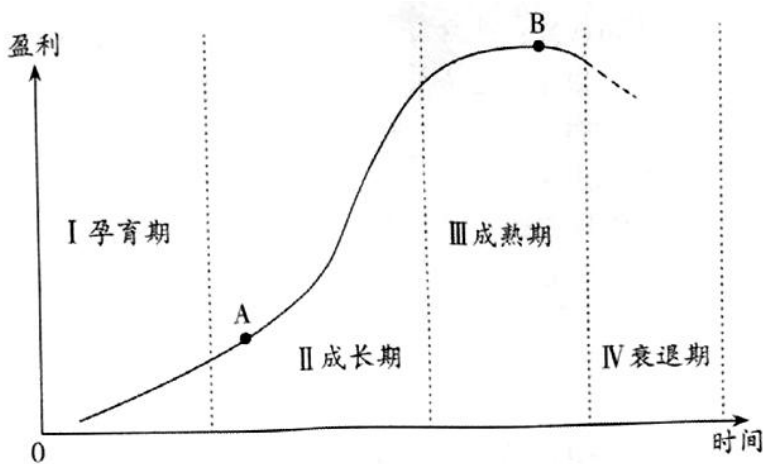


图7

材料二 广东某知名企业在创业之初，投资地产，走专业化经营发展道路。随着实力不断提升，该企业步入成熟期，仍以地产为核心主业，逐步向文化旅游、日用消费品、体育产业、农业、乳业、畜牧业等领域扩展，走上了多元化经营发展道路。至2014年6月，该企业已发展成为一个以地产为核心竞争力的综合性

企业集团，总资产达 4217 亿元。

(1) 企业经营的直接目的是什么？(2 分)，假设企业在 A 点选择专业化经营战略，在 B 点选择多元化经营战略，请任选其一，结合材料一和《经济生活》中有关企业经营的知识，分析企业选择该经营战略的理由。(10 分)

(2) 结合材料二，阐释该企业的发展历程所蕴涵的矛盾观。(12 分)

【答案】(1) (1) 企业经营的直接目的：利润/盈利/营利/赚钱 (2 分)

A 点选择专业化

条件：规模小/资源少/有限 (2 分)

原因：战略/市场定位准确/规避风险 (2 分)

提高创新能力 (管理/技术/组织) (2 分)

形成竞争优势 (产品/质量/技术) (2 分)

树立形象和信誉创建品牌 (2 分)

B 点选择多元化

条件：有实力/有动力/盈利能力强 (2 分)

原因：优化产业结构/分散风险 (2 分)

扩大竞争优势 (产品/质量/技术) (2 分)

保持形象和信誉 (2 分)

扩大产品/市场/规模 (2 分)

(走出去/2 个市场)

(2) 1. 矛盾的同一性与矛盾的斗争性关系的原理/对立统一的观点看问题

2. 矛盾的普遍性 (共性) 与矛盾的特殊性 (个性) 关系的原理/具体问题具体分析。

3. 主要矛盾与次要矛盾关系的原理/主要矛盾在事物发展过程中起决定作用/坚持两点论反对一点论，坚持

重点论反对均衡论。

4. 矛盾的主要方面与次要方面关系的原理/事物的性质由主要矛盾的主要方面决定。

上述4点，每点总分各为3分，其中，原理2分，联系材料1分。

【解析】

试题分析：

(1) 本题第一问较为简单，属于常识性的题目，企业经营的目的就是为了盈利。本题第二问，属于开放型的探究式题目，两种选择都可以，只要言之有理即可。这其中，选择专业化经营战略的理由相对容易组织答案，可以从企业经营的资金、管理、技术、品牌、自主创新能力等多个方面进行分析；而如果选择多元化经营战略的理由，要求有较高的经济理论素养和较为宽广的思维空间、较为丰富的现代经济语言，如实施多元化经营，有利于形成新的利润增长点；为过剩资本寻找增值途径；依托原有品牌和市场认识度，为新的经营占有市场；规避单一经营利润空间减少所带来的市场风险，从而提高市场竞争力。

(2) 本题知识限定明确，题目类型体现类，问题指向阐释该企业的发展历程所蕴含的矛盾观。解读材料，企业专业化经营与多元化经营发展是对立统一的矛盾双方，二者既有同一性又有斗争性；企业在不同的发展时期采取的经营战略不同，创业之初走专业化经营，企业步入成熟期，走上多元化经营，但每个时期都是以地产为核心，体现矛盾普遍性与特殊性的统一；企业步入成熟期之后，仍以地产为核心，同时向其他领域扩展，体现主次矛盾的辩证统一；企业是一个以地产为核心竞争力的综合性企业集团，体现矛盾主次方面的辩证统一。

【考点定位】 企业经营的目的、企业的经营与发展、矛盾的同一性与斗争性的关系、矛盾的普遍性与特殊性的关系、主次矛盾的关系、矛盾的主次方面关系

37、(28分) 阅读下列材料，结合所学知识回答问题。

材料一 党的十八届四中全会提出了“全面推进依法治国”、“加快建设社会主义法治国家”的基本方略。

要实施这一基本方略，必须从我国基本国情出发，建设和发展符合中国实际、具有中国特色的社会主义法治文化。

材料二 由于历史的原因，我国社会中的“官本位”思想仍然浓厚。长官意志、“拍脑袋”作决策，做事遇到障碍就“蛮干硬上”等现象时有发生，一些领导干部甚至认为，法律只管群众，这在一定程度上阻碍了

法治的推进。因此，依法治国的关键是依法治权。

(1) 材料一体现了意识的哪些作用？（4分）

(2) 结合材料一，运用《文化生活》中社会主义文化的相关知识，谈谈我国法治文化建设应具有的“中国特色”。（12分）

(3) 结合材料二，运用《政治生活》中的相关知识，探究政府该如何约束好自己的权力。（12分）

【答案】(1) (共4分)

1. 认识世界/意识活动 目的性，自觉选择性和主动创造性（2分）

2. 改造世界/意识具有能动性，对物质有能动的反映，有能动的反作用（2分）

(2) (共12分)

1. 坚持中国共产党的领导（2分）

2. 坚持马克思主义的领导地位（2分）

3. 坚持法治与德治相结合/ 弘扬中华优秀传统文化/ 社会主义核心价值观（2分）借鉴国外法治的有益经验（2分）

4. 立足于中国特色社会主义实践/遵循法治文化建设规律（2分）；让人民群众广泛参与，享有健康丰富的法治文化生活。（2分）

(3) 1. 厘清政府权力边界/建设有限政府/推行政府权力清单制度（3分）

2. 加强政府权力监督/建设责任政府/完善政府纠错问责机制。（3分）

3. 规范政府权力运行/推进依法行政（3分）

4. 提升行政工作人员依法行政的意识和能力/提高公务员的法律思维能力和依法行政能力。（3分）

【解析】

试题分析：

(1) 本题知识限定明确，意识的能动作用，题目类型体现类。党的会议提出“全面推进依法治国”、“加快建设社会主义法治国家”的基本方略，体现意识能够能动的认识世界，意识具有目的性、自觉选择性和主动创造性；实施这一方略，必须从我国基本国情出发，建设和发展符合中国实际、具有中国特色的社会主义法治文化，体现意识能够能动的改造世界。

(2) 本题知识限定明确，社会主义文化的相关知识，题目类型措施类，问题指向我国法治文化建设应具有的“中国特色”。针对材料中我国法治文化建设是为了实施中国共产党提出的“全面推进依法治国”、“加快建设社会主义法治国家”的基本方略，所以应具有的中国特色首先要坚持中国共产党的领导；其次，坚持党的领导，就必须坚持马克思主义的领导地位；再次，就文化自身而言，我国法治文化建设，要弘扬中华优秀传统文化，坚持社会主义核心价值观；同时要立足于中国特色社会主义实践，发挥人民群众的主体作用。

(3) 本题知识限定不明确，政治生活的的相关知识，题目类型措施类，问题指向政府如何约束好自己的权力。解读设问，本题虽然知识不明确，但政治生活的题目，行为主体确定，知识运用基本就确定了，政府措施类的题目，基本上向政府职能、政府依法行政上考虑，且设问要求政府约束好自己的权力，还要向政府权力的监督方向上考虑。具体来讲，政府在职能上约束好自己的权力，就要厘清政府权力边界、推行政府权力清单；在依法行政上，要规范政府权力运行，推进依法行政；在政府权力监督上，要加强政府监督，完善问责机制；同时针对材料中“官本位”思想严重、“法律只管群众”的现象，要提升行政工作人员依法行政的意识和能力。

【考点定位】意识的能动作用、建设中国特色社会主义文化、政府职能转变、加强政府权力监督、依法行政

38、(25分) 课程的变化反映了时代的变迁。阅读材料，结合所学知识回答问题。

材料一 中世纪后期，神学在西欧学校教育中的统治地位发生变化。一些新的学校特别注重对学生德智体美的教育。古典文学和自然科学课程的地位明显提高。

-----据《外国教育史》

材料二 课程设置是学校教育制度（学制）的重要内容，与经学相关的中小学课程设置经历了如下变化。

癸卯学制 1904 年颁布	读经讲经课和修身课（讲授伦理道德）只是必修课程中的两门，但份量仍很重。
壬子癸丑学制 1912—1913 年颁布	取消读经讲经课
壬戌学制 1915 年开始酝酿，1922 年颁布	修身课改为公民课

据《中国近代学制史料》

- (1) 材料一反映了当时怎样的社会思潮？这一思潮出现的历史背景是什么？（6分）
- (2) 材料二中“读经讲经课”讲授的是那个学派的经典？经学在明清备受尊崇，其原因是什么？（6分）
- (3) 结合材料二，说明这一时期中国社会的变迁。（13分）（要求：信息的提取准确。调动和运用知识合理，逻辑清晰）。

【答案】（1）人文主义；中世纪西欧教育长期被教会垄断；中世纪后期资本主义萌芽；文艺复兴运动兴起。

（6分）

（2）儒家。儒学已经发展到理学阶段，更加适应封建统治者的需要；科举考试以儒家经典为主要内容。（6分）

（3）清政府学习西方进行改革，但仍坚持“中体西用”，1904年学制中儒学地位有所下降，但分量仍很重。（5分）1912年封建帝制被推翻，中华民国成立，倡导民主共和，取消读经讲经课；（4分）新文化运动倡导民主科学和新道德，五四运动反帝爱国，1922年新学制改修身课为公民课。（4分）

【评分说明】第（3）问，要求考生将材料信息与所学知识建立合理联系，并围绕问题进行准确地、逻辑清晰地解读，考生答案如超出要点但言之有理，可在每问总分范围内酌情给分。

【解析】

试题分析：（1）第一问结合材料描述和所学知识直接回答即可。第二问由“中世纪后期，神学在西欧学校教育中的统治地位发生变化”可以分析出中世纪西欧教育长期被教会垄断；由“一些新的学校特别注重对学生德智体美的教育。古典文学和自然科学课程的地位明显提高。”结合所学可以从资本主义萌芽和文艺复兴兴起角度回答。

（2）第一问由“读经讲经课和修身课（讲授伦理道德）只是必修课程中的两门”结合所学可知是儒家。第二问结合所学从宋明理学对儒学的新发展有利于维护封建专制统治和儒家经典是科举考试的重要内容这个角度阐述即可。

（3）由表可知 1904 年的教育内容“读经讲经课和修身课（讲授伦理道德）只是必修课程中的两门，但份量仍很重。”结合所学可以看出当时中国虽进行改革但坚持“中体西用”；由 1912 年“取消读经讲经课”结合所学可知这主要是因为 1912 年封建帝制被推翻，中华民国成立，倡导民主共和；由 1915——1922 年“修身课改为公民课”结合所学可知这主要是由于新文化运动和五四爱国运动推动的。解答本题时一定要注意所学知识和材料信息之间的合理结合，逻辑分析。学科网

39、（27 分）现代化理论研究传统社会向现代社会的转变。阅读材料，结合所学知识回答问题。

材料

18-19 世纪，一些欧洲的社会学家以西方工业社会为对象，研究从传统社会到现代社会的发展规律。

二战后，现代化研究在美国兴起并形成完整的理论体系。该理论认为现代化的主要动力来自于内部。内部的障碍是发展中国家发展不顺利的根本原因；现代化实际上是西方化或者美国化的过程。20 世纪是“美国的世纪”。这一理论得到美国政府的重视。

20 世纪六七十年代以来，很多学者根据各国的具体情况，探讨不同国家走向现代化的模式。20 世纪 80 年代，现代化理论从美国引进中国，不少学者开始将现代化概念和分析框架运用到社会科学研究中。

——据《传统与变迁——国外现代化及中国现代化问题研究》等

（1）概述 18-19 世纪西欧经济、政治发展的主要情况。（8 分）

（2）结合材料和当时的国际背景，分析二战后美国政府为何重视现代化理论？（10 分）

（3）为什么现代化理论能够在 20 世纪 80 年代被引进中国？运用这种理论进行历史研究时要注意什么？（9

分)

【答案】

(1) 经济上，发生了两次工业革命，实现了工业化；建立了以西欧为主导的世界市场。

政治上：建立了资产阶级代议制度；工人运动兴起。(8分)

(2) 二战后，美国成为资本主义世界头号强国；美苏冷战；亚非拉地区民族解放运动的兴起。(6分) 现代

化理论认为发展中国家应该“西方化”，鼓吹“20世纪是美国的世纪”，适应了美国称霸世界的需要。(4分)

(3) 中美正式建交；中国改革开放；思想解放。(6分)

注意的问题是：持借鉴态度，不能照搬，要结合本国的国情，坚持唯物史观。(3分)

【评分说明】考生答案如超出要点但言之有理，可在每问总分范围内酌情给分。

40、加蓬石油、森林资源丰富，但种植业较落后，已耕地面积不到全国土地的2%。根据材料，结合所学知识，完成(1) — (5)题。

材料一 加蓬地理位置示意图(图8)。

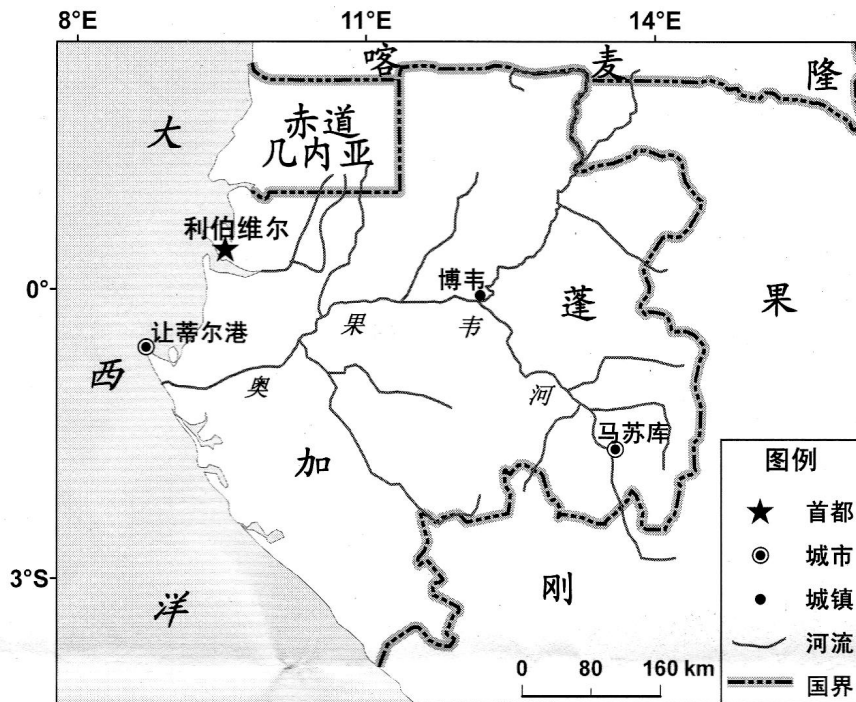


图8

材料二 加蓬从 2010 年开始禁止原木出口，并制定了长期出口木制成品和半成品的目标。

- (1) 利伯维尔的气候特点是_____。(4 分)
- (2) 与博韦处的河面海拔相比，马苏库处的河面海拔较_____。判断理由是_____。(4 分)
- (3) 我国某企业从加蓬进口一批原油，北京时间 2015 年 5 月 4 日 18 时电话联系对方，此时利伯维尔的区时是 2015 年 5 月_____日_____时。加蓬原油出口到我国的最佳运输方式是_____。(6 分)
- (4) 从自然因素考虑，在让蒂尔港建木材加工厂有哪些优势？(6 分)
- (5) 分析加蓬发展种植业的有利自然条件。(6 分)

【答案】

- (1) 全年高温多雨 (4 分)
- (2) 高 马苏库位于河流上游 (4 分)
- (3) 4 日 11 时 海洋运输 (海运) (6 分)
- (4) 近原料地 (森林资源丰富)；临近海洋，地理位置优越；地处沿海平原，建港条件好。(6 分)
- (5) 地处低纬，热量充足 (或处热带雨林气候区，水热充足)；后备耕地资源丰富；地形平坦。(6 分)

【解析】

试题分析：

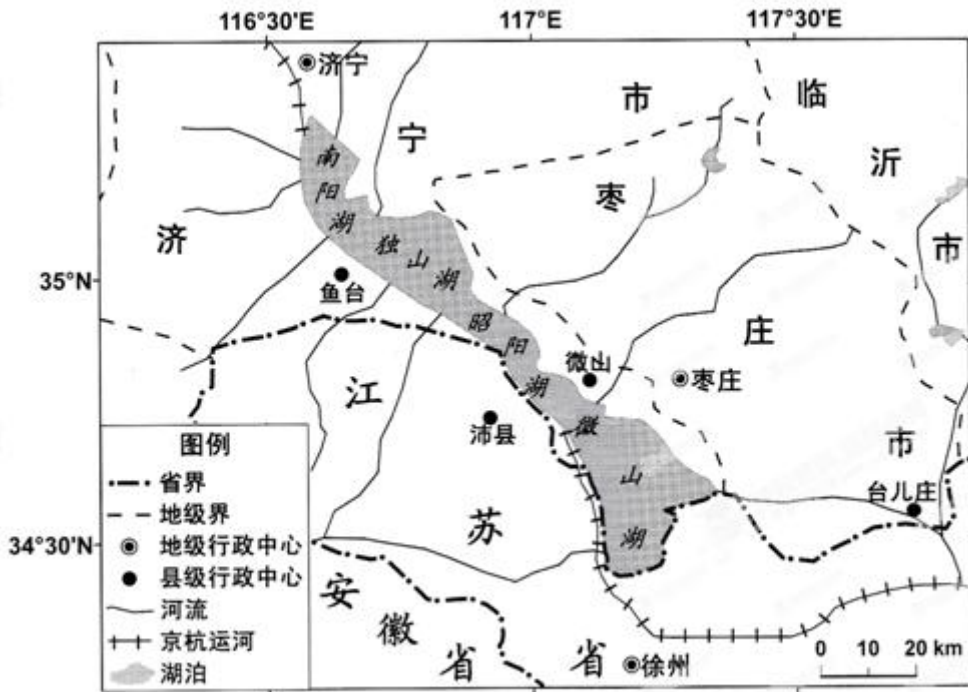
- (1) 从图示位置判断，利伯尔位于赤道附近，属于热带雨林气候，因为气候特点是全年高温多雨。
- (2) 河流总是从高处流向低处，马苏库位于河流的上游地区，博韦位于河流的中游地区。
- (3) 从图示经度可知，利伯维尔的经度为 10° E 左右，则利伯维尔位于东一区，与北京东八区相差 7 小时，即减 7 小时，此时利伯维尔的区时是 2015 年 5 月 4 日 11 时；加蓬与我国远隔大洋，运输石油需利用海洋运输。
- (4) 注意审题，是从自然条件分析，该地属于热带雨林，森林资源丰富；人少地多，土地资源丰富；位于沿海平原地区，建港条件好，也有利用工厂的建设；临近海洋地区，地理位置优越，有利于产品的出口。
- (5) 从影响农业生产的自然条件分析，主要从气候、地形、土壤和水源等方面分析，结合材料信息，可知该国加蓬位于赤道附近，纬度低，热量充足，属于热带雨林气候，水热条件好，题干提示“已耕地面积不到全国土地的 2%”，说明后备耕地资源丰富，发展种植业提供土地条件。学科网

考点：气候、时间计算、工业区位、农业区位。

41、(30 分) 山东省南部的南四湖，是微山湖、昭阳湖、独山湖、南阳湖等四个相连湖的总称，是南水北调东线工程的重工通道，沿湖地区工业以煤炭、电力、造纸为主，根据材料，结合所学知识，完成 (1) — (5)

题。

材料一 南四湖地理位于示意图（图9）



材料二 南四湖及周边地区1982年与2012年各景观类型面积统计图（图10）

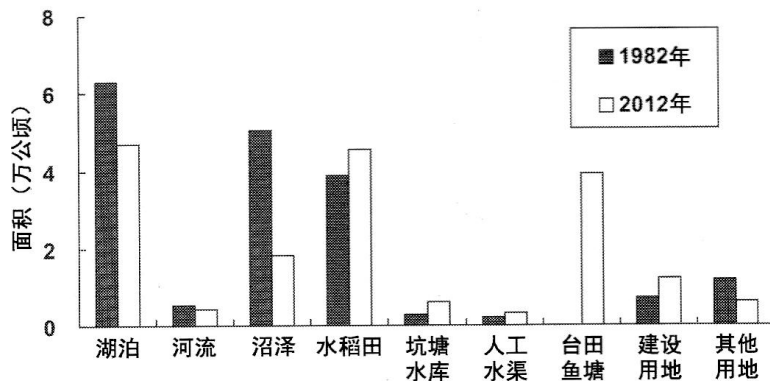


图10

- (1) 南四湖湖盆狭长，总体呈_____走向。部分入湖河流不定期出现断流现象。主要原因可能是_____。（6分）
- (2) 南四湖及周边地区各景观类型中，1982年面积最大的是_____；1982—2012年间，面积增加最多的景观类型是_____。（4分）
- (3) 分析1982—2012年南四湖及周边地区沼泽面积大幅度减少的主要人为原因。（6分）
- (4) 分析南水北调东线工程通水后对南四湖地理环境可能带来的有利影响。（6分）

(5) 为了满足调水的水质要求。南四湖沿湖地区工业发展应采取哪些措施？(8分)

【答案】

- (1) 西北-东南 地处季风气候区，河流流量的季节变化大；工农业及生活用水（尤其灌溉用水）量大，导致断流（6分）
- (2) 湖泊 台田鱼塘（4分）
- (3) 农业用地增加（开辟为水稻田、台田鱼塘）；建设用地增加；修建人工水渠及水库。（6分）
- (4) 增加水量，扩大湖水面积，调节气候（缩小温差，增加空气湿度）；利于保护生物栖息地（生物的多样性）（6分）
- (5) 调整工业结构，限制造纸等污染企业的规模；大力发展新兴工业；实行清洁生产；改进生产工艺和设备水平；加强工业污水处理技术及循环使用（污水先处理后排放）；制定相关的规章制度，加强对沿岸工业生产的监督管理。（8分）

【解析】

试题分析：

(1) 从图示湖盆的延伸方向判断，南四湖湖盆狭长，总体呈西北-东南走向。部分入湖河流不定期出现断流现象，说明河流的流量不稳定，造成河流的流量不稳定的原因主要与降水季节变化大，工农业、生活用水量等方面有关。

(2) 从南四湖及周边地区 1982 年与 2012 年各景观类型面积统计图可知，1982 年面积最大的是湖泊，1982—2012 年间，面积增加最多的景观类型是台田鱼塘，此题难度不大，注意图例的年份信息不要混淆。

(3) 从图示各景观类型面积变化，可知其人为活动对沼泽的影响，开辟为水稻田、台田鱼塘，导致沼泽减少，建设用地增加占用一些沼泽地，修建人工水渠及水库也会占用一些沼泽地。

(4) 湖泊水量和面积的增多，会对周围地区的气候、生物产生影响，近而对通航条件、养殖及旅游业产生有利影响。

(5) 此题注意审题，是工业发展过程中，如何减少对水质的影响，因而是调整工业结构，而不是调整产业结构，再从污水排放、污水处理、法律法规及环保意识提出相关措施。

考点：统计图判读、湖泊的作用、南水北调、土地利用类型和工业发展。