

# 2016 年普通高等学校招生全国统一考试（江苏卷）

## 生物

### 注意事项：

考生在答题前请认真阅读本注意事项及各题答案要求

- 1.本试卷共 10 页，包含选择题（第 1 题~第 25 题，共 9265 题）和非选择题（第 26 题~第 33 题，共 8 题）两部分。本卷满分为 120 分，考试时间为 100 分钟。考试结束后，请将本卷和答题卡一并交回。
- 2.答题前，考生务必将自己的姓名、准考证号用 0.5 毫米黑色水笔填写在试卷和答题卡规定位置。
- 3.请认真核对监考员在答题卡上所粘贴的条形码上的姓名、准考证号和本人是否相符。
- 4.作答选择题，必须用 2B 铅笔将答题卡上对应选项的方框涂满、涂黑；如需改动，请用橡皮擦干净后，再涂选其他答案。做大非选择题，必须用 0.5 毫米黑色的签字笔在答题卡上的指定位置做大，在其他位置作答一律无效。
- 5.如需作图，需用 2B 铅笔绘、写清楚，线条、符号等需加黑、加粗。

### 第 I 卷

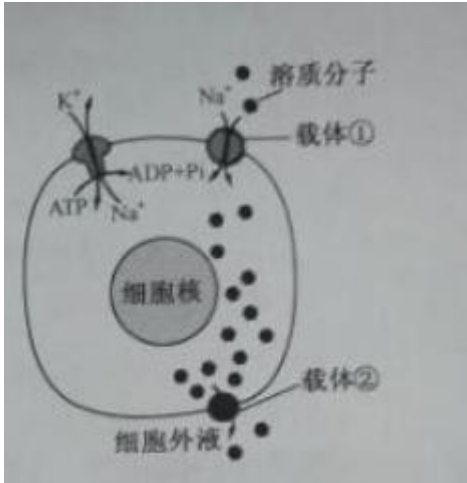
一、单项选择题：本题共 20 小题，每小题 2 分，共计 40 分，每小题只有一个选项符合题意。

- 1.下列关于探索 DNA 是遗传物质实验的相关叙述，正确的是  
A.格里菲思实验中肺炎双球菌 R 型转化为 S 型是基因突变的结果  
B.格里菲思实验证明了 DNA 是肺炎双球菌的遗传物质  
C.赫尔希和蔡斯实验中 T<sub>2</sub> 噬菌体的 DNA 是用 <sup>32</sup>P 直接标记的  
D.赫尔希和蔡斯实验证明了 DNA 是 T<sub>2</sub> 噬菌体的遗传物质
- 2.下列关于生物膜透性的叙述，正确的是  
A.核糖体合成的分泌蛋白能够自由透过高尔基体膜  
B.细胞质中合成的光合作用相关蛋白须通过内质网输入叶绿体  
C.子叶细胞中包被脂肪颗粒的膜对葡萄糖具有选择透性  
D.细胞外高浓度的超氧化物歧化酶可以自由扩散进入细胞
- 3.下列关于细胞的分化、衰老、凋亡和癌变的叙述，正确的是  
A.线虫发育过程中细胞数量减少，是细胞衰老死亡的结果  
B.恶性肿瘤细胞有无限增殖的特性，所以不易被化疗药物杀死  
C.人的造血干细胞是全能干细胞，可以分化为多种细胞  
D.体外培养时，儿童的成纤维细胞传代次数多于成人的成纤维细胞
- 4.蛋白质是决定生物体结构和功能的重要物质。下列相关叙述错误的是  
A.细胞膜、细胞质基质中负责转运氨基酸的载体都是蛋白质  
B.氨基酸之间脱水缩合生成的 H<sub>2</sub>O 中，氢来自于氨基和羧基  
C.细胞内蛋白质发生水解时，通常需要另一种蛋白质的参与  
D.蛋白质的基本性质不仅与碳骨架有关，而且也与功能基团有关

5.关于生物组织中还原糖、脂肪、蛋白质和 DNA 的鉴定实验，下列叙述正确的是

- A. 还原糖、DNA 的鉴定通常分别使用双缩脲试剂，二苯胺试剂
- B. 鉴定还原糖、蛋白质和 DNA 都需要进行水浴加热
- C. 二苯胺试剂和用于配制斐林试剂的 NaOH 溶液都呈无色
- D. 脂肪、蛋白质鉴定时分别可见橘黄色颗粒、砖红色沉淀

6.右图为一种溶质分子跨膜运输的示意图。下列相关叙述错误的是



- A. 载体①逆浓度运输溶质分子
  - B. 载体②具有 ATP 酶活性
  - C. 载体①和②转运方式不同
  - D. 载体②转运溶质分子的速率比自由扩散快
7. 下列关于中学“腐乳的制作”实验，叙述正确的是
- A. 加盐主要是为了调节水分，利于毛霉生长
  - B. 加料酒主要是为了灭菌，避免腐乳变质
  - C. 发酵过程中起主要作用的是乳酸杆菌
  - D. 实验室制作的腐乳不易直接食用
8. 过氧化物酶能分解  $H_2O_2$ ，氧化焦性没食子酸呈橙黄色。为探究白菜梗中是否存在过氧化物酶，设计实验如下表。下列相关叙述正确的是

管号	1% 焦性没食子酸/mL	2% $H_2O_2$ /mL	缓冲液/mL	过氧化物酶溶液/mL	白菜梗提取液/mL	煮沸冷却后的白菜梗提取液/mL
1	2	2	2	-	-	-
2	2	2	-	2	-	-
3	2	2	-	-	2	-
4	2	2	-	-	-	2

- A. 1 号管为对照组，其余不都是实验组
- B. 2 号管为对照组，其余都为实验组
- C. 若 3 号管显橙红色，无需对照就能证明白菜梗中存在过氧化物酶

D. 若 4 号管不显橙红色，可明白菜梗中无氧化物酶

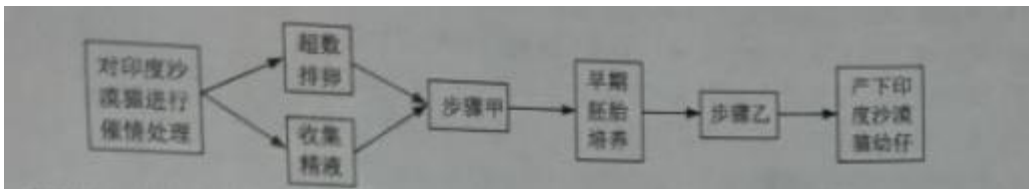
9. 下列有关细胞工程的叙述，正确的是

- A. PEC 是促细胞融合剂，可直接诱导植物细胞融合
- B. 用原生质体制备人工种子，要防止细胞破裂
- C. 骨髓瘤细胞经免疫处理，可直接获得单克隆抗体
- D. 核移植克隆的动物，其线粒体 DNA 来自供卵母体

10. 定量分析是科学研究的重要方法。下列能用血细胞计数板直接计数的是

- A. 海拉细胞悬液
- B. 浓缩培养的噬菌体
- C. 自来水中大肠杆菌
- D. 蛙卵

11. 印度沙漠猫是一种珍稀猫科动物，通过胚胎工程技术，可以让家猫代孕而繁育，主要步骤如图所示。下列相关叙述正确的是



- A. 步骤甲、乙分别是指精子获能、胚胎分离
- B. 诱导超数排卵所注射的激素只能作用于特定细胞
- C. 受精卵发育成早期胚胎所需营养主要来源于营养液
- D. 步骤甲使用的培养液和早期胚胎培养液成分基本相同

12. 下图是某昆虫基因 *pen* 突变产生抗药性示意图。下列相关叙述正确的是



- A. 杀虫剂与靶位点结合形成抗药靶位点
- B. 基因 *pen* 的自然突变是定向的
- C. 基因 *pen* 的突变为昆虫进化提供了原材料
- D. 野生型昆虫和 *pen* 基因突变型昆虫之间存在生殖隔离

13. 人类免疫缺陷病毒 (HIV) 有高度变异性，感染机体后可损伤多种免疫细胞，并通过多种机制逃避免疫系统识别和攻击。下列相关叙述错误的是

- A. HIV 感染人群比健康人群更易患甲型 H1N1 流感
- B. HIV 的高度变异性，致使疫苗效果难以持久
- C. 被 HIV 潜伏感染的细胞表面没有 HIV 蛋白，利于病毒逃避免疫系统识别和攻击

D. HIV 破坏免疫系统，机体无体液免疫应答，不能通过检测抗体来诊断 HIV 感染

14. 右图中甲、乙两个体的一对同源染色体中各有一条发生变异 (字母表示基因)。下列叙述正确的是



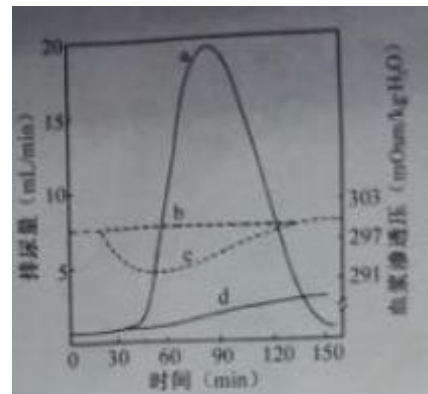
(字母表示基因)

- A. 个体甲的变异对表型无影响
- B. 个体乙细胞减数分裂形成的四分体异常
- C. 个体甲自交的后代，性状分离比为 3:1
- D. 个体乙染色体没有基因缺失，表型无异常

15. 胰岛素依赖性糖尿病是一种自身免疫病，主要特点是胰岛 B 细胞数量减少，血中胰岛素低、血糖高等。下列相关叙述正确的是

- A. 胰岛素和胰高血糖素通过协同作用调节血糖平衡
- B. 胰腺导管堵塞会导致胰岛素无法排出，血糖升高
- C. 血糖水平是调节胰岛素和胰高血糖素分泌的最重要因素
- D. 胰岛素受体胰岛素依赖型糖尿病患者的自身抗原

16. 右图表示正常人分别快速饮用 1L 清水、1L 生理盐水后排尿量和血浆渗透压的变化情况。下列相关叙述正确的是



- A. 曲线 c 表示饮用 1L 生理盐水后排尿量的变化
- B. 饮用大量生理盐水后循环血量出现暂时性增加
- C. 曲线 d 表示饮用 1L 生理盐水后血浆渗透压的变化
- D. 饮用大量清水后垂体合成和分泌的抗利尿激素减少

17. 下列用鲜菠菜进行色素提取、分离实验的叙述，正确的是

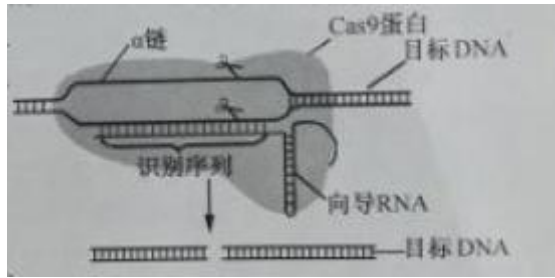
的是素

- A. 应该在研磨叶片后立即加入  $\text{CaCO}_3$ ，防止酸破坏叶绿素
- B. 即使菜叶剪碎不够充分，也可以提取出 4 种光合作用色素
- C. 为使得 10ml 提取液，研磨时一次性加入 10mL 乙醇研磨效果最好
- D. 层析完毕后应迅速记录结果，否则叶绿素条带会很快随溶液挥发消失

18. 近年诞生的具有划时代意义的 CRISPR/Cas9 基因编辑技术可简单、准确地进行基因定点编辑。其原理是由一条单链向导 RNA 引导核酸内切酶 Cas9 到一个特定的基因位点进行切割。通过设计向导 RNA 中 20 个碱基的识别序列，可人为选择 DNA 上的目标位点进行切割 (见右图)。下列相关叙述错误的是

- A. Cas9 蛋白由相应基因指导在核糖体中合成
- B. 向导 RNA 中的双链区遵循碱基配对原则
- C. 向导 RNA 可在逆转录酶催化下合成
- D. 若  $\alpha$  链剪切点附近序列为.....TCCACAATC.....

则相应的识别序列为.....UCCACAAUC.....



19. 下列实验都需要使用光学显微镜进行观察，有关实验现象描述合理的是

实验标号	实验名称	观察到的实验现象
①	观察植物细胞的质壁分离和复原	镜检 1: 几乎整个紫色洋葱鳞片叶外表皮细胞呈紫色； 镜检 2: 不同细胞质壁分离的位置、程度并不一致
②	观察多种多样的细胞	菠菜叶表皮细胞由细胞壁、细胞膜、细胞质和细胞核组成； 人口腔上皮细胞具有细胞核和核糖体
③	观察细胞的有丝分裂	洋葱根尖伸长区细胞长，液泡大； 分生区细胞呈正方形，多数细胞中呈紫色的染色体形态清晰
④	探究酵母菌种群数量的动态变化	酵母细胞呈球形或椭圆形，细胞核、液泡和线粒体的形态、数目清晰可见

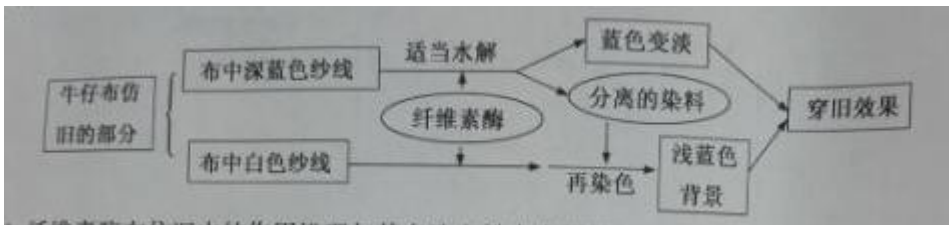
A. 实验① B. 实验② C. 实验③ D. 实验④

20. 为修复长期使用农药导致有机物污染的农田，向土壤中投放由多种微生物组成的符合菌剂。下列相关叙述错误的是

- A. 加入菌剂可增加土壤中的物种多样性，提高土壤生态系统的稳定性
- B. 该菌剂减少了残留农药进入农作物，一定程度上阻碍了土壤中的物质循环
- C. 土壤有毒物质的减少有利于增加农田动物的种类，降低害虫的优势度
- D. 农药降解菌具有分解农药的特殊代谢途径，体现了基因多样性的应用价值

二、多项选择题：本题共 5 个小题，每小题 3 分，共计 15 分，每个选择题不止一个选项符合题意。全部选对的得 3 分，选对但不全的得 1 分，选错或不选的得 0 分。

21. 为了使牛仔裤呈现“穿旧”效果，在工业洗衣机中用酶洗代替传统的浮石擦洗，是目前重要的生产手段（工艺流程见下图）。下列叙述中错误的是



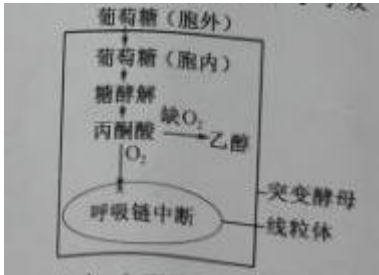
- A. 纤维素酶在仿旧中的作用机理与其在洗衣粉中去污的机理相似
- B. 在上述工艺中，为重复使用纤维素酶，可选用适当的包埋剂固定化酶
- C. 在上述工艺中，通过调节温、酸碱度、处理时间可控制仿旧颜色的深浅
- D. 纤维素酶催化葡萄糖残基间磷酸二酯键的水解分解纤维素

22. 为在酵母中高效表达丝状真菌编码的植酸酶，通过基因改造，将原来的精氨酸密码子 CGG 改变为酵母偏

爱的密码子 AGA，由此发生的变化有

- A. 植酸酶氨基酸序列改变
- B. 植酸酶 mRNA 序列改变
- C. 编码植酸酶的 DNA 热稳定性降低
- D. 配对的反密码子为 UCU

23. 突变酵母的发酵效率高于野生型，常在酿酒工业发酵中使用。下图为呼吸链突变酵母呼吸过程，下列相关叙述错误的是



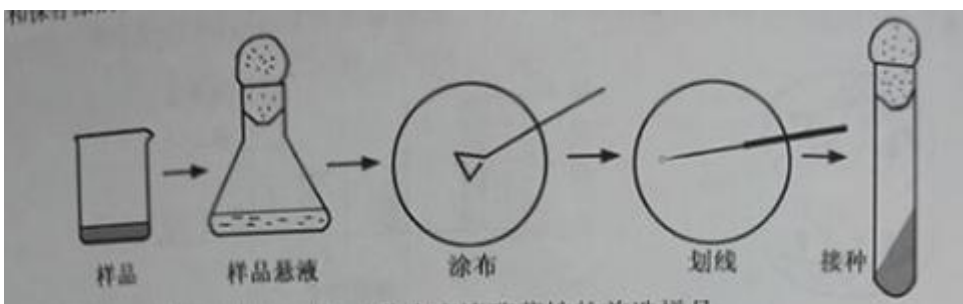
- A. 突变酵母乙醇代谢途径未变
- B. 突变酵母几乎不能产生[H]
- C. 氧气充足时，野生型酵母种群增值速率大于突变体
- D. 通入氧气后，突变酵母产生 ATP 的主要部位是线粒体

24. 人类 ABO 血型有 9 号染色体上的 3 个复等位基因 ( $I^A$ ,  $I^B$  和  $i$ ) 决定，血型的基因型组成见下表。若一 AB 型血红绿色盲男性和一 O 型血红绿色盲携带者的女性婚配，下列叙述正确的是

血型	A	B	AB	O
基因型	$I^A I^A, I^A i$	$I^B I^B, I^B i$	$I^A I^B$	$ii$

- A. 他们生 A 型血色盲男孩的概率为 1/8
- B. 他们生的女儿色觉应该全部正常
- C. 他们 A 型血色盲儿子和 A 型血色盲正常女性婚配，有可能生 O 型血色盲女儿
- D. 他们 B 型血色盲女儿后天 AB 型血色盲正常男性婚配，生 B 型血色盲男孩的概率为 1/4

25. 漆酶属于木质降解酶类，在环境修复、农业生产等领域有着广泛用途。下图是分离、纯化和保存漆酶菌株的过程，相关叙述正确的是



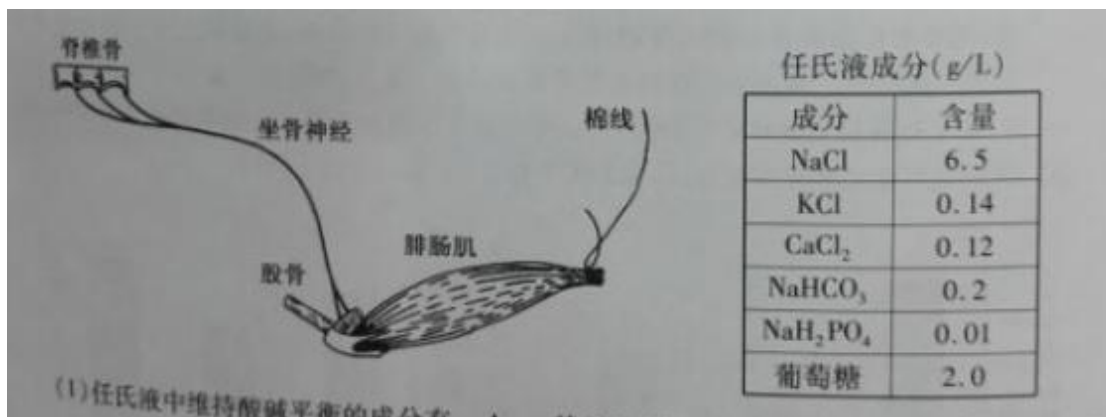
- A. 生活污水中含有大量微生物，是分离产漆酶菌株的首选样品
- B. 筛选培养基中需要加入漆酶的底物，通过菌落特征挑出产漆酶的菌落
- C. 在涂布平板上长出的菌落，在通过划线进一步纯化
- D. 斜面培养基中含有大量营养物质，可在常温下长期保存菌株



## 第 II 卷

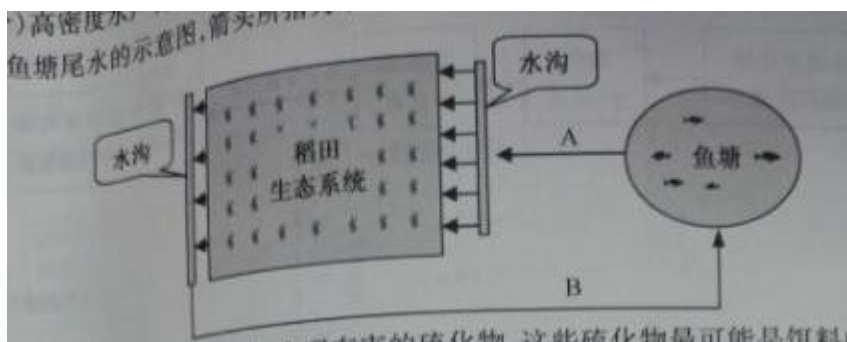
三、非选择题：本部分包括 8 题，共计 65 分。

26. (8 分) 为了研究神经干的兴奋传导和神经—肌肉突触的兴奋传递，将蛙的脑和脊髓损毁，然后剥制坐骨神经-腓肠肌标本，如下图所示。实验过程中需要经常在标本上滴加任氏液（成分见下表），以保持标本活性。请回答下列问题



- (1) 任氏液中维持酸碱平衡的成分有 \_\_\_\_\_, 其  $\text{Na}^+/\text{K}^+$  比与体液中 \_\_\_\_\_ 的  $\text{Na}^+/\text{K}^+$  比接近。
- (2) 任氏液中葡萄糖的主要作用是提供能量，若将其浓度提高到 15%，标本活性会显著降低，主要是因为 \_\_\_\_\_。
- (3) 反射弧五个组成部分中，该标本仍然发挥功能的部分有 \_\_\_\_\_。
- (4) 刺激坐骨神经，引起腓肠肌收缩，突触前膜发生的变化有 \_\_\_\_\_、\_\_\_\_\_。
- (5) 神经-肌肉突触易受化学因素影响，毒扁豆碱可使乙酰胆碱酶失去活性；肉毒杆菌毒素可阻断乙酰胆碱释放；箭毒可与乙酰胆碱受体强力结合，却不能使阳离子通道开放。上述物质中可导致肌肉松弛的有 \_\_\_\_\_。

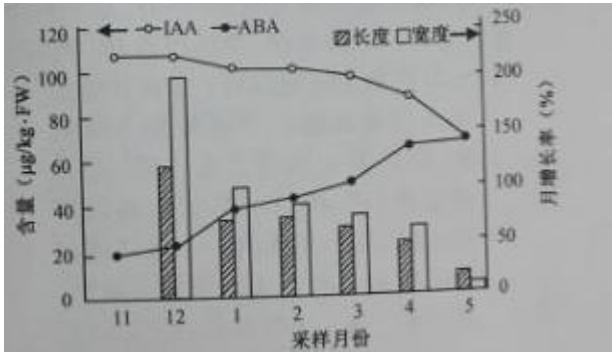
27. (7 分) 高密度水产养殖常会引起池塘水体富营养化，影响养殖。下图为利用稻田生态系统净化鱼塘尾水的示意图，箭头所指为水流方向。请回答下列问题：



- (1) 鱼塘大量投饵后，水体常会出现有害的硫化物，这些硫化物最可能是饵料中的 \_\_\_\_\_ 分解产生的。
- (2) 图示系统在实现了水资源循环利用的同时，鱼塘富营养化还为水稻生长提供了一定的 \_\_\_\_\_ 元素营养。
- (3) 为调查图中稻田害虫的发生状况。可采用 \_\_\_\_\_ 法，分别统计 \_\_\_\_\_ 的种群密度。
- (4) 通过稻田净化，B 处水样中可溶性有机物浓度比 A 处显著下降，其主要原因是在稻田中的 \_\_\_\_\_ (填序号) 微生物分解了大量有机物。
- ①好氧      ②光合放氧      ③厌氧      ④兼性厌氧
- (5) 出现藻类水华的鱼塘尾水流经稻田后，B 处水样中藻类数量大大减少。从生态学角度分析，藻类数量减

少的原因有\_\_\_\_\_。

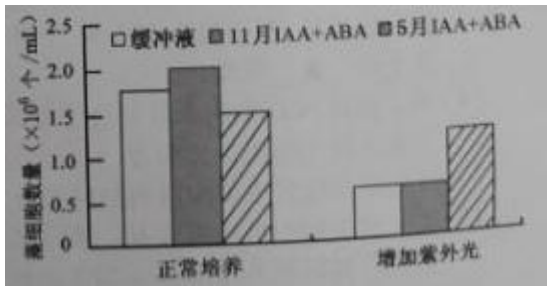
28. (8分) 海带中含有植物生长素(IAA)和脱落酸(ABA)等激素, 为研究激素对海带生长的影响, 某研究组开展了系列实验。请回答下列问题:



(1) 为开展还大的组织培养, 取海带的叶状体基部切块作为\_\_\_\_\_, 转到含激素\_\_\_\_\_的培养基上, 经\_\_\_\_\_形成愈伤组织, 再生成苗。

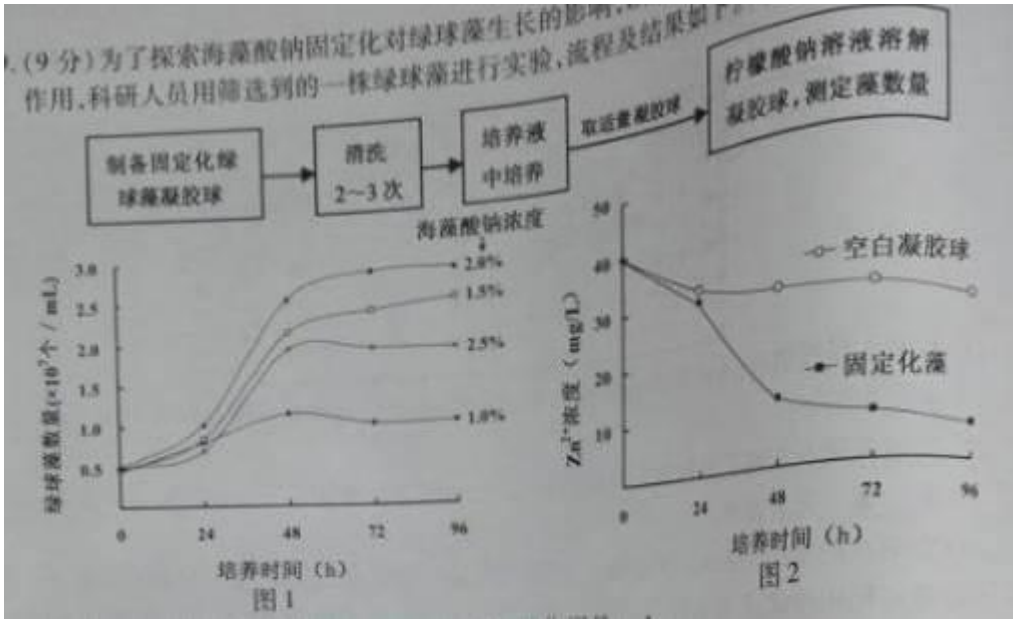
(2) 右图为海带中的 IAA 和 ABA 与海带生长变化的关系。海带增长率与 IAA 含量呈\_\_\_\_\_ (填“正相关”、“负相关”或“不相关”), 海带在后期生长缓慢, 原因是\_\_\_\_\_。

(3) 已知海带成熟区段各部位 ABA 的分布无显著差异, 则其在成熟区段中的运输方式\_\_\_\_\_ (填“是”、“不是”) 极性运输。某研究组参照 11 月和 5 月海带样品的数据, 配置了两份 IAA+ABA 的混合液, 研究了在增加紫外线光照射条件下, 混合液对单细胞绿藻生长的影响, 结果如右图, 分析可知 IAA 和 ABA 对绿藻的生理作用分别是\_\_\_\_\_。



29. (9分) 为了探索海藻酸钠固定化对绿球藻生长的影响, 以及固定化藻对含 Zn<sup>2+</sup> 污水的净化作用, 科研人员用筛选到的一株绿球藻进行试验, 流程及结果如下。请回答下列问题:





- (1) 实验中的海藻酸钠作用是,  $\text{CaCl}_2$  的作用是。
- (2) 为洗去凝胶球上残余的  $\text{CaCl}_2$  和其他污染物, 并保持绿球藻活性, 宜采用洗涤。
- (3) 为探索固定化藻对含  $\text{Zn}^{2+}$  污水的净化作用, 映选用浓度为海藻酸钠制备凝胶球。
- (4) 图2 中空白凝胶球组  $\text{Zn}^{2+}$  浓度下降的原因是。结合图1 和图2 分析, 固定化藻的实验组 24~48h 间  $\text{Zn}^{2+}$  浓度下降速度较快的主要原因是; 72~96h 间  $\text{Zn}^{2+}$  浓度下降速度较慢的原因有。

30. (7分) 镰刀型细胞贫血症 (SCD) 是一种单基因遗传疾病, 下图为 20 实际中叶非洲地区  $\text{Hb}^S$  基因与疟疾的分布图, 基因型为  $\text{Hb}^S\text{Hb}^S$  的患者几乎都死于儿童期。请回答下列问题:

- (1) SCD 患者血红蛋白的 2 条  $\beta$  肽链上第 6 为氨基酸由谷氨酸变为缬氨酸, 而 2 条  $\alpha$  肽链正常。  $\text{Hb}^S$  基因携带者 ( $\text{Hb}^A\text{Hb}^S$ ) 一对等位基因都能表达, 那么其体内一个血红蛋白分子中最多有条异常肽链, 最少有条异常肽链。
- (2) 由图可知, 非洲中部  $\text{Hb}^S$  基因和疟疾的部分基本吻合。与基因型为  $\text{Hb}^A\text{Hb}^A$  的个体相比,  $\text{Hb}^A\text{Hb}^S$  个体对疟疾病原体抵抗力较强, 因此疟疾疫区比非疫区的基因频率高。在疫区使用青蒿素治疗疟疾患者后, 人群中基因型为的个体比例上升。
- (3) 在疟疾疫区, 基因型为  $\text{Hb}^A\text{Hb}^S$  个体比  $\text{Hb}^A\text{Hb}^A$  和  $\text{Hb}^S\text{Hb}^S$  个体死亡率都低, 体现了遗传学上的现象。

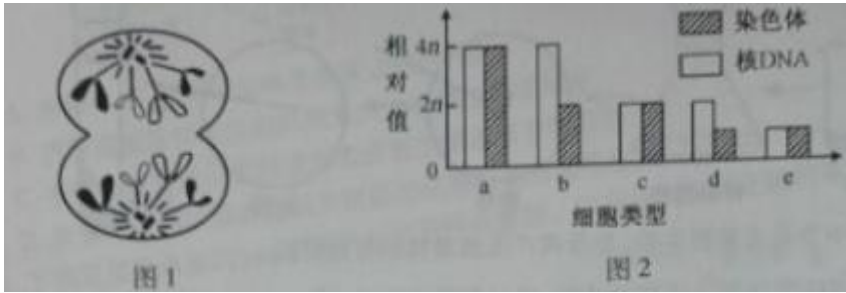


- (4) 为了调查 SCD 发病率及其遗传方式, 调查方法可分别选择为\_\_\_\_(填序号)。  
 ①在人群中随机抽样调查      ②在患者家系中调查  
 ③在疟疾疫区人群中随机抽样调查    ④对同卵和异卵双胞胎进行分析对比

(5) 若一对夫妇中男性来自  $\text{Hb}^A$  基因频率为 1%~5% 的地区, 其父母都是携带者; 女性来自  $\text{Hb}^S$  基因频率为 10%~20% 的地区, 她的妹妹是患者。请预测这对夫妇生下患病男孩的概率为\_\_\_\_\_。

31. (9分) 研究人员对珍珠贝 ( $2n$ ) 有丝分裂和减数分裂细胞中染色体形态, 数目和分布进行了观察分析,

图 1 为其细胞分裂一个时期的示意图（仅示部分染色体）。图 2 中细胞类型是依据不同时期细胞中染色体数和核 DNA 分子数的数量关系而划分的。请回答下列问题：



- (1) 图 1 中细胞分裂的方式和时期是，它属于图 2 中类型的细胞。
- (2) 若某细胞属于类型 c，取自精巢，没有同源染色体，那么该细胞的名称是。
- (3) 若类型 b、d、e 的细胞属于同一次减数分裂，那么三者出现的先后顺序是。

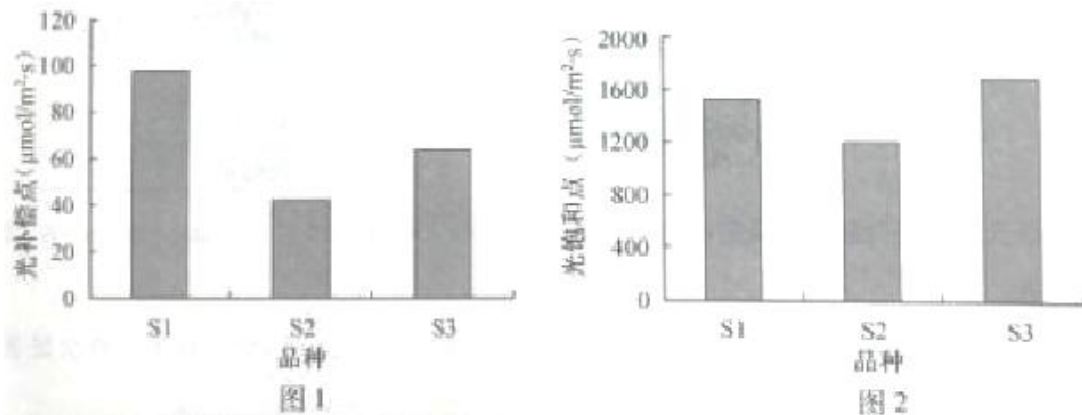
(4) 在图 2 的 5 种细胞类型中，一定具有同源染色体的细胞类型有。

(5) 着丝点分裂导致图 2 中一种细胞类型转变为另一种细胞类型，其转变的具体情况有（用图中字母表述）。

(6) 珍珠贝卵母细胞分裂一般停留在减数第一次分裂中期，待精子入卵后完成后续过程。

细胞松弛素 B 能阻滞细胞分裂而导致染色体数加倍，可用于诱导三倍体。现有 3 组实验：用细胞松弛素 B 分别阻滞卵母细胞的减数第一次分裂、减数第二次分裂和受精卵的第一次卵裂。请预测三倍体出现率最低的是，理由是。

32. (8 分) 为了选择适宜栽种的作物品种，研究人员在相同的条件下分别测定了 3 个品种 S1、S2、S3 的光补偿点和光饱和点，结果如图 1 和图 2。请回答以下问题：

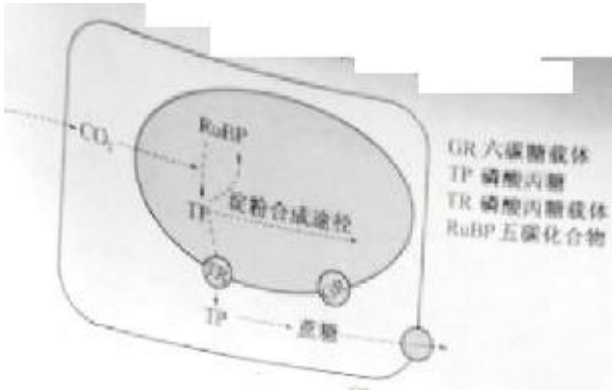


(1) 最适宜在果树林下套种的品种是▲，最适应较高光强的品种是▲。

(2) 增加环境中  $\text{CO}_2$  浓度后，测得 S2 的光饱和点显著提高，但 S3 的光饱和点却没有显著改变，原因可能是：在超过原光饱和点的光强下，S2 的光反应产生了过剩的▲，而 S3 在光饱和点时可能▲（填序号）。

(3) 叶绿体中光反应产生的能量既用于固定  $\text{CO}_2$ ，也参与叶绿体中生物大分子▲的合成。

(4) 在光合作用过程中， $\text{CO}_2$  与 RuBP ( ) 五碳化合物结合的直接产物是磷酸丙糖 (TP)，TP 的去向主要有三个。下图为叶肉细胞中部分代谢途径示意图。



淀粉是暂时存储的光合作用产物，其合成物所应该在叶绿体的▲。淀粉运出叶绿体时先水解成 TP 或▲，后者通过叶绿体膜上的载体运送到细胞质中，合成由▲糖构成的蔗糖，运出叶肉细胞。

33. (9分) 下表是几种限制酶识别序列及其切割位点，图1、图2中标注了相关限制酶的酶切位点，其中切割位点相同的酶不重复标注。请回答下列问题：

限制酶	<i>Bam</i> H I	<i>Bcl</i> I	<i>Sau</i> 3A I	<i>Hind</i> III
识别序列及切割位点	G↓GATC C	T↓GATC A	↓GATC	A↓AGCT T
	CCTAG↑G	ACTAG↑T	CTAG↑	TTCGA↑A

- 用图中质粒和目的基因构建重组质粒，应选用\_\_\_\_\_两种限制酶切割，酶切后的载体和目的基因片段，通过\_\_\_\_\_酶作用后获得重组质粒。为了扩增重组质粒，需将其转入处于\_\_\_\_\_态的大肠杆菌。
- 为了筛选出转入了重组质粒的大肠杆菌，应在筛选平板培养基中添加\_\_\_\_\_平板上长出的菌落，常用 PCR 鉴定，所用的引物组成为图 2 中\_\_\_\_\_。
- 若 *Bam*H I 酶切的 DNA 末端与 *Bcl* I 酶切的 DNA 末端连接，连接部位的 6 个碱基对序列为，对于该部位，这两种酶（填“都能”、“都不能”或“只有一种能”）切开。
- 若用 *Sau*3A I 切图 1 质粒最多可能获得\_\_\_\_\_种大小不同的 DNA 片段。