

机密★启用前

## 2022年辽宁省普通高等学校招生选择性考试

### 思想政治

注意事项:

1. 答卷前,考生务必将自己的姓名、准考证号填写在答题卡上。
2. 答选择题时,选出每小题答案后,用铅笔把答题卡对应题目的答案标号涂黑。如需改动,用橡皮擦干净后,再选涂其他答案标号。答非选择题时,将答案写在答题卡上。写在本试卷上无效。
3. 考试结束后,将本试卷和答题卡一并交回。

一、选择题:本题共16小题,每小题3分,共48分。在每小题给出的四个选项中,只有一个是符合题目要求的。

1. 李大钊曾说,马克思主义是“世界改造原动的学说”,但必须研究它“怎样应用于中国今日的政治经济情形”。毛泽东指出,“离开中国特点来谈马克思主义,只是抽象的空洞的马克思主义”。习近平指出,“坚持用马克思主义之‘矢’去射新时代中国之‘的’”。这些论述强调( )

- ①马克思主义为人类社会发展进步指明方向
- ②马克思主义是为人类求解放的人民的理论
- ③党必须不断推进马克思主义中国化时代化
- ④马克思主义是不断发展的开放的理论

A. ①②                      B. ①④                      C. ②③                      D. ③④

2. 改革开放以来,我们既不走封闭僵化的老路,也不走改旗易帜的邪路,依靠人民群众创造了伟大奇迹,实现了从生产力相对落后到经济总量跃居世界第二的历史性突破,全面建成了小康社会,开启了全面建设社会主义现代化国家新征程。这表明( )

- ①改革开放必须坚持走中国特色社会主义道路
- ②改革开放必须突破制度约束,解放和发展生产力
- ③人民群众是改革开放的实践者、参与者和贡献者
- ④改革开放是我国取得一切成绩和进步的根本原因

A. ①②                      B. ①③                      C. ②④                      D. ③④

3. 辽宁是抗日战争起始地、解放战争转折地、新中国国歌素材地、抗美援朝出征地、共和国工业奠基地、雷锋精神发祥地,与党的民族复兴伟业同频共振,孕育和传承的红色基因融入辽宁人民的血脉,书写了辉煌与荣光。上述成就的取得在于辽宁( )

- ①始终坚定不移地坚持中国共产党的坚强领导
- ②坚持以中国特色社会主义思想引领前进方向

- ③致力于中华民族有史以来最深刻的社会变革  
④人民具有中华民族勇敢坚毅和忠诚担当的品质

A. ①②                      B. ①④                      C. ②③                      D. ③④

4. 钢铁企业A（央企）和B（地方国企）重组，地方国资委将所持B企业51%股权无偿划转给A企业。两家企业在铁矿资源储备和采选技术方面都有优势，重组后可推进钢铁板块和铁矿石板块整合运作，粗钢产能将跃居世界第三。该重组有利于（     ）

- ①提高国有资本在钢铁行业中占比，放大国有资本功能  
②实现A、B公司股权多元化，激发国有企业市场活力  
③增加铁矿石供给，维护钢铁行业产业链供应链的稳定  
④提升产业集中度，推动钢铁产业布局优化和结构调整

A. ①②                      B. ①③                      C. ②④                      D. ③④

5. 药品集中带量采购是采购机构以公开招标的形式，用“团购”方式向药品供应商购买明确数量的药品。

第六批国家集采药品上市后，患者惊喜发现，胰岛素价格普遍降幅超过一半。下列关于“集采”的传导过程正确的是（     ）

- ①中标药企和医院的获利空间被压缩  
②药品采购过程中的非必要环节减少  
③药企和医院参与分摊医疗保障责任  
④采用大范围的药企竞价或议价模式  
⑤中标药品的采购价格回归合理区间

A. ②→④→①→③                      B. ④→③→①→⑤  
C. ②→③→④→⑤                      D. ④→②→⑤→③

6. 2022年3月30日，习近平总书记第10次参加首都义务植树活动，倡导人人爱绿植绿护绿的文明风尚。

党坚持林草兴则生态兴理念，带领人民开展国土绿化，改善城乡人居环境，完善生态环境法律法规体系，美丽中国正在不断变为现实。材料表明（     ）

- ①倡导人人爱绿植绿护绿的文明风尚是法治政府的职能  
②党在推动美丽中国的建设中坚持科学执政和依法执政  
③改进党对生态文明建设的领导方式旨在坚持民主执政  
④促进绿色发展要不断增强全民的生态意识和劳动意识

A. ①②                      B. ①③                      C. ②④                      D. ③④

7. 为推动乡村振兴战略实施，某市在一批边远且经济相对落后的村、社区设立人大代表工作室。以此为依

托，人大代表联系相关职能部门，及时解决群众急难愁盼问题。充分发挥人大代表工作室功能有利于（ ）

- ①协助所在地方党委改进和推进工作
- ②人大代表在村、社区行使国家权力
- ③加强群众、政府、人大之间的联系
- ④人大代表在人大闭会期间依法履职

A. ①②                      B. ①③                      C. ②④                      D. ③④

8. 某区在下辖乡镇打造多家“和顺茶馆”，邀请党员、群众及法律工作者担任人民调解员。当居民、商家、游客发生利益纠纷时，调解员以茶馆为载体，为其提供便捷、专业的服务，从而有效化解社会矛盾。这种做法（ ）

- ①为人民群众提供了有效的法律援助
- ②充分体现了共建共管共治共享理念
- ③实现了自治、法治、德治“三治融合”
- ④创设了舒缓环境，使社会治理有温度

A. ①③                      B. ①④                      C. ②③                      D. ②④

9. 漫画蕴含的哲学道理是（ ）



(作者：程远)

- ①欲借风力须顺风势
- ②任运自在随风飘荡
- ③驾伞乘风去我所向
- ④逆势而动方得如愿

A. ①②                      B. ①③                      C. ②④                      D. ③④

10. 2021 年入选中国“百年百大考古发现”的合浦汉墓群印证了史籍关于汉代海上丝绸之路的记载，其中出土大量来自东南亚、南亚及地中海等区域的玻璃器。广西合浦作为航线东端起点，虽地处相对落后的边陲，其玻璃器制作水平却高于中原。可见（ ）

- ①海上丝绸之路沿线存在着跨区域的文化与技术交流
- ②合浦所处的地理位置构成了其与外界联系的不利条件

③海上丝绸之路是人们出于需要基于实际建立的人为联系

④合浦玻璃器制作水平提高表明海上丝绸之路目标的实现

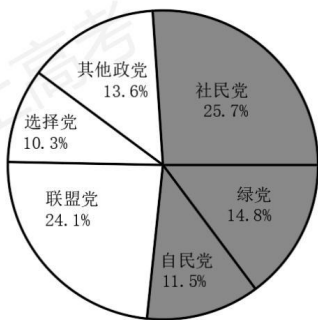
- A. ①③                      B. ①④                      C. ②③                      D. ②④

11. “关关雎鸠，在河之洲。窈窕淑女，君子好逑。”（《诗经·关雎》）汉代统治者以此诗教化天下夫妇遵守封建道德规范以维护社会秩序。汉之后它有时也被看作情诗。今天我们将其理解为爱情中青年男女平等尊重的恋歌。对《关雎》的不同理解（    ）

- ①构成了不同时代各自独立意义的系统
- ②体现社会制度与其主导的价值观的根本一致
- ③表明艺术和经济基础之间存在直接对应关系
- ④反映了不同社会的经济关系和政治关系

- A. ①②                      B. ①③                      C. ②④                      D. ③④

12. 某国大选各主要政党支持率如图所示。社民党积极回应选民社保诉求，获得了 26%的工人群体和 23%的失业群体的支持。因所获议席未过半数，社民党最终与绿党、自民党组成新一届联合政府，该党候选人出任总理。由此可见（    ）



- ①选举结果凸显了该国碎片化的政党格局
- ②联合执政旨在平衡政党之间的利益关系
- ③该国政府要接受议会监督并定期向议会报告工作
- ④社民党执政的原因是其代表了工人和失业群体的利益

- A. ①③                      B. ①④                      C. ②③                      D. ②④

13. 2022 年 1 月，“粮农组织——中国南南合作计划”第三期正式启动。中国将向粮农组织捐赠 5000 万美元，围绕减贫、粮食安全等领域，加快落实联合国“2030 年可持续发展议程”。这表明中国（    ）

- ①同国际社会一道推进全球发展事业
- ②为应对全球粮食安全贡献中国方案

③与联合国主要机构合作完善粮农治理

④以实际行动践行人类命运共同体理念

A. ①②

B. ①④

C. ②③

D. ③④

14. 小曹在打印硕士毕业论文时遗落U盘，其同班同学小孙发现后，将U盘中小曹的搞怪视频上传到校内网论坛，引发学生围观，评论不乏挖苦调侃，导致小曹抑郁。学校知道后立即删除帖子并对小孙进行批评教育。下列说法正确的是（ ）

①小孙侵害了小曹的隐私权，但未侵害其身体权

②小孙父母应对小孙侵权行为依法承担民事责任

③责任承担可以采取赔礼道歉、消除影响的方式

④若小曹向法院提起诉讼，应适用举证责任倒置

A. ①③

B. ①④

C. ②③

D. ②④

15. “双减”政策实施后，小玲妈妈为高一的小玲报名寒假兴趣班，微信记录如图所示。小玲去上课时被要求在报名表上签字，其上记载：课费不退。后受疫情影响小玲未能完成剩余9次课程，小玲妈妈向兴趣班主张退费被拒，遂诉诸法院。本案中（ ）



①销售人员发送价目表的行为是要约邀请，具有法律约束力

②合同在回复“好的”时成立，“课费不退”不作为合同内容

③合同自小玲签字时生效，可以主张不可抗力请求退费

④合同系以书面形式订立，微信记录构成电子数据证据

A. ①②

B. ①③

C. ②④

D. ③④

16. 随着“神舟十三”搭载物的出舱，太空种子重新成为关注焦点。太空种子是指通过精选作物种子，经由航天器搭载到太空，在空间特殊环境下经过航天诱变使种子发生基因突变，然后再到地面进行优选培育出来的种子。由此推出一定为真的是（ ）

①有的太空种子不是经过航天诱变培育出来的

②所有太空种子都是经过航天诱变培育出来的

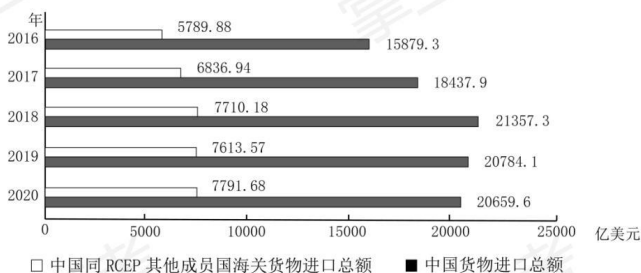
- ③有的经过航天诱变培育出来的种子是太空种子  
④所有经过航天诱变培育出来的种子都是太空种子

A. ①②                      B. ①④                      C. ②③                      D. ③④

二、非选择题：本题共 4 小题，共 52 分。

17. 阅读材料，完成下列要求

材料一 2022 年 1 月 1 日，《区域全面经济伙伴关系协定》（RCEP）在中国正式生效实施。RCEP 规则中加入了电子商务、政府采购、竞争等议题，提高了知识产权等议题的承诺水平。RCEP 的生效实施不仅将逐步实现区域内 90% 以上的货物贸易零关税，而且有利于发挥区域内成员国比较优势，形成区域内产业链、供应链的闭环。



□ 中国同 RCEP 其他成员国海关货物进口总额    ■ 中国货物进口总额

中国货物进口总额和中国同 RCEP 其他成员国海关货物进口总额

材料二 习近平总书记指出，构建新发展格局要避免“各自为政、画地为牢，不关心建设全国统一的大市场、畅通全国大循环，只考虑建设本地区本区域小市场、搞自己的小循环”。2022 年 3 月 25 日，《中共中央国务院关于加快建设全国统一大市场的意见》正式印发，明确提出建设全国统一大市场是构建新发展格局的基础支撑和内在要求。《意见》指出，建设全国统一大市场的主要目标是持续推动国内市场高效畅通和规模拓展、加快营造稳定公平透明可预期的营商环境、进一步降低市场交易成本、促进科技创新和产业升级、培育参与国际竞争合作新优势。

- (1) 运用当代国际政治与经济知识，解读材料一中的经济信息。  
(2) 结合材料一和材料二，运用经济与社会知识，谈谈 RCEP 生效实施与建设全国统一大市场在提升资源配置效率方面有哪些共通的突破点。

18. 阅读材料，完成下列要求

党的十九届六中全会通过的《中共中央关于党的百年奋斗重大成就和历史经验的决议》指出，“国泰民安是人民群众最基本、最普遍的愿望”“保证国家安全是头等大事”。

当新冠疫情爆发时，我们统筹医护人员和医疗物资调度，打击疫情期间的各类犯罪活动；当中印边界危机发生时，我们稳妥处置加勒万河谷事件，捍卫领土主权；当国外安全形势恶化时，我们组织中国公民有序撤离……国家坚定地维护着政治、经济、军事、文化、社会、信息等各方面安全。人民群众对国家安

全工作的满意度越来越高，越来越多的人认识到中国是世界上最安全的国家之一。

国家安全一切为了人民，一切依靠人民。洪水席卷而来时，共产党员投身防汛一线，共筑安全堤坝；突发公共安全事件时，民警全力应对，日夜值守，保障辖区安全；军港被暗中拍摄时，有市民依据国家保密法，拨打12339举报电话……正是人人守护家园，众志成城，才有了国家兴旺发达、长治久安。

结合材料，运用政治与法治知识，说明中国为什么能成为世界上最安全的国家之一。


19. 阅读材料，完成下列要求

沈某大学毕业后与周某共同投资设立“某市创美创意有限责任公司”。公司成立恰逢全国“两会”，沈某了解到神舟十五号将在年底前与神舟十四号在太空“会师”，于是决定以“神舟美绘”为主题，采用抽象画的方式呈现会师美景，并应用于创意解压系列产品。客户对此颇为青睐，遂与创美公司签订《独家许可使用合同》。创美公司要求全体员工对产品研创严格保密。两个月后产品研创成功，在准备履行合同时，发现市面上出现画样几近相同的抱枕。经调查：员工徐某在朋友圈发工作照片时带入该画样，朋友孙某点赞转发后，被A公司发现并用于自己的产品。客户遂主张违约责任。

结合材料，运用法律与生活知识，分析创美公司是否有权向A公司、孙某、徐某请求承担责任；若创美公司全部财产不足以承担违约责任，沈某和周某是否承担清偿责任。请分别说明理由。

20. 阅读材料，完成下列要求

掷铁饼是一项古老的奥林匹克项目。以掷铁饼为题材的经典雕塑作品，从艺术的视角展示奥林匹克文化，阐释和传递奥林匹克精神。



掷铁饼者【希腊】米隆 永恒的运转【中国】李象群 挑战【中国】俞畅

《掷铁饼者》是希腊雕塑家米隆创作于约公元前450年的作品，被誉为古希腊雕塑艺术的里程碑。这尊雕塑展示了希腊式掷铁饼方式，把人体的和谐、健美和青春的力量表达得淋漓尽致，被认为是“空间中凝固的永恒”。它超越传统对称的表达方式，强调动感，体现着人类对奥林匹克精神的不懈追求。它所凝结的力与美至今依然深深地影响和感染着我们。

《永恒的运转》是中国著名雕塑家李象群创作于1993年的作品，被瑞士洛桑国际奥委会博物馆收藏。受古希腊雕塑风格影响，又加入了汉唐元素和陶艺手法，作品以女孩的自由式旋转投掷方式展现东方艺术

的典雅韵味，圆润的运动轨迹折射出人与自然的和谐共生，艺术和体育相互融合，展现奥林匹克精神生生不息。

《挑战》是中国雕塑家俞畅创作于1989年的成名作。雕塑通过简洁有力的手法，刻画了一位果敢坚毅的掷铁饼者形象。作品借鉴《掷铁饼者》的动作和势态，表现一个残疾人坐在轮椅上掷铁饼的瞬间，呈现出一种震撼人心的生命律动，给予人们不屈的力量、不服的决心、不灭的希望，奏响一首命运交响曲。

三尊雕塑承载了体育精神，运转的铁饼诠释了更快、更高、更强、更团结的奥林匹克格言，高高举起的手臂展现了青春该有的样子。

(1) 三尊雕塑都蕴含了人类的共同精神却各具特色。结合材料，分析《掷铁饼者》与《永恒的运转》所体现的共性与个性的关系。

(2) 结合材料，运用逻辑与思维中关于认识发展历程的知识，谈谈你对《挑战》的理解。

(3) 结合材料，运用文化知识，以“青春该有的样子”为题，畅想青春。

要求：主题鲜明，表述清晰，逻辑严谨，字数150-200字。